

3



République Arabe d'Egypte
Ministère de L'Education et
de L'Enseignement
Secteur du livre

MATHÉMATIQUES

Troisième préparatoire

Livre de l'élève

Premier semestre

MATHÉMATIQUES

Livre de l'élève

Troisième préparatoire

Premier semestre

- “ Fais de ton étude des mathématiques un travail intéressant et bénéfique qui a ses applications dans ta vie quotidienne.
- “ Nous avons présenté le contenu mathématique d'une manière simple pour t'aider à construire tes connaissances mathématiques et à acquérir des méthodes de raisonnement convenables.
- “ Nous avons montré l'importance du rôle des mathématiques dans les autres domaines scientifiques.

الشروقة
الحديثة للطباعة والتغليف



غير مصرح بتداول هذا الكتاب
خارج وزارة التربية والتعليم

2015 – 2016

3



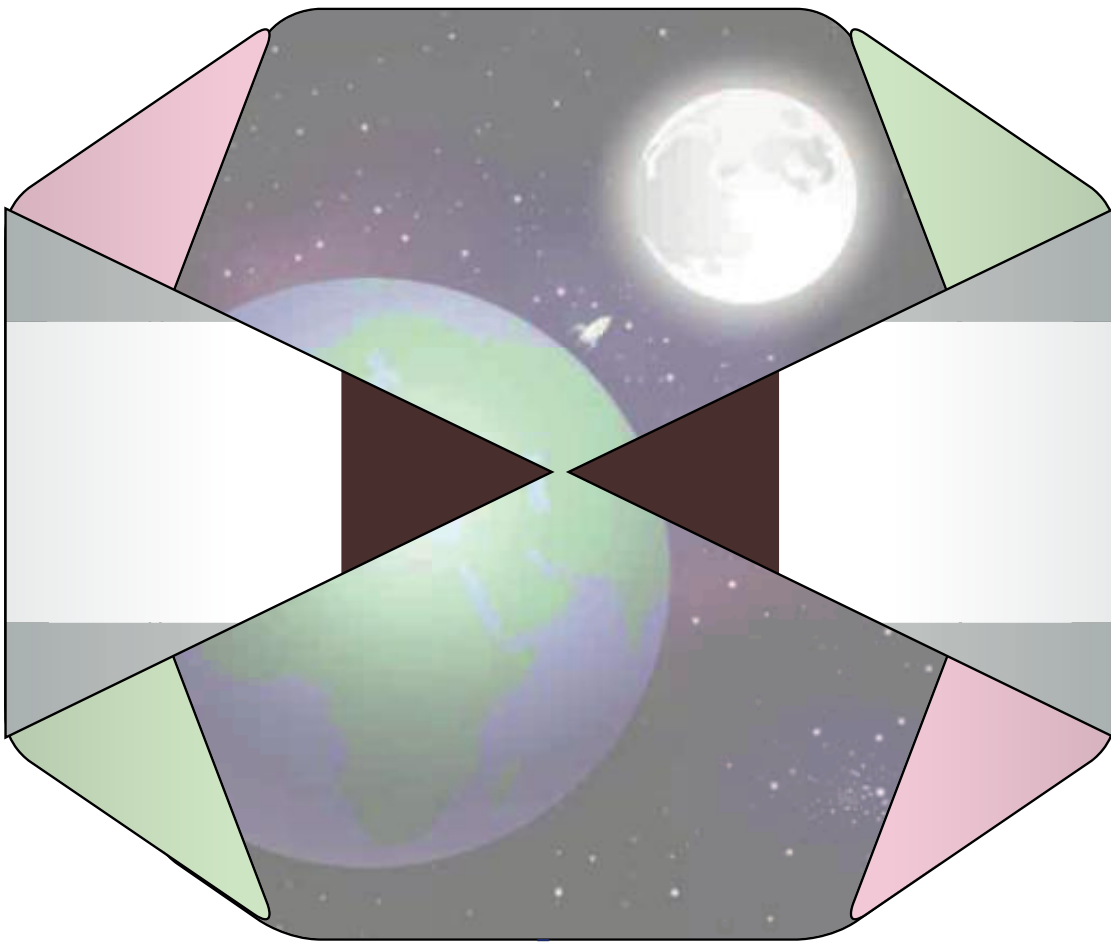
République Arabe d'Egypte
Ministère de L'Education et
de L'Enseignement
Secteur du livre

MATHÉMATIQUES

Troisième préparatoire

Livre de l'élève

Premier semestre



2015 _ 2016

غير مصرح بتداول هذا الكتاب خارج وزارة التربية والتعليم

بِسْمِ اللَّهِ الرَّحْمَنِ الرَّحِيمِ

Rédigé par

M. Omar Fouad Gaballa

Prof.Dr. **Afaf Abo-ElFoutoh Salah**

Dr. **Essam Wasfy Rouphaiel**

M. **Serafiem Elias Skander**

M. **Kamal Yones Kabsha**

**Traduction révisée par
l'Institut Français d'Egypte
IFE**

Première Édition : 2010
Dépôt légal No : 8925/2010
I.S.P.N: 978-977-705-000-5



Introduction

Cher élève,

Nous avons le plaisir de te présenter le manuel de mathématiques de troisième préparatoire. Nous avons tenu à faire de l'apprentissage des mathématiques un travail intéressant et utile qui a son application dans la vie pratique et dans l'apprentissage des autres matières scolaires afin que tu sentes l'importance de l'étude des mathématiques et sa valeur et que tu apprécies le rôle des mathématiciens. Ce manuel présente les activités comme éléments essentiels, et nous avons essayé de présenter le contenu scientifique d'une manière simple pour t'aider à construire tes connaissances mathématiques et à acquérir des méthodes de raisonnements convaincables qui favorisent la créativité.

Ce manuel comporte plusieurs unités et chaque unité comporte plusieurs leçons, les images et les couleurs sont utilisées pour illustrer les notions mathématiques, les propriétés des figures, en utilisant un langage facile et adapté qui tient compte des connaissances acquises. Nous avons également tenu à t'entraîner à découvrir les connaissances visées pour développer ta capacité à l'auto apprentissage. La calculatrice et l'ordinateur sont utilisés à chaque fois que l'occasion se présente. Chaque leçon comporte des exercices et chaque unité comporte des exercices généraux, des activités concernant le portfolio et une épreuve. A la fin du manuel, nous proposons des épreuves générales, pour t'aider à réviser la totalité du programme, et des indications pour les réponses de certains exercices.

Nous espérons que ce travail sera bénéfique pour toi et pour notre chère Egypte.

Les auteurs

Sommaire

Algèbre

Unité 1: Relations et fonctions

(1 - 1) Produit cartésien	2
(1 - 2) Relations	9
(1 - 3) Fonction (application)	12
(1 - 4) Fonctions polynômes	15
Epreuve de l'unité	20

Unité (2) : Rapport et proportion – variation directe et variation inverse

(2 - 1) Rapport	22
(2 - 2) Proportion	24
(2 - 3) Variation directe et variation inverse	30
Epreuve de l'unité	36

Statistique

Unité (3) : Statistique

(3 - 1) Recueils de données	38
(3 - 2) Dispersion	41
Epreuve de l'unité	50



Trigonométrie

Unité (4) : Trigonométrie

(4 - 1) Rapports trigonométriques d'un angle aigu	52
(4 - 2) Rapports trigonométriques de quelques angles	56
Epreuve de l'unité	62

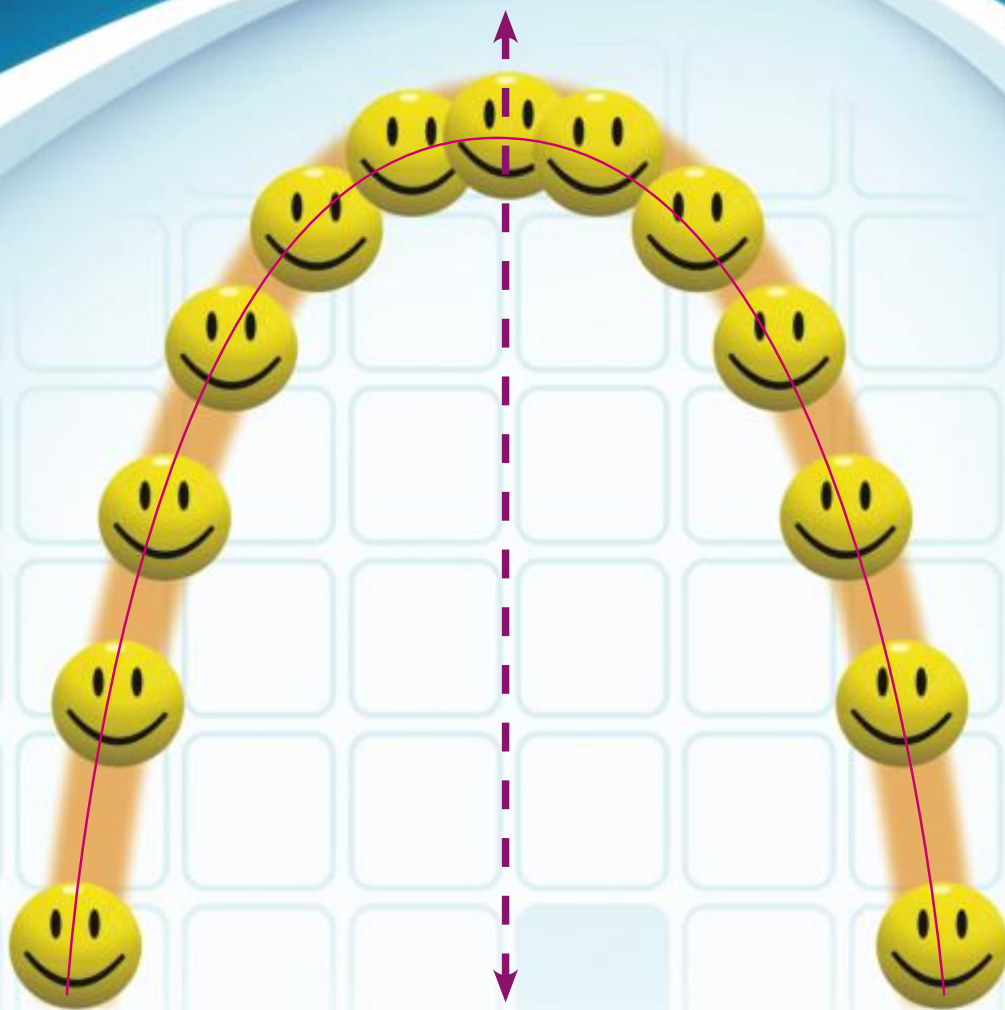
Géométrie analytique

Unité (5) : Géométrie analytique

(5 - 1) Distance entre deux points	64
(5 - 2) Coordonnées du milieu d'un segment	69
(5 - 3) Pente d'une droite	73
(5 - 4) Equation d'une droite connaissant sa pente et l'ordonnée de son point intersection avec l'axe des ordonnées	79
Epreuve de l'unité	84
Réponses	85
Exercices généraux	86
Modèles d'examens	99

SYMBOLES MATHÉMATIQUES UTILISÉS

\mathbb{N}	ensemble des nombres naturels	\perp	perpendiculaire à
\mathbb{Z}	ensemble des nombres entiers	$//$	parallèle à
\mathbb{Q}	ensemble des nombres rationnels	\overline{AB}	le segment AB
\mathbb{Q}'	ensemble des nombres irrationnels	\overrightarrow{AB}	la demi-droite AB
\mathbb{R}	ensemble des nombres réels	$\leftrightarrow AB$	la droite AB
\sqrt{a}	racine carré de a	$m(\angle A)$	mesure de l'angle A
$\sqrt[3]{a}$	racine cubique de a	$m(\widehat{AB})$	mesure de l'arc AB
$[a, b]$	intervalle fermé	\sim	semblable à
$]a, b[$	intervalle ouvert	$>$	plus grand que
$[a, b[$	intervalle semi-fermé	\geq	plus grand ou égal à
$]a, b]$	intervalle semi-ouvert	$<$	plus petit que
$[a, +\infty[$	intervalle illimité	\leq	plus petit ou égal à
\equiv	superposition	$p(A)$	probabilité de l'événement A
$\text{card}(A)$	nombre d'éléments de A	\bar{x}	moyenne arithmétique
E	espace des éventualités	σ	écart type
Σ	somme		



Un joueur a lancé un ballon qui a suivi le trajet indiqué par la figure ci-dessus.

Cette courbe représente une fonction, que tu étudieras, appelée une fonction du second degré.

Produit cartésien



A apprendre

- ☆ Comment trouver le produit cartésien de deux ensembles non vides.

Expressions de base :

- ☆ Couple
- ☆ Produit cartésien
- ☆ Diagramme sagittal
- ☆ Diagramme cartésien
- ☆ Relation

Réfléchis et discute

Nous avons déjà étudié la relation entre deux variables x et y .

- 1 Trouve l'ensemble des couples vérifiant la relation : $y = 2x - 1$ pour $x = 0$, $x = 1$ et $x = 2$
- 2 Représente ces couples graphiquement dans un repère cartésien.
- 3 Est-ce que le couple $(3, 5)$ est égal au couple $(5, 3)$?
(Aide-toi de la figure).

De ce qui précède, on remarque que :

- 1 Dans un couple (a, b) , a est appelée la première composante du couple et b est appelée la deuxième composante du couple.
- 2 Tout couple est représenté par un point et un seul dans un repère cartésien.
- 3 Si $a \neq b$, alors $(a, b) \neq (b, a)$, Pourquoi ?
- 4 $(a, b) \neq \{a, b\}$.
- 5 Si $(a, b) = (x, y)$, alors $a = x$, $b = y$



Exemple 1

Si : $(x - 2, 3) = (5, y + 1)$, trouve la valeur de x et y

Solution

$$x - 2 = 5 \quad \therefore x = 7 \quad \text{et} \quad 3 = y + 1 \quad \therefore y = 2$$



Pour t'entraîner :

Trouve la valeur de a et b dans chacun des cas suivants :

- | | |
|------------------------------|---------------------------------|
| A $(a, b) = (-5, 9)$ | B $(a - 2, b + 1) = (2, -3)$ |
| C $(6, b - 3) = (2 - a, -1)$ | D $(a - 7, 26) = (-2, b^3 - 1)$ |



Exemple 2

Si $X = \{a, b\}$ et $Y = \{-1, 0, 3\}$, trouve : $X \times Y$ et $Y \times X$, **Que remarques-tu ?**

Solution

Pour trouver le produit cartésien des deux ensembles X et Y , noté $X \times Y$, on écrit l'ensemble de tous les couples ayant pour première composante un élément de X , et pour deuxième composante un élément de Y .

De même : $X \times Y = \{a, b\} \times \{-1, 0, 3\} = \{(a, -1), (a, 0), (a, 3), (b, -1), (b, 0), (b, 3)\}$

$Y \times X = \{-1, 0, 3\} \times \{a, b\} = \{(-1, a), (-1, b), (0, a), (0, b), (3, a), (3, b)\}$

On remarque que : $X \times Y \neq Y \times X$

On peut obtenir $X \times Y$ et $Y \times X$ à partir des deux tableaux suivants :

×		Deuxième composante		
		-1	0	3
Première composante	a	(a, -1)	(a, 0)	(a, 3)
	b	(b, -1)	(b, 0)	(b, 3)

×		Deuxième composante	
		a	b
Première composante	-1	(-1, a)	(-1, b)
	0	(0, a)	(0, b)
	3	(3, a)	(3, b)

Réfléchis :

- 1 Dans quelles conditions a-t-on $X \times Y = Y \times X$?
- 2 $X \times Y$ et $Y \times X$ ont-ils le même nombre d'éléments ?

Remarques :

- 1 Si X et Y sont deux ensembles finis non vides, alors :

$$X \times Y = \{(a, b) : a \in X, b \in Y\}$$
- 2 $X \times Y \neq Y \times X$ où : $X \neq Y$

$$\text{card}(X \times Y) = \text{card}(Y \times X) = \text{card}(X) \times \text{card}(Y)$$
 où « card » désigne le nombre d'éléments d'un ensemble.
- 3 Si $(k, m) \in X \times Y$, alors $k \in X$ et $m \in Y$
- 4 Si X est un ensemble non vide, alors :

$$X \times X = \{(a, b) : a \in X, b \in X\}$$
 peut s'écrire X^2 et qui se lit « **X deux** ».



Exemple 3

Si $X = \{1\}$, $Y = \{2, 3\}$ et $Z = \{2, 5, 6\}$, représente les ensembles X , Y et Z par un diagramme de Venn, puis trouve :

1 A $X \times Y$

B $Y \times Z$

C $X \times Z$

D Y^2

2 $(X \times Y) \cup (Y \times Z)$

3 $X \times (Y \cap Z)$

4 $(X \times Y) \cap (X \times Z)$

5 $(Z - Y) \times (X \cup Y)$

Solution

1 A $X \times Y = \{1\} \times \{2, 3\} = \{(1, 2), (1, 3)\}$

B $Y \times Z = \{2, 3\} \times \{2, 5, 6\}$

$= \{(2, 2), (2, 5), (2, 6), (3, 2), (3, 5), (3, 6)\}.$

C $X \times Z = \{1\} \times \{2, 5, 6\} = \{(1, 2), (1, 5), (1, 6)\}$

D $Y^2 = Y \times Y = \{2, 3\} \times \{2, 3\}$

$= \{(2, 2), (2, 3), (3, 2), (3, 3)\}$

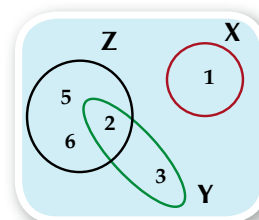
2 $(X \times Y) \cup (Y \times Z) = \{(1, 2), (1, 3), (2, 2), (2, 5), (2, 6), (3, 2), (3, 5), (3, 6)\}$

3 $X \times (Y \cap Z) = \{1\} \times \{2\} = \{(1, 2)\}$

4 $(X \times Y) \cap (X \times Z) = \{(1, 2), (1, 3)\} \cap \{(1, 2), (1, 5), (1, 6)\} = \{(1, 2)\}.$

5 $Z - Y = \{5, 6\} \quad \therefore (Z - Y) \times (X \cup Y) = \dots\dots\dots$

Complète



Pour t'entraîner :

Si $X = \{2, -1\}$, $Y = \{4, 0\}$ et $Z = \{4, 5, -2\}$, trouve :

A $X \times Y$

B $Y \times Z$

C X^2

D $\text{card}(X \times Z)$

E $\text{card}(Y^2)$

F $\text{card}(Z^2)$

Représentation du produit cartésien :



Exemple 4

1 Si $X = \{1, 2\}$ et $Y = \{3, 4, 5\}$, **trouve** : $X \times Y$, puis représente-le par :

a) Un diagramme sagittal.

b) Un diagramme cartésien.

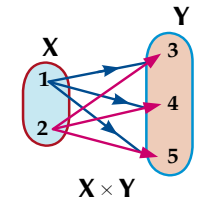
Solution

$$X \times Y = \{1, 2\} \times \{3, 4, 5\} = \{(1, 3), (1, 4), (1, 5), (2, 3), (2, 4), (2, 5)\}$$

Le produit cartésien $X \times Y$ peut être représenté par un diagramme sagittal ou par un diagramme cartésien comme suit :

1 Le diagramme sagittal

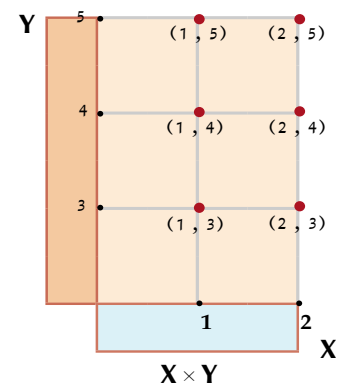
On trace une flèche de chaque élément de la première composante (les éléments de l'ensemble X) vers chaque élément de la deuxième composante (les éléments de l'ensemble Y)



Donc, le diagramme sagittal du produit cartésien représente chaque couple par une flèche partant de la première composante vers la deuxième composante.

2 Le diagramme cartésien (le quadrillage graphique orthogonal) :

Sur un quadrillage graphique orthogonal, on représente les éléments de l'ensemble X sur l'axe horizontal et l'ensemble Y sur l'axe vertical. Les points d'intersection des droites horizontales avec les droites verticales représentent les couples éléments du produit cartésien $X \times Y$.



Exemple 5

Si $X = \{3, 4, 8\}$, trouve $X \times X$, puis représente-le par un diagramme sagittal.

Solution

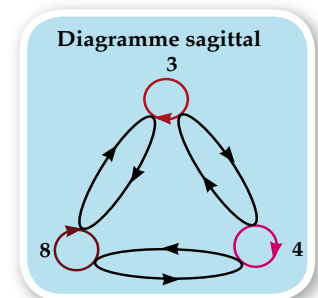
$$X \times X = \{3, 4, 8\} \times \{3, 4, 8\}$$

$$= \{(3, 3), (3, 4), (3, 8), (4, 3), (4, 4), (4, 8), (8, 3), (8, 4), (8, 8)\}.$$

Dans la figure, on remarque que les couples sont représentés par des flèches et que les couples ayant deux composantes égales comme $(3, 3)$, $(4, 4)$ et $(8, 8)$ sont représentés par des boucles pour indiquer que chaque flèche part d'un point vers lui-même.

On remarque également que : $\text{card}(X) = 3$, d'où $\text{card}(X \times X) = 3 \times 3 = 9$

Dans ce cas, le produit cartésien $X \times X$ est représenté graphiquement par neuf points et chaque point représente un couple. Si X est un ensemble infini (qui a une infinité d'éléments), alors : le nombre d'éléments de $X \times X$ est infini.



Réfléchis : Comment peut-on représenter les produits cartésiens suivants ?

$$\mathbb{N} \times \mathbb{N}, \mathbb{Z} \times \mathbb{Z}, \mathbb{Q} \times \mathbb{Q} \text{ et } \mathbb{R} \times \mathbb{R}.$$

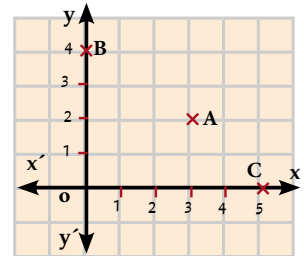
Le produit cartésien de deux ensembles infinis et sa représentation :

1 Pour représenter le produit cartésien $\mathbb{N} \times \mathbb{N} = \{(x, y) : x \in \mathbb{N}, y \in \mathbb{N}\}$

1 On trace deux droites perpendiculaires dont l'une est la droite horizontale $\overleftrightarrow{x x'}$ et l'autre est la droite verticale $\overleftrightarrow{y y'}$ qui se coupent au point o.

2 On représente les nombres naturels \mathbb{N} sur chacune des deux droites en partant du point 0 qui représente le nombre zéro.

3 On trace des droites verticales et d'autres horizontales passant par les points qui représentent les nombres naturels. On obtient la figure ci-contre. Les points d'intersection de ces droites les unes avec les autres représentent le quadrillage graphique orthogonal du produit cartésien $\mathbb{N} \times \mathbb{N}$.



On remarque que : Tout point du quadrillage représente un couple du produit cartésien $\mathbb{N} \times \mathbb{N}$.

Par exemple : le point A représente le couple (3, 2) et le point B représente le couple (0, 4).

Complète : Le point C représente le couple (... , ...) , et le point o représente le couple (... , ...).

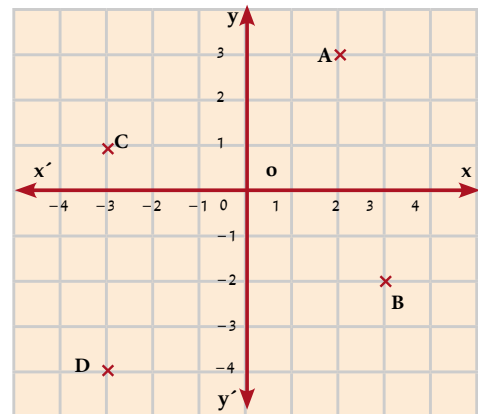
2 Pour représenter le produit cartésien

$$\mathbb{Z} \times \mathbb{Z} = \{(x, y) : x \in \mathbb{Z}, y \in \mathbb{Z}\}.$$

On représente l'ensemble des nombres entiers sur la droite horizontale et sur la droite verticale où le point o représente le couple (0, 0).

Dans ce cas , tout point du quadrillage représente un couple du produit cartésien $\mathbb{Z} \times \mathbb{Z}$.

Ce quadrillage est appelé « le repère cartésien $\mathbb{Z} \times \mathbb{Z}$ ».



Détermine les couples représentant les points A , B , C et D dans le quadrillage graphique précédent.

3 Pour représenter le produit cartésien $\mathbb{Q} \times \mathbb{Q} = \{(x, y) : x \in \mathbb{Q} \text{ et } y \in \mathbb{Q}\}$

Trace un quadrillage graphique orthogonal, puis représente l'ensemble des nombres rationnels \mathbb{Q} sur la droite horizontale et sur la droite verticale. Sur ce quadrillage , détermine les points :

$$A \left(3, \frac{5}{2} \right), B \left(-\frac{3}{2}, 4 \right), C \left(-3, -\frac{3}{2} \right) \text{ et } D \left(\frac{5}{2}, -\frac{3}{2} \right)$$

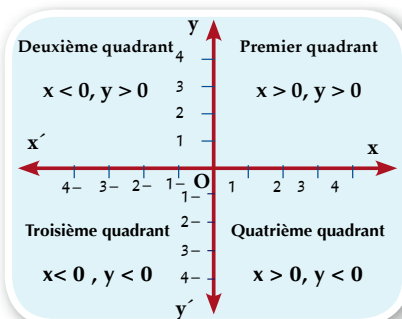
4 Représentation du produit cartésien $\mathbb{R} \times \mathbb{R} = \{(x, y) : x \in \mathbb{R} \text{ et } y \in \mathbb{R}\}$

On représente l'ensemble des nombres réels sur la droite horizontale et sur la droite verticale où le point O représente le couple (0, 0).

La droite $\overleftrightarrow{x x'}$ est appelée l'axe des abscisses ou l'axe des x

La droite $\overleftrightarrow{y y'}$ est appelée l'axe des ordonnées ou l'axe des y.

Le quadrillage est partagé en quatre quadrants comme le montre la figure ci-contre :



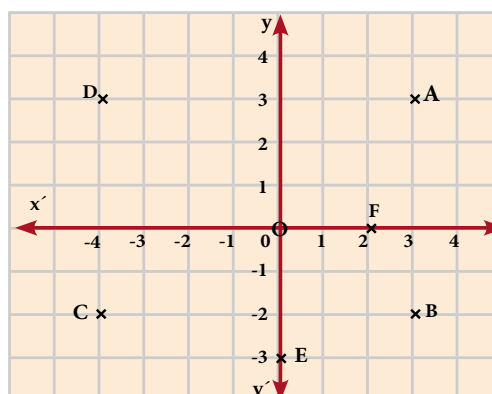
Exemple 6

Trace un quadrillage graphique orthogonal représentant le produit cartésien $\mathbb{R} \times \mathbb{R}$, puis cite le quadrant ou l'axe auquel appartient chacun des points suivants :

A (3, 3), B (3, -2), C (-4, -2), D (-4, 3), E (0, -3) et F(2, 0)

Solution

- A (3, 3) est situé dans le premier quadrant.
- B (3, -2) est situé dans le quatrième quadrant.
- C (-4, -2) est situé dans le troisième quadrant.
- D (-4, 3) est situé dans le deuxième quadrant.
- E (0, -3) est situé sur l'axe des ordonnées.
- F (2, 0) est situé sur l'axe des abscisses.



Pour t'entraîner :

Si $X = [-2, 3]$, détermine la région à laquelle appartient $X \times X$.

Lesquels des points suivants appartiennent à $X \times X$

A (1, 2), B (3, -1), C (-1, 4) et D (-2, 0) ?

Exercices 1-1

(1) Complète ce qui suit :

① Si $(a + 5, 3) = (8, b - 1)$, alors $a = \dots\dots\dots$ et $b = \dots\dots\dots$

② Si $(x^5, y + 1) = (32, \sqrt[3]{27})$, alors $x = \dots\dots\dots$ et $y = \dots\dots\dots$

3 Si $(x - 1, 11) = (8, y + 3)$, alors $\sqrt{x + 2y} = \dots\dots\dots$

4 Si $\text{card}(X^2) = 9$, alors $\text{card}(X) = \dots\dots\dots$

5 Si $X \times Y = \{(2, 6), (2, 9), (3, 6), (3, 9), (5, 6), (5, 9)\}$, alors
 $X = \dots\dots\dots$ et $Y = \dots\dots\dots$

(2) Choisis la bonne réponse parmi les réponses proposées :

1 Si $\text{card}(X) = 3$, $\text{card}(X \times Y) = 12$, alors $\text{card}(Y)$ est égal à : $\dots\dots\dots$

- A 4 B 9 C 15 D 36

2 Si $(3, 5) \in \{3, 6\} \times \{x, 8\}$, alors $x = \dots\dots\dots$

- A 8 B 6 C 5 D 3

3 Si le point $(5, b - 7)$ est situé sur l'axe des abscisses, alors $b = \dots\dots\dots$

- A 2 B 5 C 7 D 12

4 Si le point $(x - 4, 2 - x)$ où $x \in \mathbb{Z}$ est situé au troisième quadrant, alors x est égale à :

- A 2 B 3 C 4 D 6

(3)

1 Si $X = \{2, 3\}$ et $Y = \{3, 4, 5\}$, trouve :

- A $X \times Y$ et représente-le par un diagramme sagittal et un diagramme cartésien
 B $\text{card}(X \times Y)$ C $\text{card}(Y^2)$ D $(X \times Y) \cap Y^2$

2 Si $X \times Y = \{(1, 1), (1, 3), (1, 5)\}$, trouve :

- A X, Y B $Y \times X$ C Y^2

3 Si : $X = \{3, 4\}$, $Y = \{4, 5\}$ et $Z = \{6, 5\}$, trouve :

- A $X \times (Y \cap Z)$ B $(X - Y) \times Z$ C $(X - Y) \times (Y - Z)$

4 Sur un quadrillage graphique orthogonal du produit $\mathbb{R} \times \mathbb{R}$, détermine les points suivants :

A $(4, 5)$, B $(6, -3)$, C $(-2, 7)$, D $(-1, 6)$, E $(-4, -5)$, M $(0, 6)$, K $(9, 0)$

Dis ensuite à quel quadrant ou à quel axe appartient chacun de ces points.

Relations

1 - 2

Réfléchis et discute

Dans le cadre du festival « La lecture pour tous », cinq élèves représentés par l'ensemble $X = \{a, b, c, d, e\}$ sont allés à une bibliothèque pour lire quelques livres représentés par l'ensemble $Y = \{\text{sciences}, \text{littérature}, \text{culture}, \text{histoire}\}$. L'élève (a) a lu de sciences et un livre de culture. L'élève (b) a lu un livre de littérature. L'élève (c) a lu un livre de littérature. L'élève (e) a lu un livre d'histoire. L'élève (d) n'a lu aucun livre.

Reading for all



A apprendre

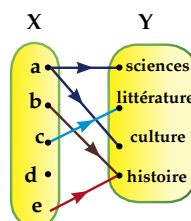
- ☆ La notion d'une relation d'un ensemble X à un ensemble Y .
- ☆ La notion d'une relation d'un ensemble X vers lui-même.

Expressions de base

- ☆ Relation.
- ☆ Graphe d'une relation.

Remarque que : L'expression « a lu » relie quelques éléments de l'ensemble X à quelques éléments de l'ensemble Y d'où l'expression « a lu » détermine une relation de l'ensemble X vers l'ensemble Y .

Une relation est habituellement symbolisée par la lettre R et cette relation peut être représentée par un diagramme sagittal comme l'indique la figure ci-contre où on trace une flèche partant d'un élève en allant vers le domaine du livre lu.



Nous pouvons exprimer la relation de X vers Y par l'ensemble des couples suivants :

$\{(a, \text{sciences}), (a, \text{littérature}), (b, \text{histoire}), (c, \text{littérature}), (e, \text{histoire})\}$

Cet ensemble de couples est appelé le graphe de la relation R .

Réfléchis : Est-ce que le graphe G de la relation R est un sous-ensemble du produit cartésien $X \times Y$?



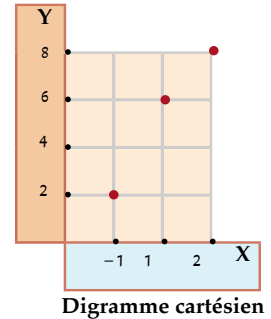
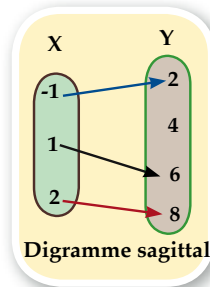
Exemple 1

Soient $X = \{-1, 1, 2\}$ et $Y = \{2, 4, 6, 8\}$, R est une relation de X vers Y où $a R b$ signifie que « $b = 2a + 4$ » pour tout $a \in X, b \in Y$.

Écris le graphe de R , puis représente-le par un diagramme sagittal et un diagramme cartésien.

Solution

Pour : $a = -1$ $\therefore b = 2 \times (-1) + 4 = 2$
 Pour : $a = 1$ $\therefore b = 2 \times 1 + 4 = 6$
 Pour : $a = 2$ $\therefore b = 2 \times 2 + 4 = 8$
 $\therefore R = \{(-1, 2), (1, 6), (2, 8)\}$



De ce qui précède, on déduit que :

- 1 La relation de l'ensemble X vers l'ensemble Y, où X et Y sont des ensembles non vides, relie quelques éléments ou tous les éléments de X à quelques éléments ou tous les éléments de Y.
- 2 Le graphe de la relation de l'ensemble X vers l'ensemble Y est un ensemble de couples ayant pour première composante un élément de X et pour deuxième composante un élément de Y.
- 3 Si R est une relation de X vers Y, alors $R \subset X \times Y$.

Relation sur un ensemble :

Si R est une relation de X vers X, on dit que R est une relation sur X. Dans ce cas, $R \subset X \times X$.



Exemple 2

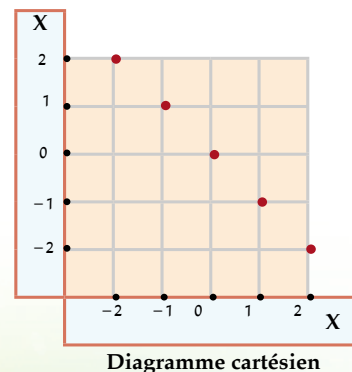
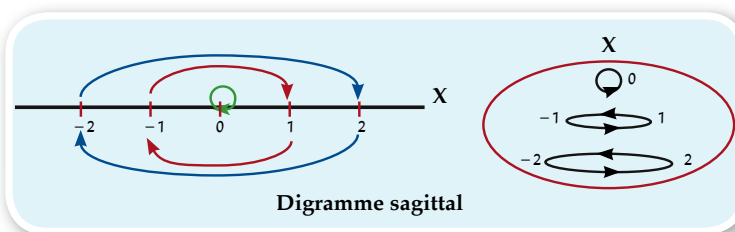
Soit $X = \{-2, -1, 0, 1, 2\}$. R est une relation définie sur X où $a R b$ signifie que :

« le nombre a est l'opposé du nombre b » pour tout $a \in X, b \in X$

Écris le graphe de R, puis représente-le par un diagramme sagittal et un diagramme cartésien.

Solution

$R = \{(-2, 2), (-1, 1), (0, 0), (1, -1), (2, -2)\}$





Pour t'entraîner :

Soient $X = \{1, 2, 3\}$ et $Y = \{12, 21, 47, 52\}$. R est une relation de X vers Y où $a R b$ signifie que : « a est un chiffre du nombre b » pour tout $a \in X, b \in Y$.

① Écris le graphe de R , puis représente-le par un diagramme sagittal et un diagramme cartésien.

② Lesquelles des propositions suivantes sont justes ? Justifie ta réponse :

1 R 52

2 R 21

3 R 47

Exercices 1-2

① Soit $X = \{1, 2, 4, 6, 10\}$. R est une relation sur X , où $a R b$ signifie que (**a est un multiple de b**), pour tout $a \in X, b \in X$. Écris le graphe de R , puis représente-le par un diagramme sagittal et un diagramme cartésien.

② Soient $X = \{2, 4, 5, 7\}$ et $Y = \{4, 5, 6, 7, 9\}$. R est une relation de X vers Y où $a R b$ signifie que (**$a \leq b$**) pour tout $a \in X$ et $b \in Y$. Écris le graphe de R , puis représente-le par un diagramme sagittal et un diagramme cartésien.

③ Soient $X = \{1, 2, 3\}$ et $Y = \{1, \frac{1}{2}, \frac{1}{3}, \frac{1}{5}\}$. R est une relation de X vers Y où $a R b$ signifie que (**«le nombre a est l'inverse du nombre b »**) pour tout $a \in X, b \in Y$. Écris le graphe de R , puis représente-le par un diagramme sagittal et un diagramme cartésien.

④ Soient $X = \{1, 3, 4, 5\}$ et $Y = \{1, 2, 3, 4, 5, 6\}$. R est une relation de X vers Y où $a R b$ signifie que (**« $a + b = 7$ »**) pour tout $a \in X, b \in Y$. Écris le graphe de R , puis représente-le par un diagramme sagittal et un diagramme cartésien.

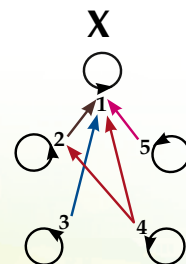
⑤ Soient $X = \{-1, 0, 1, 2, 3\}$ et $Y = \{0, 1, 4, 6, 9\}$. R est une relation de X vers Y où $a R b$ signifie que (**« $a^2 = b$ »**) pour tout $a \in X, b \in Y$. Écris le graphe de R , puis représente-le par un diagramme sagittal et un diagramme cartésien.

⑥ Soient $X = \{-2, -1, 1, 2\}$ et $Y = \{\frac{1}{8}, \frac{1}{3}, 1, 3, 8\}$. R est une relation de X vers Y où $a R b$ signifie que (**« $a^3 = b$ »**) pour tout $a \in X, b \in Y$. Écris le graphe de R , puis représente-le par un diagramme sagittal et un diagramme cartésien.

⑦ Soient $X = \{2, 3, 4\}$ et $Y = \{6, 8, 10, 11, 15\}$. R est une relation de X vers Y où $a R b$ signifie que (**« a divise b »**) pour tout $a \in X, b \in Y$. Écris le graphe de R .

⑧ La figure ci-contre :

Représente le diagramme sagittal de la relation R définie sur l'ensemble $X = \{1, 2, 3, 4, 5\}$. Écris le graphe de R , puis représente-le par un diagramme cartésien.



Fonction (application)



A apprendre

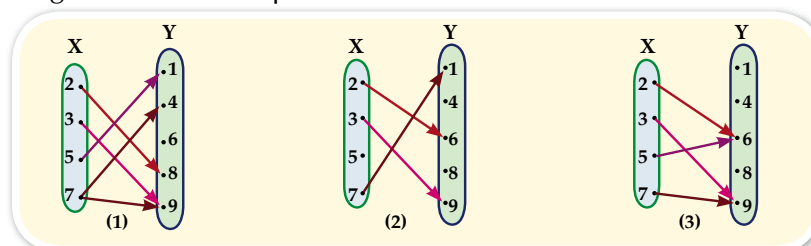
- ☆ La notion de fonction.
- ☆ Expression symbolique d'une fonction.

Expressions de base

- ☆ Fonction.
- ☆ Domaine de définition.
- ☆ Ensemble d'arrivée.
- ☆ Ensemble-image.

Réfléchis et discute

Les figures suivantes représentent des relations de X vers Y.



- 1 Écris le graphe de chaque relation puis représente-le par un diagramme cartésien
- 2 Lesquelles des relations suivantes vérifient la condition suivante : « chaque élément de X est relié à un élément et un seul élément de Y ».

Définition :

Une relation d'un ensemble X vers un ensemble Y est dite fonction si chaque élément de X apparaît une fois et une seule comme première composante dans un couple du graphe de la relation.

Expression symbolique d'une fonction :

- 1 Une fonction est symbolisée par l'une des lettres : f ou m ou q ou... La fonction f de l'ensemble X vers l'ensemble Y s'écrit mathématiquement :
 $f : X \rightarrow Y$ qui se lit : « f est une fonction de X vers Y ».

Remarques :

- 1 Si f est une fonction de X vers X, on dit que f est une fonction définie sur X.
- 2 Si le couple (x, y) appartient au graphe de la fonction, on dit que l'élément y est l'image de l'élément x par la fonction f et on l'exprime par l'une des deux formes suivantes :
 $f : x \mapsto y$ qui se lit « y est l'image de x par la fonction f »
 $f(x) = y$ qui se lit « f est une fonction telle que f(x) = y »



Exemple 1

Soit f une fonction définie sur X telle que $X = \{3, 4, 5, 6\}$. Si $f(3) = 3$, $f(4) = 5$, $f(5) = 4$ et $f(6) = 5$, représente f par un diagramme sagittal et un diagramme cartésien puis écris le graphe de f .

Solution

Le graphe de $f = \{(3, 3), (4, 5), (5, 4), (6, 5)\}$

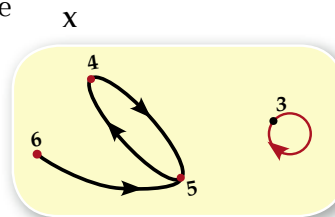


diagramme sagittal

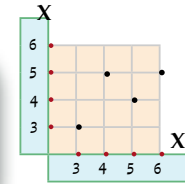
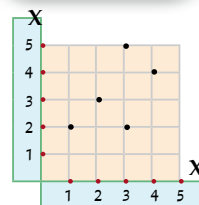
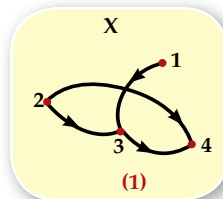


diagramme cartésien

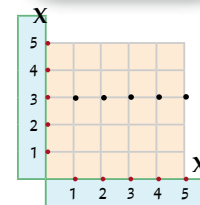
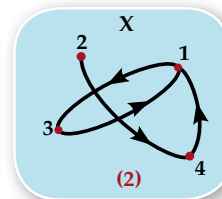


Pour t'entraîner :

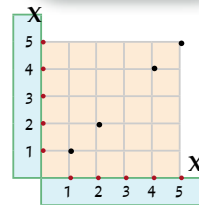
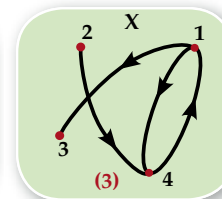
- Si $X = \{1, 2, 3, 4\}$, lesquels des diagrammes sagittaux ci-contre représentent des fonctions définies sur X ?
- Lesquels des diagrammes cartésiens ci-contre représentent des fonctions de X vers X ?



(1)



(2)



(3)

Réfléchis : Est-ce que toute relation est une fonction ? Justifie ta réponse en donnant des exemples.

Domaine de définition, ensemble d'arrivée et ensemble image

Si f est une fonction de l'ensemble X vers l'ensemble Y .

où $f : X \rightarrow Y$, alors

L'ensemble X est appelé le domaine de définition de la fonction f .

L'ensemble Y est appelé l'ensemble d'arrivée de la fonction f .

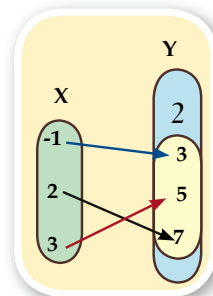
L'ensemble des images des éléments de X par la fonction f est appelé l'ensemble image de la fonction.

Par exemple : Si $f : X \rightarrow Y$.

, $X = \{-1, 2, 3\}$, $Y = \{2, 3, 5, 7\}$ et le graphe de $f = \{(-1, 3), (3, 5), (2, 7)\}$, alors :

- Le domaine de définition de la fonction f est l'ensemble $X = \{-1, 2, 3\}$
- L'ensemble d'arrivée de la fonction f est l'ensemble $Y = \{2, 3, 5, 7\}$
- L'ensemble image de la fonction $f = \{3, 5, 7\}$.

Remarque que : L'ensemble image d'une fonction est un sous-ensemble de son ensemble d'arrivée.



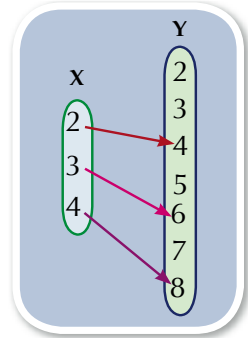


Exemple 2

Soient $X = \{2, 3, 4\}$ et $Y = \{y : y \in \mathbb{N}, 2 \leq y < 9\}$ où \mathbb{N} est l'ensemble des nombres naturels. R est une relation de X vers Y où $a R b$ signifie que : « $a = \frac{1}{2}b$ » pour tout $a \in X, b \in Y$. Écris le graphe de R , puis représente-le par un diagramme sagittal. Démonstre que R est une fonction de X vers Y , puis trouve son ensemble-image.

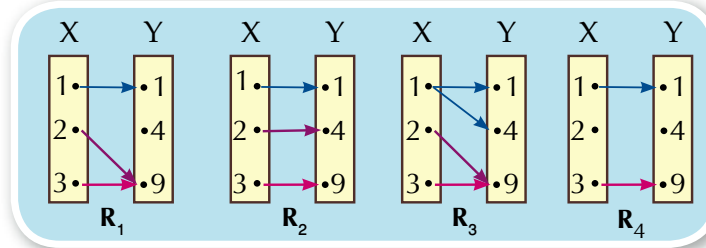
Solution

$Y = \{2, 3, 4, 5, 6, 7, 8\}$ Le graphe de $R = \{(2, 4), (3, 6), (4, 8)\}$
 R est une fonction car de chaque élément de l'ensemble X part une flèche et une seule vers un élément de l'ensemble Y .
 l'ensemble image de la fonction = $\{4, 6, 8\}$



Exercices 1-3

- 1 Lesquelles de relations suivantes représentent des fonctions de X vers Y ? Pour chaque relation représentant une fonction, détermine l'ensemble image.



- 2 Soient $X = \{2, 5, 8\}$, $Y = \{10, 16, 24, 30\}$ et R est une relation de X vers Y où $a R b$ signifie que « a est un facteur de b » pour tout $a \in X$ et $b \in Y$. Écris le graphe de R , puis représente-le par un diagramme sagittal et un diagramme cartésien. **R est-elle une fonction ? Pourquoi ?**
- 3 Soient $X = \{0, 1, 4, 7\}$ et $Y = \{1, 3, 5, 6\}$. R est une relation de X vers Y où $a R b$ signifie que « $a + b < 8$ » pour tout $a \in X, b \in Y$. Écris le graphe de R , puis représente-le par un diagramme sagittal et un diagramme cartésien. R est-elle une fonction ? Pourquoi ?
- 4 Soit $X = \{1, 2, 4, 6, 10\}$ et R est une relation définie sur X où $a R b$ signifie que « a est un facteur de b » pour tout $a \in X, b \in X$. Écris le graphe de R , puis représente-le par un diagramme sagittal et un diagramme cartésien. R est-elle une fonction ? Pourquoi ?
- 5 Soit $X = \{1, 2, 3, 6, 11\}$ et R est une relation définie sur X où $a R b$ signifie que « $a + 2b =$ un nombre impair » pour tout $a \in X$ et $b \in X$. Écris le graphe de R , puis représente-le par un diagramme sagittal et un diagramme cartésien. **R est-elle une fonction ? Pourquoi ?**

Fonctions polynômes

Réfléchis et discute

Dans les fonctions $f_1 : \mathbb{R} \rightarrow \mathbb{R}, f_1(x) = 5$
 $f_2 : \mathbb{R} \rightarrow \mathbb{R}, f_2(x) = 3x - 8$
 $f_3 : \mathbb{R} \rightarrow \mathbb{R}, f_3(x) = 4x^2 - 5x + 8$

On remarque que :

- 1 Le domaine de définition et l'ensemble d'arrivée sont l'ensemble des nombres réels \mathbb{R} .
- 2 La formule donnant l'image de x est un terme ou une expression algébrique.
- 3 Quel est le degré de la variable x dans les fonctions précédentes ?

Définition

La fonction $f : \mathbb{R} \rightarrow \mathbb{R}$ telle que :

$f(x) = a_0 + a_1 x + a_2 x^2 + \dots + a_n x^n$ où $a_0, a_1, a_2, \dots, a_n \in \mathbb{R}$ sont des nombres réels $n \in \mathbb{N}$ et $a_n \neq 0$, est appelée **fonction polynôme réelle du degré n** .

Le degré : d'une fonction polynôme est la plus grande puissance de la variable dans l'expression de la fonction.



Pour t'entraîner :

- 1 Lesquelles des fonctions suivantes représentent des fonctions polynômes ?
 A $f_1(x) = x^3 + x^2 + 3$ B $F_2(x) = x^3 + \frac{1}{x} + 7$
 C $f_3(x) = x^2 + \sqrt{x} + 8$ D $F_4(x) = x(x + \frac{1}{x} - 2)$
- 2 Si $f : \mathbb{R} \rightarrow \mathbb{R}$, détermine le degré de la fonction dans chacun des cas suivants :
 A $f(x) = 3 - 2x$ B $f(x) = x^2 - (x^2 - 3)$
 C $f(x) = x(x - 2x^2)$ D $f(x) = x^2(x - 3)^2$



A apprendre

- ☆ La notion d'une fonction affine et sa représentation graphique.

Expressions de base :

- ☆ Une fonction polynôme.
- ☆ Une fonction linéaire.
- ☆ Une fonction du second degré.
- ☆ Représentation graphique d'une fonction.



Exemple 1

Si $f(x) = x^2 - x + 3$, trouve : $f(-2)$, $f(0)$, $f(\sqrt{3})$

Solution

$$\because f(x) = x^2 - x + 3$$

$$\therefore f(-2) = (-2)^2 - (-2) + 3 = 4 + 2 + 3 = 9$$

$$f(0) = 3, f(\sqrt{3}) = (\sqrt{3})^2 - \sqrt{3} + 3 = 6 - \sqrt{3}$$



Pour t'entraîner :

Si $f(x) = x^2 - 3x$ et $g(x) = x - 3$,

A trouve $f(\sqrt{2}) + 3g(\sqrt{2})$

B démontre que $f(3) = g(3) = \text{zéro}$

Fonction affine

Définition

La fonction $f : \mathbb{R} \rightarrow \mathbb{R}$ telle que $f(x) = ax + b$ où $a \in \mathbb{R}$ et $b \in \mathbb{R}$, $a \neq 0$ est appelée fonction affine ou fonction du premier degré.

Représentation graphique d'une fonction affine :



Exemple 2

Représente graphiquement la fonction $f : \mathbb{R} \rightarrow \mathbb{R}$, $f(x) = 2x - 3$

Solution

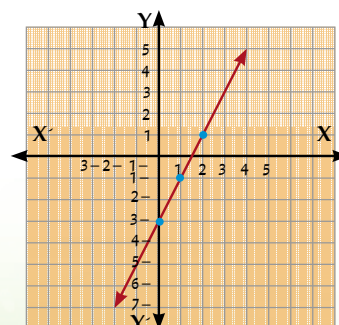
$$\because f(x) = 2x - 3$$

$$\therefore f(0) = 0 - 3 = -3, f(1) = 2 - 3 = -1, f(2) = 4 - 3 = 1$$

Nous pouvons présenter les couples obtenus dans un tableau comme suit :

x	0	1	2
$y = f(x)$	-3	-1	1

On représente les couples obtenus sur un quadrillage graphique du produit cartésien $\mathbb{R} \times \mathbb{R}$.



Remarques :

- ❶ Il suffit de trouver deux couples appartenant au graphe de la fonction pour la représenter mais il est préférable de calculer un troisième couple pour s'assurer de la qualité de la représentation graphique de la fonction.
- ❷ La fonction $f : \mathbb{R} \rightarrow \mathbb{R}$ telle que $f(x) = a x$, où $a \neq 0$, est représentée graphiquement par une droite qui passe par le point d'origine $(0, 0)$

**Pour t'entraîner :**

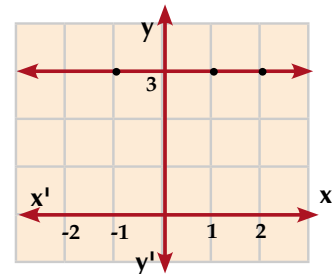
Représente graphiquement chacune des fonctions suivantes :

- ❶ $f : f(x) = x + 2$
- ❷ $g : g(x) = 3x$
- ❸ $\ell : \ell(x) = -2x$

Cas particulier : Si $f : \mathbb{R} \rightarrow \mathbb{R}$ telle que $f(x) = b$ où $b \in \mathbb{R}$, alors f est appelée fonction constante.

Par exemple : La fonction $f(x) = 3$ s'écrit $y = 3$

x	-1	1	2
$y = f(x)$	3	3	3



Elle est représentée graphiquement par une droite parallèle à l'axe des abscisses.

**Pour t'entraîner :**

Représente graphiquement chacune des fonctions suivantes :

- ❶ $f(x) = 5$
- ❷ $f(x) = -4$
- ❸ $f(x) = 0$
- ❹ $f(x) = 2 \frac{1}{2}$

Fonction du second degré :

La fonction $f : \mathbb{R} \rightarrow \mathbb{R}$ telle que $f(x) = a x^2 + b x + c$ où a, b et c sont des nombres réels et $a \neq 0$, est appelée fonction du second degré ou fonction du deuxième degré.

Représentation graphique d'une fonction du second degré.**Exemple 3**

Représente graphiquement la fonction du second degré f , telle que $f(x) = x^2$ où $x \in \mathbb{R}$ en prenant $x \in [-3, 3]$.

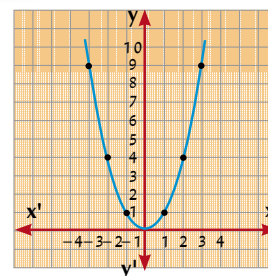
Solution

On détermine quelques couples $(x, f(x))$ appartenant au graphe de la fonction f où $x \in \mathbb{R}$ en prenant $x \in [-3, 3]$ pour calculer quelques valeurs de la variable x .

$$f(-3) = 9, f(-2) = 4, f(-1) = 1, f(0) = 0, f(1) = 1, f(2) = 4, f(3) = 9$$

On présente les couples obtenus dans un tableau comme suit :

x	3	2	1	0	-1	-2	-3
y = f(x)	9	4	1	0	1	4	9



On détermine dans un repère cartésien les points représentant les couples, puis on trace la courbe passant par ces points.

On remarque que :

- 1 La courbe de la fonction est symétrique par rapport à l'axe des ordonnées et l'axe de symétrie a pour équation $x = 0$
- 2 Les coordonnées du sommet de la courbe sont $(0, 0)$ et la valeur minimale de la fonction $= 0$



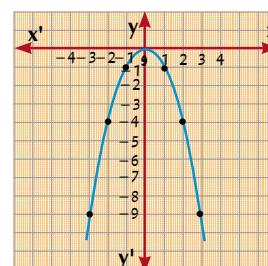
Exemple 4

Représente graphiquement la fonction du second degré :
f telle que $f(x) = -x^2$ où $x \in \mathbb{R}$ en prenant $x \in [-3, 3]$

Solution

On répète les mêmes étapes suivantes :

x	3	2	1	0	-1	-2	-3
y = f(x)	-9	-4	-1	0	-1	-4	-9



Du graphique on remarque que :

- 1 La courbe de la fonction est symétrique par rapport à l'axe des ordonnées et l'axe de symétrie a pour équation $x = 0$
- 2 Les coordonnées du sommet de la courbe sont $(0, 0)$ et la valeur maximale de la fonction $= 0$

Exercices 1-4

(1) Complète ce qui suit :

- 1 La fonction affine définie par $y = 2x - 1$, est représentée graphiquement par une droite qui coupe l'axe des ordonnées au point
 - 2 La fonction affine définie par $y = 3x + 6$, est représentée graphiquement par une droite qui coupe l'axe des abscisses au point
 - 3 Si le point $(a, 3)$ est situé sur la droite représentant la fonction $f : \mathbb{R} \rightarrow \mathbb{R}$ telle que $f(x) = 4x - 5$ alors a est égal à
- (2) 1** Si $f : \mathbb{R} \rightarrow \mathbb{R}$, détermine le degré de la fonction puis calcule $f(-2)$, $f(0)$ et $f(\frac{1}{2})$ dans chacun des cas suivants :

A $f(x) = 3$

B $f(x) = 3 - 2x$

C $f(x) = x^2 - 4$

- 2 Représente graphiquement chacune des fonctions affines suivantes, puis détermine les points d'intersection de la droite qui les représente avec les deux axes du repère :

A $f(x) = 2x$

B $f(x) = -\frac{1}{2}x$

C $f(x) = 2x + 1$

D $f(x) = 2 - x$

E $f(x) = 3x - 1$

F $f(x) = -2x + 3$

- 3 Représente graphiquement chacune des fonctions suivantes. Du graphique, détermine le sommet de chaque courbe, l'équation de son axe de symétrie et la valeur maximale ou minimale.

A $f(x) = x^2 - 2$ en prenant $x \in [-3, 3]$

B $f(x) = (x - 2)^2$ en prenant $x \in [-1, 5]$

C $f(x) = x^2 + 2x + 1$ en prenant $x \in [-4, 2]$

D $f(x) = 2 - x^2$ en prenant $x \in [-3, 3]$

En lien avec la technologie

L'utilisation des logiciels :

Il existe plusieurs logiciels gratuits permettant de tracer les courbes et de résoudre les équations. Parmi ces logiciels, on trouve sur l'internet le logiciel gratuit : Les mathématiques pour tous (Geogebra) dont l'adresse du site est <http://www.geogebra.org>. Ce programme peut être exécuté en langue arabe.

Utilise le logiciel Geogebra pour représenter graphiquement chacune des fonctions suivantes :

1 $f(x) = 2x + 1$

2 $f(x) = 5 - 3x$

3 $f(x) = x^2 - 3x + 2$

4 $f(x) = 4 - 3x - x^2$

- 1 Pour le pavage et l'entretien du réseau routier, une entreprise encaisse une somme de 100000 Livres (charge financière constante), puis 30 Livres pour chaque mètre pavé. On suppose que x désigne en mètres la longueur de la route pavée et y désigne en Livres le coût total encaissé.

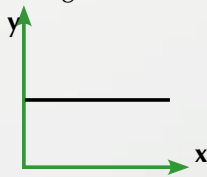


Figure (1)



Figure (2)

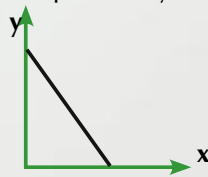


Figure (3)

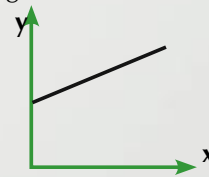


Figure (4)

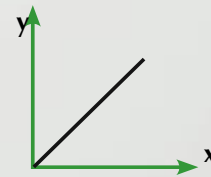


Figure (5)

- (1) Le graphique qui représente la relation entre x et y est la figure

- (2) Laquelle des relations suivantes représente les données précédentes ?

A $y = 30x$

B $y = 30x + 100000$

C $y = 100000x + 30$

D $y = 3000000x$

- (3) Ecris, un article montrant l'effort fourni par l'État pour développer et entretenir les réseaux routiers pour que la circulation soit plus fluide et plus sécurisée, en montrant les devoirs des citoyens vers le respect des règlements de la circulation et l'entretien de la propreté des routes.

Epreuve de l'unité

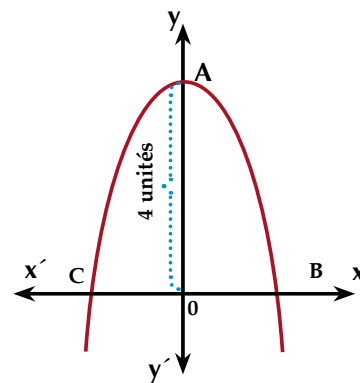
- 1 Soient $X = \{0, 1, 4, 7\}$ et $Y = \{1, 3, 5, 6\}$. R est une relation de X vers Y où $a R b$ signifie que : « $a + b < 6$ » pour tout $a \in X$ et $b \in Y$. Écris le graphe de R , puis représente-la par un diagramme sagittal et un diagramme cartésien. R est-elle une fonction ? Pourquoi ?
- 2 Représente graphiquement chacune des fonctions suivantes :

A $f(x) = 3x - 1$	B $f(x) = -2x$
C $f(x) = x^2 - 3$ en prenant $x \in [-3, 3]$	D $f(x) = 1 - 3x + x^2$ en prenant $x \in [-1, 4]$
- 3 Pendant que Karim lisait son livre, il a observé qu'après 3 heures de lecture, il lui restait 50 pages à lire et après 6 heures de lecture, il lui restait 20 pages à lire. La relation entre le temps de la lecture (t) et le nombre de pages lues (n) est une relation affine.
 - A Représente la relation entre t et n graphiquement, puis trouve son expression algébrique.
 - B Combien de temps faut-il à Karim pour lire le livre en entier ?
 - C Quel est le nombre de pages qui restait à lire au moment où Karim a commencé à lire ?
- 4 **La figure ci-contre** : représente la courbe d'une fonction f telle que :

$$f(x) = m - x^2 \text{ et } A_0 = 4 \text{ unités de longueur}$$

Trouve :

- A La valeur de m .
- B Les coordonnées des points B et C
- C L'aire du triangle ayant pour sommets A, B et C.



Algèbre

Unité (2) : Rapport et proportion

Proportion directe et proportion inverse

Apprends :

Le poids d'un corps sur la lune est égal à $\frac{1}{6}$ de son poids sur la terre. **Imagine que tu es en voyage sur la lune. Quel sera ton poids dans ce cas ?**



Rapport



A apprendre :

- ☆ La notion du rapport
- ☆ Les propriétés d'un rapport

Expressions de base :

- ☆ Premier terme du rapport
- ☆ Deuxième terme du rapport
- ☆ Les deux termes du rapport.

Réfléchis et discute :

Nous avons déjà abordé le thème du rapport. On sait qu'un rapport est une comparaison entre deux quantités.

Par exemple : s'il y a 4 garçons et 3 filles, le rapport entre le nombre de garçons et le nombre de filles peut s'écrire sous la forme 4 à 3 ou sous la forme $\frac{4}{3}$



D'une manière générale, si a et b sont deux nombres réels, alors le rapport entre le nombre a et le nombre b s'écrit sous l'une des formes

a à b ou $a : b$ ou $\frac{a}{b}$.

Dans ce cas, a est appelé le premier terme du rapport et b est appelé le deuxième terme du rapport et a et b ensemble sont appelés les deux termes du rapport.

Complète et réponds aux questions suivantes :

- 1 Un rapport change-il de valeur si on multiplie ses deux termes par un même nombre différent de zéro ?

$$\frac{3}{5} \stackrel{?}{=} \frac{3 \times \dots}{5 \times \dots}$$

- 2 Un rapport change-il de valeur si on ajoute un même nombre réel à ses deux termes ?

$$\frac{2}{3} \stackrel{?}{=} \frac{2 + \dots}{3 + \dots}$$

- 3 Si $\frac{a}{b} = \frac{3}{5}$, est-ce que $a = 3$ et $b = 5$ sont les seuls valeurs possibles de a et b ?

**Exemple :**

Trouve le nombre qu'il faut ajouter aux deux termes du rapport $7 : 11$ pour obtenir $2 : 3$.

Solution

Soit le nombre x .

$$\therefore \frac{x+7}{x+11} = \frac{2}{3}$$

$$\therefore 3(x+7) = 2(x+11)$$

$$\therefore 3x + 21 = 2x + 22$$

$$\therefore 3x - 2x = 22 - 21$$

$$\therefore x = 1$$

**Pour t'entraîner :**

Si on ajoute le carré d'un nombre positif aux deux termes du rapport $5 : 11$, on obtient $3 : 5$. Trouve ce nombre.

**Exercices (2-1)**

- 1 Deux nombres entiers sont dans le rapport $3 : 7$. Si on retranche 5 de chacun d'eux, on obtient deux nombres dans le rapport $1 : 3$. Trouve les deux nombres de départ.
- 2 Deux nombres entiers sont dans le rapport $2 : 3$. Si on ajoute 7 au premier nombre et si on retranche 12 du deuxième nombre, on obtient deux nombres dans le rapport $5 : 3$. Trouve les deux nombres de départ.
- 3 Si on retranche le triple d'un nombre aux deux termes du rapport $\frac{49}{69}$, on obtient $\frac{2}{3}$. Trouve ce nombre.
- 4 Si on ajoute le carré d'un nombre aux deux termes du rapport $7 : 11$, on obtient $4 : 5$. Trouve ce nombre.

Proportion



A apprendre :

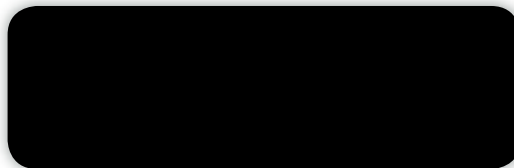
- ☆ La notion de proportion
- ☆ Les propriétés d'une proportion
- ☆ La proportion en chaîne

Expressions de base :

- ☆ Proportion
- ☆ Première proportionnelle
- ☆ Deuxième proportionnelle
- ☆ Troisième proportionnelle
- ☆ Quatrième proportionnelle
- ☆ Extrêmes d'une proportion
- ☆ Moyens d'une proportion

Si $\frac{a}{b} = \frac{c}{d}$ on dit que a , b , c et d sont quatre quantités proportionnelles

et si a , b , c et d sont quatre quantités proportionnelles, **alors** $\frac{a}{b} = \frac{c}{d}$



Dans la proportion $\frac{a}{b} = \frac{c}{d}$

a est appelé **la première proportionnelle**, b est appelé **la deuxième proportionnelle**, c est appelé **la troisième proportionnelle**, et d est appelé **la quatrième proportionnelle**. a et d sont appelés les extrêmes de la proportion et b et c sont appelés les moyens de la proportion.

Propriétés d'une proportion

(1) Si $\frac{a}{b} = \frac{c}{d}$, **alors** :

① $a = m c$ et $b = m d$ où $m \in \mathbb{R}^*$

② $a d = b c$ (**le produit des moyens = le produit des extrême**)

③ $\frac{a}{c} = \frac{b}{d}$

Vérifie les propriétés précédentes à l'aide d'exemples numériques de ton choix.

(2) Si $ad = bc$, **alors** $\frac{a}{b} = \frac{c}{d}$

$$\frac{a}{c} = \frac{b}{d}$$

Vérifie les propriétés à l'aide de l'exemple numérique suivant :

Tu sais que $4 \times 8 = 2 \times 16$

Alors : $\frac{4}{2} = \frac{8}{4}$, $\frac{4}{16} = \frac{2}{8}$

**Exemple 1**

Si $\frac{x}{y} = \frac{2}{3}$, trouve la valeur de $\frac{3x+2y}{6y-x}$

Solution

Soit $x = 2m$, $y = 3m$ (où m est une constante \neq zéro)

$$\therefore \frac{3x+2y}{6y-x} = \frac{3 \times 2m + 2 \times 3m}{6 \times 3m - 2m} = \frac{12m}{16m} = \frac{3}{4}$$

Autre Solution

Diviser le numérateur et le dénominateur par y , puis remplacer $\frac{x}{y}$ par $\frac{2}{3}$

$$\therefore \text{L'expression} = \frac{3 \times \frac{x}{y} + 2}{6 - \frac{x}{y}} = \frac{3 \times \frac{2}{3} + 2}{6 - \frac{2}{3}} \rightarrow \text{Complète : } = \frac{\dots}{\dots} = \frac{\dots}{\dots}$$

**Exemple 2**

Trouve la quatrième proportionnelle des nombres 4, 12 et 16.

Solution

Soit x la quatrième proportionnelle

$$\frac{4}{12} = \frac{16}{x}$$

$$\therefore 4 \times x = 12 \times 16 \quad [\text{le produit des moyens} = \text{le produit des extrêmes}]$$

$$\therefore x = \frac{12 \times 16}{4} = 48 \quad \therefore \text{la quatrième proportionnelle} = 48$$

**Exemple 3**

Trouve le nombre qu'il faut ajouter à chacun des nombres 3, 5, 8 et 12 pour que les résultats soient proportionnels.

Solution

Soit x le nombre. En ajoutant x , les nombres $3+x$, $5+x$, $8+x$ et $12+x$ **sont proportionnels.**

$$\therefore \frac{3+x}{5+x} = \frac{8+x}{12+x}$$

$$\therefore 40 + 13x + x^2 = 36 + 15x + x^2$$

$$\therefore 2x = 4$$

$$\therefore x = 2$$

$$\therefore (5+x)(8+x) = (3+x)(12+x)$$

$$\therefore 15x - 13x = 40 - 36$$



Pour t'entraîner :

- 1 A Trouver la deuxième proportionnelle des nombres 2, , 4, 6
 B Trouver la troisième proportionnelle des nombres 8, 6, , 12

2 Si $\frac{a}{b} = \frac{3}{5}$, trouve la valeur de $(7a + 9b) : (4a + 2b)$

3 Si $\frac{a}{b} = \frac{c}{d} = \frac{e}{f} = \dots\dots$, $m_1, m_2, m_3, \dots \in \mathbb{R}^*$,

alors : $\frac{a m_1 + c m_2 + e m_3 + \dots}{b m_1 + d m_2 + f m_3 + \dots} = \text{l'un de ces rapports}$

Par exemple, soit $\frac{a}{2} = \frac{b}{3} = \frac{c}{4}$, En multipliant les deux termes du premier rapport par 2, les deux termes du deuxième rapport par -5 et les deux termes du troisième rapport par 3, on a :

$$\frac{2a - 5b + 3c}{2 \times 2 - 3 \times 5 + 3 \times 4} = \text{l'un de ces rapports}$$

D'où $2a - 5b + 3c = \text{l'un de ces rapports}$



Exemple 4

Si a, b, c et d sont quatre quantités proportionnelles, **démontre que** : $\frac{3a - 2c}{5a + 3c} = \frac{3b - 2d}{5b + 3d}$

Solution

\therefore a, b, c et d sont quatre quantités proportionnelles

$$\therefore \frac{a}{b} = \frac{c}{d}$$

En multipliant les deux termes du premier rapport par 5 et les deux termes du deuxième rapport par 3, on a : "La somme des premiers termes des rapports : La somme des deuxièmes termes des rapports" = l'un de ces rapports.

$$\therefore \frac{5a + 3c}{5b + 3d} = \text{l'un de ces rapports} \quad (1)$$

En multipliant les deux termes du premier rapport par 3 et les deux termes du deuxième rapport par -2, on a : "La somme des premiers termes des rapports : La somme des deuxièmes termes des rapports" = l'un de ces rapports .

$$\therefore \frac{3a - 2c}{3b - 2d} = \text{l'un de ces rapports} \quad (2)$$

$$\text{De (1), (2) } \therefore \frac{5a + 3c}{5b + 3d} = \frac{3a - 2c}{3b - 2d} \quad \therefore \frac{3a - 2c}{5a + 3c} = \frac{3b - 2d}{5b + 3d} \quad (\text{ce qu'il fallait démontrer})$$

Autre Solution

Soit $\frac{a}{b} = \frac{c}{d} = m$ où m est une constante $\neq 0$,

$a = b m$, $c = d m$ En substituant dans les deux membres, on obtient le résultat.



Pour t'entraîner :

Si $\frac{a}{b} = \frac{c}{d}$, *démontre que :*

$$1) \frac{a+b}{b} = \frac{c+d}{d} \qquad 2) = \frac{a-b}{b} = \frac{c-d}{d}$$

Indication : Suppose que $\frac{a}{b} = \frac{c}{d} = m$ où m est une constante $\neq 0$, puis complète ou utilise une autre méthode.

Proportion en chaîne :

2, 6 et 18 sont trois nombres. Compare les rapports $\frac{2}{6}$, $\frac{6}{18}$

- 1 Y a-t-il une relation entre $(6)^2$ et 2×18 ?
- 2 Si on remplace le nombre 6 par le nombre (-6) dans les rapports, y a-t-il une relation entre $(-6)^2$ et 2×18 ?



Exemple 5

Trouve la moyenne proportionnelle entre 3 et 27.

Solution

La moyenne proportionnelle $= \pm \sqrt{3 \times 27} = \pm 9$



Exemple 6

Si b est une moyenne proportionnelle entre a et c , démontre que : $\frac{a^2 + b^2}{b^2 + c^2} = \frac{a}{c}$

Solution

b est une moyenne proportionnelle entre a et c $\therefore a, b$ et c sont proportionnelles en chaîne

Soit $\frac{a}{b} = \frac{b}{c} = m$ $\therefore b = c m$ et $a = b m = c m \times m = c m^2$

$$\begin{aligned} \text{Membre de gauche} &= \frac{a^2 + b^2}{b^2 + c^2} = \frac{c^2 m^4 + c^2 m^2}{c^2 m^2 + c^2} \\ &= \frac{c^2 m^2 (m^2 + 1)}{c^2 (m^2 + 1)} = m^2 \end{aligned} \quad (1)$$

$$\text{Membre de droite} = \frac{a}{c} = \frac{c m^2}{c} = m^2 \quad (2)$$

De (1), (2), on obtient $\frac{a^2 + b^2}{b^2 + c^2} = \frac{a}{c}$

Autre Solution

Soit : $\frac{a}{b} = \frac{b}{c} = m$ $\therefore \frac{a^2}{b^2} = \frac{b^2}{c^2} = m^2$

Des deux premiers rapports $m^2 = \frac{a^2 + b^2}{b^2 + c^2} = \text{Membre de gauche}$

et $m^2 = \frac{a}{b} \times \frac{b}{c} = \frac{a}{c} = \text{Membre de droite}$

De (1) et (2) $\therefore \frac{a^2 + b^2}{b^2 + c^2} = \frac{a}{c}$



Pour t'entraîner :

Si a, b, c et d sont proportionnelles en chaîne, démontre que : $\frac{a - 2b}{b - 2c} = \frac{3b + 4c}{3c + 4d}$

Indication : Soit $\frac{a}{b} = \frac{b}{c} = \frac{c}{d} = m$

$\therefore c = dm, b = dm^2, a = dm^3$. Complète la solution

Exercices (2-2)

- 1 Si x, y, z et ℓ sont des quantités proportionnelles, démontre que

A $\left(\frac{x+y}{z+\ell}\right)^2 = \frac{2x^2-3y^2}{2z^2-3\ell^2}$

B $\sqrt[3]{\frac{5x^3-3z^3}{5y^3-3\ell^3}} = \frac{x+z}{y+\ell}$

- 2 Si $\frac{x}{3} = \frac{y}{4} = \frac{z}{5}$, démontre que :

A $\frac{2y-z}{3x-2y+z} = \frac{1}{2}$

B $\sqrt{3x^2+3y^2+z^2} = 2x+y$

- 3 Si a, b, c et d sont des quantités proportionnelles, démontre que :

A $\frac{ac}{bd} = \left(\frac{a-c}{b-d}\right)^2$

B $\sqrt[3]{\frac{5a^3-3c^3}{5b^3-3d^3}} = \frac{a+c}{b+d}$

- 4 Si b est une moyenne proportionnelle de a et c , démontre que :

A $\frac{a+b+c}{a^{-1}+b^{-1}+c^{-1}} = b^2$

B $\frac{2c^2-3b^2}{2b^2-3a^2} = \frac{c}{a} = \frac{c^2}{b^2}$

- 5 Si a, b, c et d sont des quantités proportionnelles en chaîne, démontre que :

A $\frac{ab-cd}{b^2-c^2} = \frac{a+c}{b}$

B $\frac{a^2-3c^2}{b^2-3d^2} = \frac{b}{d}$

C $\frac{a}{b+d} = \frac{c^3}{c^2d+d^3}$

D $\frac{c^2-d^2}{a-c} = \frac{bd}{a}$

- 6 Si $5a, 6b, 7c$ et $8d$ sont des quantités positives proportionnelles en chaîne,

démontre que :

$$\sqrt[3]{\frac{5a}{8d}} = \sqrt{\frac{5a+6b}{7c+8d}}$$

- 7 Si $\frac{y}{x-z} = \frac{x}{y} = \frac{x+y}{z}$ démontre que chacun de ces rapports est égal à 2 (au cas où $x+y \neq 0$), puis trouve $x : y : z$.

- 8 Si $\frac{a}{2} = \frac{b}{3} = \frac{c}{4} = \frac{2a-b+5c}{3x}$, trouve la valeur de x .

- 9 Si $a : b : c = 5 : 7 : 3$ et $a + b = 27,6$, trouve la valeur de a, b et c



A apprendre :

- ☆ La notion de variation directe
- ☆ La notion de variation inverse
- ☆ Comment distinguer la variation directe de la variation inverse

Expressions de base :

- ☆ variation
- ☆ variation directe
- ☆ variation inverse

(1) Variation directe

Réfléchis et discute (1) :

Une voiture se déplace à une vitesse constante v de 15 m/s. La distance d en mètres qu'elle parcourt en un temps t en secondes est donnée par la formule $d = v t$.



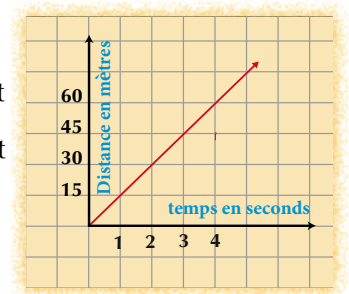
t	1	2	3	4
d	15	30	45	60

- A Représente cette relation entre d et t graphiquement.
- B Est-ce que la représentation graphique passe par le point d'origine $(0, 0)$?
- C Calcule $\frac{d}{t}$ dans chaque cas. Que remarques-tu ?

De ce qui précède, on remarque que :

$\frac{d}{t}$ est constant et est égal à 15. Donc $d = 15 t$

Dans ce cas on dit que d est directement proportionnelle à t et on note $d \propto t$.



Définition :

On dit que y est directement proportionnel à x et on le note $y \propto x$ ou $y = k x$ (où k est une constante $\neq 0$). Si x prends les deux valeurs x_1 et x_2 et si y prends les deux valeurs correspondantes y_1 et y_2 respectivement, alors $\frac{y_1}{y_2} = \frac{x_1}{x_2}$

De ce qui précède, on déduit que :

- 1 La relation précédente est une relation linéaire entre les deux variables x et y . Elle est représentée graphiquement par une droite qui passe par le point d'origine.
- 2 Si $y \propto x$, alors $y = k x$
et si $y = k x$, alors $y \propto x$.



Exemple 1

Si $y \propto x$ et $y = 14$ pour $x = 42$, **trouve** :

a) la relation entre y et x .

b) la valeur de y pour $x = 60$.

Solution

a) $\therefore y \propto x$ $\therefore y = k x$ (où k est une constante $\neq 0$)

En remplaçant x et y par leurs valeurs dans cette relation :

$\therefore 14 = 42 \times k$ $\therefore k = \frac{14}{42} = \frac{1}{3}$ \therefore La relation est : $y = \frac{1}{3} x$

b) Pour $x = 60$ $\therefore y = \frac{1}{3} \times 60 = 20$

Remarque : On peut utiliser la relation $\frac{y_1}{y_2} = \frac{x_1}{x_2}$ pour trouver la valeur de y dans la deuxième partie de la question.

(2) Variation inverse

Soient A l'aire d'un rectangle et x et y ses dimensions.

A **Ecris** la relation entre A , x et y .

B Si l'aire du rectangle est constante et est égale à 33 cm^2 , **complète** le tableau suivant :

x	3	5	6	10
y

C **Calcule** x y dans chaque cas. Que remarques-tu ?

De ce qui précède, on remarque que :

$x y = 30$ et donc $y = \frac{30}{x}$ d'où y est inversement proportionnel à x et on note $y \propto \frac{1}{x}$

De même, $x = \frac{30}{y}$ d'où x est inversement proportionnel à y et on note $x \propto \frac{1}{y}$

Définition :

On dit que y est inversement proportionnel à x et on le note $y \propto \frac{1}{x}$ si $x y = k$ (où k est une constante $\neq 0$). Si x prends les deux valeurs x_1 et x_2 et si y prends les deux valeurs correspondantes y_1 et y_2 respectivement, alors : $\frac{y_1}{y_2} = \frac{x_2}{x_1}$

De ce qui précède, on déduit que :

- 1 La relation précédente n'est pas une relation linéaire entre les deux variables x et y . Elle n'est pas représentée graphiquement par une droite
- 2 Si y est inversement proportionnel à x , alors, $y = \frac{k}{x}$ (où k est une constante $\neq 0$)
si $y = \frac{k}{x}$, alors $y \propto \frac{1}{x}$.



Exemple 2

Si $y \propto \frac{1}{x}$ et $y = 3$ pour $x = 2$, trouver :

- a) la relation entre x et y . b) la valeur de y pour $x = 1,5$.

Solution

$$\therefore y \propto \frac{1}{x}$$

$$\therefore y = \frac{k}{x}$$

(où k est une constante $\neq 0$)

En remplaçant x et y par leurs valeurs dans cette relation :

$$\therefore 3 = \frac{k}{2}$$

$$\therefore k = 2 \times 3 = 6$$

$$\therefore \text{La relation est : } y = \frac{6}{x}$$

- b) Pour $x = 1,5$

$$\therefore y = \frac{6}{1,5} = 4$$

Remarque : On peut utiliser la relation $\frac{y_1}{y_2} = \frac{x_2}{x_1}$ pour trouver la valeur de y



Pour t'entraîner :

Lesquels des tableaux suivants représentent une variation directe et lesquels représentent une variation inverse ? Justifie la réponse dans chaque cas :

x	y
3	20
5	12
4	15
6	10

x	y
2	9
4	18
12	54
16	72

x	y
5	9
10	18
15	27
25	45

x	y
3	6
-2	-9
-18	1
9	-2



Exemple 3

En lien avec la Physique : La relation entre la vitesse v (m/s) et le temps t (s) est donnée par la formule $v = 9,8 t$

1) **Détermine** la nature de la variation entre v et t .

2) **A** **Trouve** les valeurs de v pour $t = 2$ seconds et pour $t = 4$ seconds.

B **Trouve** la valeur de t pour $v = 24,5$ m/s

Solution

1) $\because v = \text{constante} \times t$ Donc $v \propto t$ d'où v est directement proportionnelle à t .

2): **A** pour $t = 2$ $v = 9,8 \times 2 = 19,6$ m/s
pour $t = 4$ $v = 9,8 \times 4 = 39,2$ m/s

B pour $V = 24,5$ $24,5 = 9,8 \times t$ $\therefore t = \frac{24,5}{9,8} = 2,5$ seconds.



Exemple 4

En lien avec la géométrie : La hauteur h d'un cylindre circulaire droit (de volume constant) est inversement proportionnelle au carré du rayon de sa base (r). Si $h = 27$ cm pour $r = 10,5$ cm, trouve h pour $r = 15,75$ cm.

Solution :

$$\therefore h \propto \frac{1}{r^2}$$

$$\therefore h = k \times \frac{1}{r^2} \quad (\text{où } k \text{ est une constante } \neq 0)$$

$$h = 27 \text{ pour } r = 10,5$$

$$\therefore 27 = k \times \frac{1}{(10,5)^2}$$

$$\therefore k = 27 \times (10,5)^2 \quad (1)$$

En substituant :

$$\therefore h = 27 \times (10,5)^2 \times \frac{1}{r^2} \quad \text{de } (1)$$

$$\text{Pour } r = 15,75 \text{ cm}$$

$$\therefore h = 27 \times (10,5)^2 \times \frac{1}{(15,75)^2} = 12 \text{ cm}$$

Nous pouvons utiliser une calculatrice pour trouver le dernier résultat comme suit :

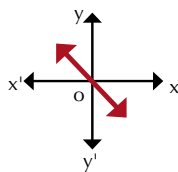
$$27 \times 10,5^2 \div 10,5^2 \times 10,75^2 =$$



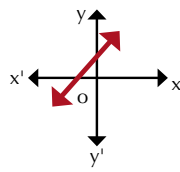
Exercices (2-3)

(1) **Choisis** la bonne réponse parmi les réponses proposées :

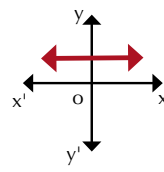
1 Lesquels des graphiques suivants représentent une variation directe entre x et y ?



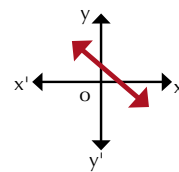
A



B



C



D

2 La relation qui représente une variation directe entre x et y est :

A $xy = 5$

B $y = x + 3$

C $\frac{x}{3} = \frac{4}{y}$

D $\frac{x}{5} = \frac{y}{2}$

3 Si y est inversement proportionnel à x et si $x = \sqrt{3}$, pour $y = \frac{2}{\sqrt{3}}$, alors la constante de la proportion est égale à :

A $\frac{1}{2}$

B $\frac{2}{3}$

C 2

D 6

(2) (Calcul mental) : Du tableau de données suivant, réponds aux questions suivantes :

x	2	4	6
y	6	3	2

A Montre la nature de la variation entre y et x . B Calcule le constant de la proportion.

C Trouve la valeur de y pour $x = 3$

D Trouve la valeur de x pour $y = 2\frac{2}{5}$

Exercices généraux de l'unité

- 1 Si le coût total (y) d'un voyage est composée d'une somme fixe (a) et d'une somme qui est directement proportionnelle au nombre de voyageurs (x), choisis la bonne réponse :
- A $y = a \times x$ B $y = \frac{a}{x}$
 C $y = a + \frac{k}{x}$ (k est une constante $\neq 0$) D $y = a + k \times x$ (k est une constante $\neq 0$)
- 2 Si $y \propto x$ et si $y = 40$ pour $x = 14$, *trouve* la valeur de x pour $y = 80$.
- 3 Une voiture roule à une vitesse constante de sorte que la distance parcourue soit directement proportionnelle au temps. Si la voiture parcourt une distance de 150 kilomètres en 6 heures, combien de kilomètres parcourt-elle en 10 heures ?
- 4 Le poids (p) d'un corps sur la lune est directement proportionnel à son poids (r) sur la terre. Un corps qui pèse 84 kilogrammes sur la terre pèse 14 kilogrammes sur la lune. Quel est le poids d'un corps sur la lune si son poids sur la terre est 144 kilogrammes ?
- 5 Si y est inversement proportionnel à x et si $y = 2$ pour $x = 4$, trouve la valeur de y pour $x = 16$
- 6 Si a , b , c et d sont proportionnels en chaîne, démontre que :
- A $\frac{a^2 - 3c^2}{b^2 - 3d^2} = \frac{b}{d}$ B $\frac{2a + 3d}{3a - 4d} = \frac{2a^3 + 3b^3}{3a^3 - 4b^3}$
- 7 Si $\frac{x}{2a+b} = \frac{y}{2b-c} = \frac{z}{2c-a}$, *démontre que* $\frac{2x+y}{4a+4b-c} = \frac{2x+2y+z}{3a+6b}$.
- 8 **En lien avec la géométrie :** x , y et z sont les longueurs proportionnelles de trois côtés d'un triangle telles que $x + y = 15$ cm et $y + z = 22,5$ cm. *Trouve* $x : y$.
- 9 **Application de la vie quotidienne :** Pour le développement de la campagne égyptienne, l'état a consacré une somme de $1,85 \times 10^6$ Livres pour construire une école, un centre médical et un centre de jeunesse dans un village. Le coût d'une école est $\frac{3}{2}$ du coût d'un centre médical et le coût d'un centre médical est $\frac{5}{6}$ du coût d'un centre de jeunesse. Quel est le coût de chaque projet ?
- 10 **Application de la vie quotidienne :** Le nombre d'heures (n) consacré à faire un travail est inversement proportionnel au nombre d'ouvriers (x) qui font ce travail. Si on a besoin de 6 ouvriers pour faire le travail en quatre heures, quel est le temps nécessaire pour faire le travail par 8 ouvriers ?

Activité

- 1 (Calcul mental) A partir des données dans le tableau suivant, réponds aux questions suivantes :

x	3	8	6	12
y	8	3	4	2

- A *Montre* en justifiant que x et y sont inversement proportionnel.
 B *Trouve* la valeur de la constante. C *Ecris* la relation entre x et y .
 D *Trouve* y pour $x = 48$. E *Trouve* x pour $y = 12$.

- 2 Le pourcentage de réussite à l'examen de troisième préparatoire dans l'un des gouvernorats est 83 %. Le pourcentage de réussite des garçons est 79 % et le pourcentage de réussite des filles est 89 %. *Calcule* le pourcentage de réussite entre le nombre de garçons et le nombre de filles dans ce gouvernorat.

Epreuve de l'unité

- 1 Si $\frac{a+b}{3} = \frac{b+c}{6} = \frac{c+a}{5}$, *démontre que* $\frac{a+b+c}{a} = 7$.
- 2 Si $y = a - 9$, $y \propto \frac{1}{x^2}$ et si $a = 18$ pour $x = \frac{2}{3}$, *trouve* la relation entre x et y , *puis déduis* la valeur de y pour $x = 1$.
- 3 Si $\frac{21x-y}{7x-z} = \frac{y}{z}$, *démontre que* $y \propto z$.
- 4 Si $x^4 y^2 - 14 x^2 y + 49 = 0$, *démontre que* $y \propto \frac{1}{x^2}$.
- 5 *En lien avec l'astronomie* : Le poids (p) d'un corps sur la terre est directement proportionnel à son poids (r) sur la lune, Si $P_1 = 182$ kg, $r_1 = 35$ kg, *trouve* r_2 pour $P_2 = 312$ kg.
- 6 *En lien avec la physique* : La vitesse v de la sortie de l'eau d'un tuyau est inversement proportionnelle au carré de la longueur du rayon r du cratère du tuyau, Si $v = 5$ cm /s pour $r = 3$ cm. *trouve* v pour $r = 2,5$ cm.

Statistique

Unité 3: Statistique



Un restaurant présente des glaces de différentes sortes. Le propriétaire du restaurant a fait un sondage sur les sortes de glaces préférées par les consommateurs.

Etudier la statistique te permettra de choisir un échantillon qui représente la population des consommateurs.

Recueils de données



A apprendre

- ☆ Types de sources de recueil des données
- ☆ Méthodes de recueil des données
- ☆ Comment choisir un échantillon
- ☆ Types d'échantillons

Expressions de base

- ☆ ressources primaires
- ☆ ressources secondaires
- ☆ méthode du dénombrement complet
- ☆ méthode d'échantillons
- ☆ sélection biaisée
- ☆ sélection aléatoire
- ☆ échantillon
- ☆ échantillon aléatoire
- ☆ échantillon stratifié

Réfléchis et discute

La méthode choisie pour recueillir des données est l'une des étapes les plus importantes sur laquelle se base une recherche statistique. Le recueil des données suivant des méthodes scientifiques adaptées en faisant les inférences statistiques, permet d'obtenir des résultats fiables et de prendre des décisions convenables.

- 1 Quelles sont les sources de recueil des données ?
- 2 Comment déterminer la méthode de recueil des données ?

Sources de recueil des données

1 Sources de recueil des données (sources du terrain) :

Ce sont les sources qui permettent d'obtenir les données d'une manière directe où les données par interviews, par sondages d'opinion. Ces types de ressources offre des informations précises mais il demande du temps et de l'effort en plus du coût sur le plan financier.

2 Ressources secondaires (historiques) :

Ce sont les ressources qu'on peut obtenir des agences et des organismes officiels comme les décrets de l'Agence centrale pour la mobilisation publique et de la statistique, l'internet et les médias.

Ce type de ressources permet d'économiser le temps, l'effort et l'argent.



Méthode du recueil des données

La méthode du recueil des données est déterminée selon l'objectif et la population statistique en cause. On appelle population statistique un ensemble d'éléments soumis à une étude statistique, ayant des propriétés caractéristiques communes.

Par exemple : Les élèves d'une école donnée représentent une population statistique dont les éléments sont les élèves.

[1] : Méthode du dénombrement complet :

Dans cette méthode, on collecte les données concernant le phénomène en cours d'étude de tous les éléments de la population statistique. Cette méthode est utilisée pour dénombrer tous les éléments d'une population comme pour recensement de la population par exemple.



Cette méthode se caractérise par la globalisation l'impartialité et l'exactitude.

La méthode de dénombrement complet a pour inconvénients la longueur du temps, l'effort et le coût très élevé.

[2]: Méthode des échantillons :

Cette méthode est basée sur le choix d'un échantillon d'une population statistique qui la représente puis de faire une recherche sur cet échantillon. Les résultats obtenus sont généralisés sur la population entière.

Avantages de la méthode d'échantillons :

- 1 Economie du temps, de l'effort et du coût.
- 2 C'est le seul moyen pour recueillir des données dans les populations surpeuplées (comme dans le milieu des poissons).
- 3 C'est le seul moyen pour étudier des populations limitées comme:
 - A l'examen du sang d'un patient à travers un échantillon
(l'examen du sang en entier peut conduire à la mort du patient).
 - B l'examen de la production d'une usine qui fabrique des lampes à travers un échantillon pour déterminer l'âge moyen d'une lampe .
(déterminer l'âge moyen d'une lampe nécessite l'allumage de la lampe jusqu'à ce qu'elle grille).



Parmi les inconvénients de la méthode d'échantillons on trouve l'imprécision des résultats au cas où l'échantillon choisi ne représente pas parfaitement la population. Dans ce cas, on appelle cet échantillon **l'échantillon non-aligné**.

Comment choisir les échantillons, les conditions d'admissibilité d'un échantillon :

[1]: Le choix non-aligné (les échantillons non aléatoires)

C'est le choix d'un échantillon par une méthode adaptée aux objectifs de la recherche et dans ce cas, il est appelé « échantillon ciblé ». Par exemple, pour étudier le degré d'acquisition des élèves d'une notion mathématique donnée, on doit analyser les résultats d'un examen fait par des élèves ayant déjà étudié la même notion. Ce choix de l'échantillon n'est pas considéré comme un choix aléatoire.



[2]: Le choix aléatoire (les échantillons aléatoires)

C'est le choix d'un échantillon de sorte que tous les éléments de la population aient la même chance d'apparaître.

Parmi les échantillons aléatoires les plus importants, on trouve :


- 1 l'échantillon aléatoire simple :
C'est le plus simple des échantillons. On le choisit d'une population homogène. Le choix de l'échantillon dépend de la grandeur et du nombre d'unités de la population.
- A Dans une petite population :
Pour choisir cinq élèves d'une classe de 40 élèves, on peut préparer une carte, pour chaque élève, qui contient son nom (ou son numéro d'ordre) de sorte que toutes les cartes soient identiques puis on met les cartes dans une boîte. Ensuite, on tire au hasard une carte de la boîte avec remise puis on répète le tirage jusqu'à ce qu'on tire l'échantillon voulu.



B Dans une grande population :

Pour choisir cinq élèves d'une école de 800 élèves, le choix à travers les cartes est une méthode difficile. Dans ce cas, on numérote les noms des élèves de 1 à 800 puis on utilise une calculatrice pour (ou un programme Excel) pour produire des numéros au hasard entre 0,000 et 0,999. En négligeant la virgule, on obtient des nombres entre 0 et 999. Dans ce cas, on élimine les nombres apparaissant qui dépassent 800 comme suit :



En répétant l'appui sur la touche  les nombres apparaissent successivement. Dans ce cas., on se contente de cinq numéros différents et convenables.

2 l'échantillon aléatoire stratifié :

Si la population en cours d'étude n'est pas homogène et donc elle est composée de groupes qualitatifs de caractéristiques différentes, on classe cette population en groupes homogène selon leurs caractéristiques. Chaque groupe est appelé une classe. Le chercheur choisit un échantillon représentant chaque classe selon sa grandeur dans la population. Cet échantillon est appelé « échantillon stratifié ».

Exemple : Pour étudier le niveau d'enseignement d'une population composée de 400 personnes dans laquelle le rapport entre le nombre de garçons et le nombre de filles est 3 : 2 et pour choisir un échantillon de 50 personnes, on doit choisir 30 personnes de la classe des garçons et 20 personnes de la classe des filles.



Exercices (3-1)

- 1 **Compare** la méthode du dénombrement complet et la méthode des échantillons en montrant les avantages et les inconvénients de chaque méthode .
- 2 La direction d'un Hôtel veut savoir l'opinion, de 300 résidents, sur le niveau des services présentés par l'Hôtel. Elle a attribué un numéro entre 201 et 500 à chaque résident puis elle a choisi un échantillon de 10 % des résidents pour les questionner. A l'aide de ta calculatrice, détermine les numéros des résidents ciblés dans l'échantillon.
- 3 Dans l'une des facultés, il y a 4000 étudiants inscrits en première année, 3000 étudiants inscrits en deuxième année, 2000 étudiants inscrits en troisième année et 1000 étudiants inscrits en quatrième année. On veut prendre un échantillon de 500 étudiants pour représenter toutes les classes selon leurs grandeurs. Calcule le nombre d'étudiants de chaque classe dans l'échantillon.

Dispersion

3 - 2

Réfléchis et discute

Tu as déjà étudié les mesures de la tendance centrale (moyenne arithmétique – médiane – mode). Tu as pu également calculer pour un ensemble de données une valeur qui décrit la tendance de ces données à se centraliser autour de cette valeur.

Si les salaires hebdomadaires, en Livres égyptiennes, de deux groupes d'ouvriers A et B d'une usine sont comme suit :



Groupe A: 170, 180, 180, 230, 240

Groupe B: 50, 180, 180, 190, 400

- 1 **Calcule** la moyenne arithmétique des salaires pour chacun des deux groupes A et B.
- 2 **Compare** les salaires des deux groupes A et B. **Que peux-tu conclure ?**

On sait que :

La moyenne arithmétique =
$$\frac{\text{la somme de toutes les valeurs d'une série}}{\text{le nombre de valeurs de la série}}$$

Donc :

la moyenne arithmétique des salaires pour le groupe A =

$$\frac{170 + 180 + 180 + 230 + 240}{5} = \frac{1000}{5} = 200 \text{ Livres}$$

la moyenne arithmétique des salaires pour le groupe B =

$$\frac{50 + 180 + 180 + 190 + 400}{5} = \frac{1000}{5} = 200 \text{ Livres}$$

Pour comparer les salaires des deux groupes A et B, on trouve que :

- 1 La moyenne arithmétique des salaires dans le groupe A = La moyenne arithmétique des salaires dans le groupe B = 200 Livres
- 2 Le salaire médian = le salaire modal = 180 Livres pour chacun des deux groupes A et B.

A apprendre

- ☆ Mesures de la dispersion (étendu – écart-type)

Expressions de base

- ☆ tendance centrale
- ☆ moyenne arithmétique
- ☆ dispersion
- ☆ étendu
- ☆ écart-type

On remarque que :

- (1) Les deux ensembles de salaires sont différents mais ils ont la même tendance centrale.
- (2) Les salaires dans le groupe A sont de valeurs proches. Ils sont compris entre 170 et 240 Livres tandis que les salaires dans le groupe B sont de valeurs éloignées. Ils sont compris entre 50 et 400 Livres.

Donc, les salaires des ouvriers du groupe B sont plus dispersés que les salaires des ouvriers du groupe A.

Pour cela, pour faire une comparaison entre deux groupes, on doit prendre en compte la dispersion des valeurs de chacun d'eux et l'éloignement des uns par rapport aux autres.

La dispersion : pour un ensemble de valeurs signifie l'éloignement ou la différence entre ses éléments. La dispersion est petite lorsque la différence entre les éléments est moindre mais la dispersion est grande lorsque la différence entre les éléments est grande (c'est-à-dire si la différence entre les valeurs est grande). La dispersion est nulle lorsque les éléments sont égaux.
Donc, la dispersion est une mesure qui exprime le degré d'homogénéité d'éléments.

De ce qui précède, on déduit que :

Pour comparer deux ou plusieurs ensembles de données, il est nécessaire de déterminer une mesure de la tendance centrale et une autre mesure de la dispersion pour chaque ensemble.

Mesures de la dispersion :

1 L'étendu : (C'est la plus simple mesure de la dispersion)

C'est la différence entre la plus grande valeur et la plus petite valeur dans un ensemble de valeurs. En comparant les deux ensembles :

Ensemble A : 51, 53, 55, 57, 58, 60

Ensemble B : 42, 45, 47, 49, 52, 92

On trouve que L'étendu de le premier ensemble = $60 - 51 = 9$

L'étendu de le deuxième ensemble = $92 - 42 = 50$

Le résultat montre que les valeurs dans le deuxième ensemble sont plus dispersées que les valeurs dans le premier ensemble.

Remarque que :

- (1) L'étendu est le moyen le plus simple et le plus facile pour mesurer la dispersion.
- (2) Les valeurs extrêmes agissent sur le rang.
Il est claire que les éléments de l'ensemble B sont dispersés dans un rang de 50 mais si on exclue le dernier élément (92) de son ensemble, alors :
L'étendu = $52 - 42 = 10$ ou $\frac{1}{5}$ de l'étendu précédemment calculé.
- (3) Dans la mesure où l'étendu ne dépend que de la plus grande valeur et la plus petite valeur, il peut ne pas donner une image fiable de la dispersion de l'ensemble.

2 L'écart-type :

C'est la mesure de la dispersion la plus connue et la plus précise (dans des conditions particulières). «C'est la racine carrée positive de la moyenne des carrés des écarts des valeurs à la moyenne arithmétique»

D'où :



- où
- σ (sigma) est l'écart-type pour ensemble de données.
 - \bar{x} (x bar) est la moyenne arithmétique de l'ensemble de données.
 - n est le nombre d'éléments
 - Σ symbolise la somme

(1) Calcul de l'écart-type pour un ensemble de valeurs :



Calcule l'écart-type pour les valeurs 12, 13, 16, 18, 21

Solution

Pour calculer l'écart-type, on dresse le tableau ci-contre où la moyenne arithmétique

$$\bar{x} = \frac{\text{la somme de toutes les valeurs d'une série}}{\text{le nombre de valeurs de la série}}$$

$$\therefore \bar{x} = \frac{\sum x}{n}$$

$$\bar{x} = \frac{12 + 13 + 16 + 18 + 21}{5} = \frac{80}{5} = 16$$

$$\therefore \text{l'écart-type } \sigma = \sqrt{\frac{\sum (x - \bar{x})^2}{n}}$$

$$\therefore \text{l'écart-type } \sigma = \sqrt{\frac{54}{5}} = \sqrt{10,8} \approx 3,286$$

x	$x - \bar{x}$	$(x - \bar{x})^2$
12	$12 - 16 = -4$	16
13	$13 - 16 = -3$	9
16	$16 - 16 = 0$	zéro
18	$18 - 16 = 2$	4
21	$21 - 16 = 5$	25
Total	80	54

(2) Calcul de l'écart-type pour une distribution par intervalles :

Pour une distribution par intervalles, on a :

$$\text{l'écart-type } \sigma = \sqrt{\frac{\sum (x - \bar{x})^2 k}{\sum k}}$$

où : x représente la valeur ou le centre de l'ensemble ,

k représente la fréquence de la valeur ou de l'intervalle .

$\sum k$ représente la somme des fréquences , \bar{x} représente la moyenne arithmétique = $\frac{\sum x k}{\sum k}$



Exemple

Le tableau des effectifs suivant, montre le nombre d'unités abîmées trouvées dans 100 boîtes contenant les unités fabriquées :

Nombre d'unités abîmées	zéro	1	2	3	4	5
Nombre de boîtes	3	16	17	25	20	19

Calcule l'écart-type pour les unités abîmées.

Solution

Soit le nombre d'unités abîmées (x) et le nombre de boîtes (k)

Pour calculer l'écart-type pour les unités abîmées, on dresse le tableau suivant :

la moyenne arithmétique \bar{x}

$$= \frac{\sum x \times k}{\sum k} = \frac{300}{100} = 3$$

l'écart-type σ

$$= \sqrt{\frac{\sum (x - \bar{x})^2 k}{\sum k}}$$

$$= \sqrt{\frac{204}{100}} \approx 1,428 \text{ unités}$$

Nombre d'unités abîmées (x)	Nombre de boîtes (k)	$x \times k$	$x - \bar{x}$	$(x - \bar{x})^2$	$(x - \bar{x})^2 k$
zéro	3	zéro	-3	9	27
1	16	16	-2	4	64
2	17	34	-1	1	17
3	25	75	zéro	zéro	zéro
4	20	80	1	1	20
5	19	95	2	4	76
Total	100	300			204



Pour t'entraîner :

Le tableau des effectifs suivant, montre le nombre de buts marqués lors d'un nombre de matchs de football :

Nombre de buts	zéro	1	2	3	4	5	6
Nombre de Matches	1	4	6	9	5	3	2



Calcule l'écart-type pour le nombre de buts.



Exemple

Le tableau des effectifs suivant, montre les notes de 40 élèves dans l'examen d'une matière :

Intervalles	zéro →	4 →	8 →	12 →	16 → 20	Total
Effectifs	2	5	8	15	10	40



Calcule l'écart-type pour cette distribution.

Solution

- 1 On calcule le centre des intervalles x

Donc le centre du premier intervalle $= \frac{0+4}{2} = 2$

Le centre du deuxième intervalle $= \frac{4+8}{2} = 6$

De la même manière, on calcule le centre des autres intervalles et on inscrit les résultats dans la troisième colonne

- 2 On multiplie les centres des intervalles par les effectifs correspondants $x \times k$ et on inscrit les résultats dans la quatrième colonne.

On calcule la moyenne arithmétique $\bar{x} = \frac{\sum x \cdot k}{\sum k}$

- 3 On calcule l'écart du centre de chaque intervalle (x) à la moyenne arithmétique. Détermine $(x - \bar{x})$

- 4 On calcule le carré de l'écart des centres des intervalles à leurs moyennes arithmétiques $(x - \bar{x})^2$

- 5 On calcule le produit du carré de l'écart du centre de chaque intervalle à la moyenne arithmétique par l'effectif de l'intervalle $(x - \bar{x})^2 \times k$

- 6 On calcule l'écart-type $\sigma = \sqrt{\frac{\sum (x - \bar{x})^2 \cdot k}{\sum k}}$

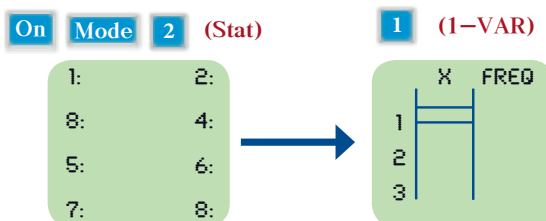
Intervalle	Effectif (k)	Centres des intervalles (x)	$x \times k$	$x - \bar{x}$	$(x - \bar{x})^2$	$(x - \bar{x})^2 k$
0 →	2	2	4	- 10,6	112,36	224,72
4 →	5	6	30	- 6,6	43,56	217,80
8 →	8	10	80	- 2,6	6,76	54,08
12 →	15	14	210	1,4	1,96	29,40
16 → 20	10	18	180	5,4	29,16	291,60
Total	40		504			817,6

La moyenne arithmétique $\bar{x} = \frac{504}{40} = 12,6$

L'écart-type $\sigma = \sqrt{\frac{817,6}{40}} = \sqrt{20,44} \simeq 4,52$ points

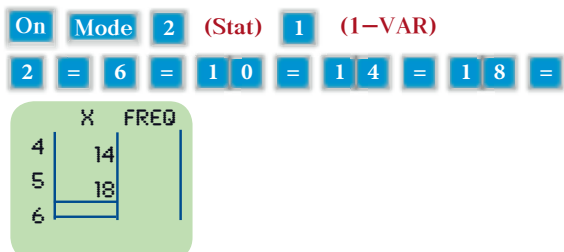
On peut utiliser une calculatrice [*F_x-82ES, F_x-83ES, F_x-85ES, F_x-300ES, F_x-350ES*] pour vérifier les calculs de l'écart-type.

a) Préparer la calculatrice pour le mode statistique et pour introduire les données




b) Calcul de l'écart-type pour une distribution (Exemple 2)

1 On introduit les centres des intervalles 2, 6, 10, 14 et 18



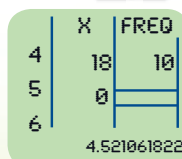
2 On passe au début de la deuxième (FREQ), puis on introduit les effectifs correspondants aux intervalles 2, 5, 8, 15, 10.



3 On fait exécuter le résultat. C'est $\sigma \simeq 4,521$



4 On retourne au mode initial, puis on éteint la calculatrice.



Remarque que :

- (1) L'écart-type est influencé par les écarts de toutes les valeurs et par conséquent, sa valeur est influencée par les valeurs extrêmes.
- (2) L'écart-type a la même unité de mesure que les données initiales. Pour cette raison, on l'utilise pour la comparaison entre les dispersions des intervalles ayant les mêmes unités de mesure lorsqu'ils ont la même moyenne arithmétique. Dans ce cas, l'intervalle ayant le plus grand écart-type est le plus dispersé.

**Pour t'entraîner :**

Les deux tableaux des effectifs suivants, représentent les distributions des notes des élèves des deux classes de troisième préparatoire A et B dans un examen :

Classe A	Intervalles des notes	0 →	10 →	20 →	30 →	40 → 50	Total
	Nombre d'élèves	2	5	11	15	7	40

Classe B	Intervalles des notes	0 →	10 →	20 →	30 →	40 → 50	Total
	Intervalles des notes	2	3	18	7	10	40

- 1 **Représente** dans un même graphique, chacune des deux distributions par un polygone des effectifs.
- 2 **Calcule** la moyenne arithmétique et l'écart-type pour chaque distribution.
- 3 Laquelle des deux classes est la plus harmonisée au niveau de l'acquisition ?

Exercices (3-2)

- 1 **Calcule** l'écart-type pour chacune des données suivantes :

A 16, 32, 5, 20, 27

B 72, 53, 61, 70, 59

C 15, -12, -9, 27, -6

D 22, 20, 20, 20, 18

- 2 Si l'écart-type pour un ensemble de données est égal à zéro, que peux-tu déduire ?
- 3 Les deux tableaux des effectifs suivants, montrent le nombre d'élèves de certaines familles dans l'une des nouvelles villes :

Nombre d'enfants	Zéro	1	2	3	4
Nombre de familles	8	16	50	20	6



Calcule la moyenne arithmétique et l'écart-type pour le nombre d'enfants.

- 4 Les deux tableaux des effectifs suivants, montrent les poids de 200 élèves d'une école :

Poids en kilogrammes	35 →	45 →	55 →	65 →	75 →	Total
Nombre d'élèves	20	55	80	30	15	200

Calcule : A la moyenne arithmétique pour les poids des élèves.
B l'écart-type pour les poids des élèves.

Exercices généraux

- 1 Cite un moyen convenable pour recueillir les données dans chaque cas :

- A Connaître la sorte de blé avant de l'acheter.
B Connaître le degré de salinité de l'eau de mer.
C Voir le degré de validité des bouteilles de gaz avant de les distribuer.

- 2 On veut prendre un échantillon aléatoire stratifié dans lequel, chaque classe est représentée selon sa grandeur dans une population composée de 40000 éléments. L'échantillon est composé de trois niveaux comme le montre le tableau suivant :

Nombre de niveaux	1	2	3
Nombres par niveau	12000	20000	8000

Si le nombre d'éléments du premier niveau de l'échantillon est 240, trouve la grandeur de l'échantillon entier.

- 3 Calcule la moyenne arithmétique et l'écart-type :

23, 12, 17, 13, 15, 16, 8, 9, 37, 10.

- 4 Les deux tableaux des effectifs suivants, montrent les âges de 10 enfants :

Âge en années	5	8	9	10	12	Total
Nombre d'enfants	1	2	3	3	1	10

Calcule l'écart-type pour l'âge en années

- 5 Les deux tableaux des effectifs suivants, montrent les quantités d'essence consommées par un groupe de voitures

Nombre de kilomètres par litre	5-	7-	9-	11-	13-	15-17	Total
Nombre de voitures	3	6	10	12	5	4	40

Calcule l'écart-type pour le nombre de kilomètres par litre.

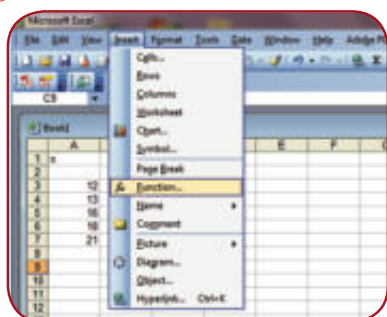
En lien avec la
technologie



L'utilisation des logiciels pour calculer l'écart-type :

[1] Appuie sur (**Start**) puis sur (**programs**) puis sur les tableaux (**Excel**) Les écrans suivants vont apparaître :

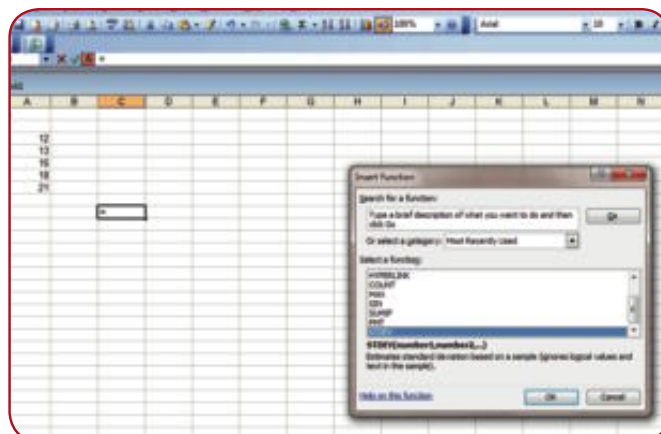
1



➡ Introduis les données de l'exemple (1) dans la zone (A_3, A_7) comme le montre la figure

➡ Dans le menu (Insert), choisis la fonction (Fx), puis fais exécuter

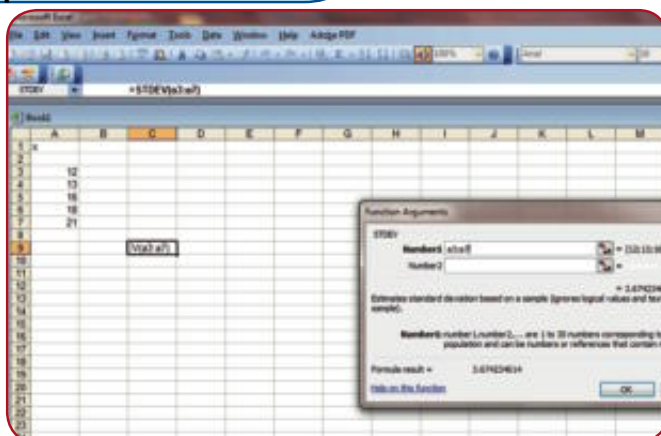
2



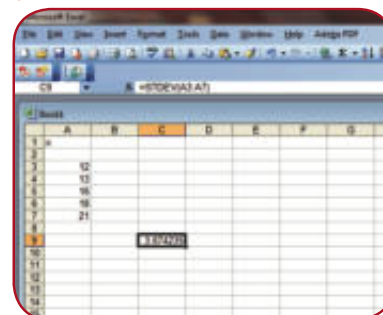
➡ Dans la boîte de dialogue de la recherche d'une fonction choisis (STDEVP) puis fais exécuter.

4

3



➡ Pour calculer l'écart-type pour la population de données, on sélectionne la zone de la variable (A_3, A_7), puis on fait exécuter.



➡ On remarque que l'écart-type pour la population de données = 3,286335 C'est le même résultat calculé précédemment à l'aide d'une calculatrice dans l'exemple (1)

Activité

1 En utilisant la méthode des échantillons, choisis un échantillon aléatoire de 10 élèves de ta classe. Mesure ensuite leurs tailles en centimètres, puis calcule la moyenne de tailles des tes camarades. Compare ces résultats obtenus aux résultats obtenus par d'autres camarades. Explique ta réponse.

2 Le tableau ci-contre indique la température dans certaines villes :

A Calcule la moyenne arithmétique et l'écart-type pour la température maximale.

B Calcule la moyenne arithmétique et l'écart-type pour la température minimale

Tu peux regarder la météo quotidiennement et calculer l'écart-type et garder les calculs dans portfolio)

Ville	Max	Min
Ismailia	25	11
Suez	26	12
Arish	24	10
Nekhl	24	6
Taba	22	7
Tore	26	16
Hurghada	27	15
Rafah	26	11

Epreuve de l'unité

1 Explique brièvement ce que c'est un échantillon aléatoire simple en montrant comment le choisir.

2 Calcule la moyenne arithmétique et l'écart-type pour chacune des données suivantes :

A 65, 61, 70, 64, 70, 76, 70

B 39, 85, 46, 91, 88, 50, 77

Lequel des deux groupes A et B est le plus harmonisé ?

3 Dans le tableau des effectifs suivants, calcule la moyenne arithmétique et l'écart-type :

Intervalles	Zéro →	4 →	8 →	12 →	16 →	Total
Effectifs	3	4	7	2	9	25

4 La direction d'une usine a fait un sondage d'opinion avec 200 ouvriers pour savoir leurs avis sur ce qu'ils préfèrent manger pendant la pause. Elle a attribué un numéro entre 1 et 200 à chaque ouvrier, puis elle a choisi un échantillon de 10 % des ouvriers pour les questionner sur ce qu'ils préfèrent :

A les boissons chaudes

B les repas rapides

C les crèmes glacées

à l'aide de ta calculatrice, détermine les numéros des ouvriers ciblés pour constituer l'échantillon.



La trigonométrie est l'une des sciences des mathématiques qui étudie la relation entre les longueurs des côtés d'un triangle et les mesures de ses angles. Les anciens égyptiens sont les premiers à utiliser les formules de la trigonométrie pour construire les pyramides et les temples, pour étudier l'astronomie et pour calculer les distances géographiques.

Les babyloniens ont mesuré les angles en

degrés, en minutes et en secondes. Le mathématicien Al-Biruni a élaboré les tables des sinus des angles puis le mathématicien Al-Tusi a montré que les sinus des angles sont proportionnels aux côtés qui lui sont opposés. L'Occident a pris connaissance des sciences arabes et musulmanes à travers les traductions des livres de l'astronomie arabe par le savant allemand Yohan Mueller.

Abu Rayhane Al-Biruni est né à Khorezm en 973 et mort en 1048.

Rapports trigonométriques d'un angle aigu



A apprendre

- ☆ Comment trouver les rapports trigonométriques d'un angle aigu dans un triangle rectangle

Expressions de base

- ☆ Mesure en degrés
- ☆ Sinus d'un angle
- ☆ Cosinus d'un angle
- ☆ Tangente d'un angle

Réfléchis et discute

Dans la figure ci-contre, ABC est un triangle rectangle en B. Complète en utilisant les symboles ($>$ ou $<$ ou $=$)

1 Si $m(\angle C) > m(\angle A)$, alors $AB \dots BC$

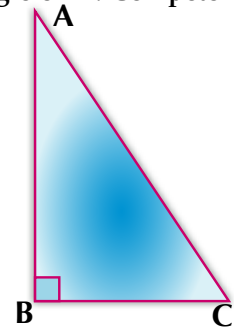
2 $\frac{AB}{AC} \dots 1$

3 $\frac{AC}{BC} \dots 1$

4 $\frac{AB}{AC} \div \frac{BC}{AC} \dots \frac{AB}{BC}$

5 $\frac{AB}{AC} + \frac{BC}{AC} \dots 1$

6 $\frac{(AB)^2}{(AC)^2} + \frac{(BC)^2}{(AC)^2} \dots 1$



Mesure en degrés d'un angle.

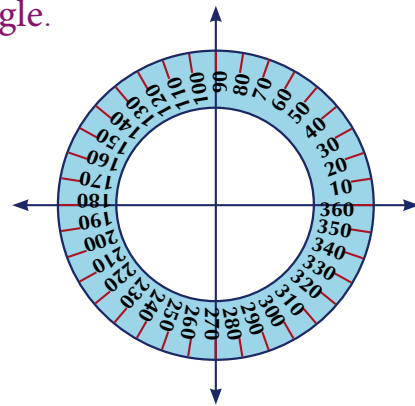
Nous avons étudié que la somme des mesures des angles formés autour d'un point = 360° . Si on divise ces angles en quatre quadrants égaux, chaque quadrant, contiendra 90° (un angle droit). Le degré est l'unité de mesure en degrés.

Chaque degré est divisé en petites unités comme suit:

Un degré = 60 minutes , Une minute = 60 secondes

35 degrés, 24 minutes et 42 secondes s'écrit

$35^\circ 24' 42''$ Nous pouvons convertir les minutes et les secondes en fractions de degrés par l'une *des méthodes suivantes* :






[1] On convertit $24'$ en degrés $= \frac{24}{60} = 0,4$, On convertit ensuite $42''$ secondes en minutes

puis en degrés : $42'' = \frac{42}{60} = 0,7'$

$$0,7' = \frac{0,7}{60} = 0,0116667$$

Donc $35^\circ 24' 42'' = 35 + 0,4 + 0,0116667 = 35,4116667^\circ$

[2] On utilise une calculatrice comme suit :

35  24  42 

Le résultat est : $35,4116667^\circ$

De même, on peut convertir les fractions d'un degré en minutes et secondes.

Par exemple : $54,36^\circ$ peut être converti en minutes et secondes en utilisant les touches suivantes :

54,36    = **On obtient le résultat : $54^\circ 21' 36''$**



Pour t'entraîner :

1 Ecris chacun des angles suivants en degrés :

A $76^\circ 16'$

B $45^\circ 3' 56''$

C $85^\circ 38' 8''$

D $65^\circ 26' 43''$

2 Ecris chacun des angles suivants en degrés, minutes et secondes.

A $34,6^\circ$

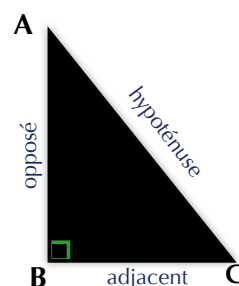
B $78,08^\circ$

C $56,18^\circ$


D $83,246^\circ$


Rapports trigonométriques de base d'un angle aigu :

La figure ci-contre représente un triangle ABC rectangle en B où les deux angles A et C sont complémentaires. Le côté opposé à l'angle C est appelé « opposé », le côté adjacent à l'angle C est appelé « adjacent » et le côté opposé à l'angle droit est appelé « hypoténuse ».



Nous allons étudier les rapports trigonométriques de base d'un angle aigu qui sont :

1 **Le sinus d'un angle** : On le note en arabe \sin , en français \sin et sur la calculatrice  .

2 **Le cosinus d'un angle** : On le note en arabe \cos , en français \cos et sur la calculatrice  .

3 **La tangente d'un angle** : On la note en arabe \tan , en français \tan et sur la calculatrice  .

$\sin C$	$=$	$\frac{\text{opposé}}{\text{hypoténuse}}$	$=$	$\frac{AB}{AC}$
$\cos C$	$=$	$\frac{\text{adjacent}}{\text{hypoténuse}}$	$=$	$\frac{BC}{AC}$
$\text{tg } C$	$=$	$\frac{\text{opposé}}{\text{adjacent}}$	$=$	$\frac{AB}{BC}$



Exemples

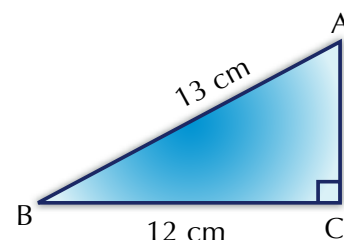
1 ABC est un triangle rectangle en C tel que $AB = 13 \text{ cm}$ et $BC = 12 \text{ cm}$.

A Trouve la longueur de \overline{AC} .

B Calcule : $\sin A$, $\cos A$, $\text{tg } A$, $\sin B$, $\cos B$ et $\text{tg } B$.

C Démontre que : $\sin A \cos B + \cos A \sin B = 1$.

D Calcule : $1 + \text{tg}^2 A$.



Solution

A \because le triangle ABC est rectangle en C $\therefore AC^2 = AB^2 - BC^2$

$$\therefore AC^2 = (13)^2 - (12)^2 = (13 + 12)(13 - 12) = 25$$

$$\therefore AC = 5 \text{ cm}$$

B $\sin A = \frac{12}{13}$, $\cos A = \frac{5}{13}$, $\text{tg } A = \frac{12}{5}$, $\sin B = \frac{5}{13}$, $\cos B = \frac{12}{13}$, $\text{tg } B = \frac{5}{12}$

C Membre de gauche = $\sin A \cos B + \cos A \sin B$

$$\frac{12}{13} \times \frac{12}{13} + \frac{5}{13} \times \frac{5}{13} = \frac{144}{169} + \frac{25}{169} = \frac{144 + 25}{169} = 1$$

D $1 + \text{tg}^2 A = 1 + \left(\frac{12}{5}\right)^2 = 1 + \frac{144}{25} = \frac{169}{25}$



Pour t'entraîner :

ABC est un triangle tel que $AB = AC = 10 \text{ cm}$ et $BC = 12 \text{ cm}$. On trace $\overrightarrow{AD} \perp \overline{BC}$, $\overrightarrow{AD} \cap \overline{BC} = \{D\}$

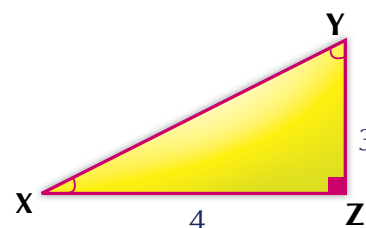
[1] Trouve la valeur de $\sin(\angle CAD)$, $\cos(\angle CAD)$ et $\text{tg}(\angle CAD)$

[2] Démontre que : A $\sin^2 C + \cos^2 C = 1$ B $\sin B + \cos C > 1$

Exercices (4-1)

1 Dans la figure ci-contre, complète :

- A $\sin X = \dots\dots\dots$ B $\cos X = \dots\dots\dots$
 C $\operatorname{tg} X = \dots\dots\dots$ D $\cos Y = \dots\dots\dots$
 E $\operatorname{tg} Y = \dots\dots\dots$ F $\sin Y = \dots\dots\dots$

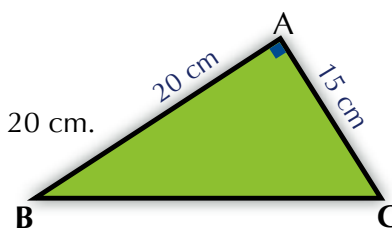


- 2 Si les mesures de deux angles complémentaires sont dans le rapport 3 : 5, *trouve* en degrés les mesures de ces deux angles .
- 3 Si les mesures de deux angles supplémentaires sont dans le rapport 3 : 5, *trouve* en degrés les mesures de ces deux angles.
- 4 Si les mesures des angles d'un triangle sont dans le rapport 3 : 4 : 7, *trouve* en degrés les mesures de ces angles.
- 5 ABC est un triangle rectangle en B tel que $AB = 8$ cm et $BC = 15$ cm. Trouve la valeur de chacun des rapports trigonométriques suivants : $\sin C$, $\cos A$, $\cos C$ et $\operatorname{tg} C$.
- 6 ABC est un triangle rectangle en B tel que $2 AB = \sqrt{3} AC$.
Trouve les rapports trigonométriques de base de l'angle C .

7 Dans la figure ci-contre :

ABC est un triangle tel que, $m(\angle A) = 90^\circ$, $AC = 15$ cm et $AB = 20$ cm.

Démontre que : $\cos C \cos B - \sin C \sin B = 0$



- 8 XYZ est un triangle rectangle en y tel que $XY = 5$ cm et $XZ = 13$ cm.
Trouve la valeur de : A $\operatorname{tg} X + \operatorname{tg} Z$ B $\cos X \cos Z - \sin X \sin Z$
C $\sin X \cos Z + \cos X \sin Z$

- 9 XYZ est un triangle rectangle en Z tel que $XZ = 7$ cm et $XY = 25$ cm.

Trouve la valeur de :

- A $\operatorname{tg} C \times \operatorname{tg} Y$ B $\sin^2 X + \sin^2 Y$

- 10 ABCD est un trapèze isocèle tel que $AD \parallel BC$, $AD = 4$ cm, $AB = 5$ cm et

$BC = 12$ cm. Démontre que : $\frac{5 \operatorname{tg} B \cos C}{\sin^2 C + \cos^2 B} = 3$

Rapports trigonométriques de quelques angles



A apprendre

☆ Comment trouver les rapports trigonométriques des angles

☆ (30°, 45°, 60°)

Expressions de base

☆ rapport trigonométrique
☆ Angles particuliers

Réfléchis et discute

1 Dans la figure ci-contre :

ABC est un triangle équilatéral de longueur de côté $2L$, $AD \perp BC$.

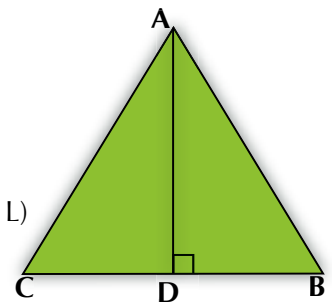
Complète :

1 $m(\angle B) = \dots\dots\dots^\circ$

2 $m(\angle BAD) = \dots\dots\dots^\circ$

3 $BD = \dots\dots$ et $AD = \dots\dots$ (en fonction de L)

4 $BD : AB : AD = \dots\dots : \dots\dots : \dots\dots$



De ce qui précède, on remarque que :

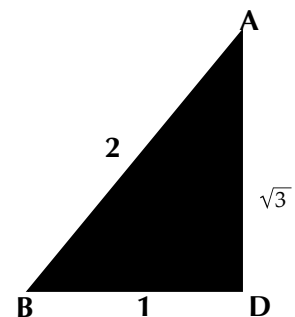
(1) le triangle ABD est un triangle à 30° et 60° et que le rapport entre les longueurs de ses côtés est $BD : AB : AD = 1 : 2 : \sqrt{3}$ par conséquent, nous pouvons calculer les rapports trigonométriques de base des angles 30° et 60° **comme suit** :

$$\sin 30^\circ = \frac{BD}{AB} = \frac{1}{2}, \cos 30^\circ = \frac{AD}{AB} = \frac{\sqrt{3}}{2}$$

$$\operatorname{tg} 30^\circ = \frac{BD}{AD} = \frac{1}{\sqrt{3}}$$

$$\sin 60^\circ = \frac{AD}{AB} = \frac{\sqrt{3}}{2}$$

$$\cos 60^\circ = \frac{BD}{AB} = \frac{1}{2}, \operatorname{tg} 60^\circ = \frac{AD}{BD} = \sqrt{3}$$



Pour t'entraîner :

Complète : $\sin 30^\circ = \cos \dots\dots^\circ$ $\operatorname{tg} 30^\circ = \frac{1}{\dots}$ $\cos 30^\circ = \sin \dots\dots^\circ$

Réfléchis et discute

1 Dans la figure ci-contre :

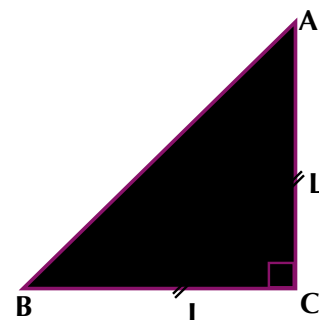
ABC est un triangle isocèle rectangle en C dont la longueur de chacun des deux côtés ayant la même longueur est L.

Complète :

1 $m(\angle A) = \dots\dots\dots$, $m(\angle B) = \dots\dots\dots$

2 $\because AB^2 = AC^2 + \dots\dots\dots$ $\therefore AB^2 = L^2 + \dots\dots\dots$

3 $AC : BC : AB = \dots\dots\dots : \dots\dots\dots : \dots\dots\dots$
 $\therefore (AB)^2 = 2L^2$ $\therefore AB = \sqrt{2} L$



De ce qui précède, on remarque que :

Dans le triangle ABC, $m(\angle A) = m(\angle B) = 45^\circ$ et que le rapport entre les longueurs de ses côtés est $AC : BC : AB = 1 : 1 : \sqrt{2}$. Par conséquent, nous pouvons calculer les rapports trigonométriques de l'angle 45° **comme suit :**

$$\sin 45^\circ = \frac{AC}{AB} = \frac{1}{\sqrt{2}}, \quad \cos 45^\circ = \frac{BC}{AB} = \frac{1}{\sqrt{2}}, \quad \text{tg } 45^\circ = \frac{AC}{BC} = 1$$

Nous pouvons mettre les rapports trigonométriques des angles précédents dans le tableau suivant :

Mesure de l'angle Rapport	30°	60°	45°
sin	$\frac{1}{2}$	$\frac{\sqrt{3}}{2}$	$\frac{1}{\sqrt{2}}$
cos	$\frac{\sqrt{3}}{2}$	$\frac{1}{2}$	$\frac{1}{\sqrt{2}}$
tg	$\frac{1}{\sqrt{3}}$	$\sqrt{3}$	1

Remarques:

- 1 De ce qui précède, on trouve que :** le **(sinus)** d'un angle est égal au **(cosinus)** du complément de l'angle et réciproquement.

Par exemple : $\sin 30^\circ = \cos 60^\circ$, $\cos 30^\circ = \sin 60^\circ$, $\sin 45^\circ = \cos 45^\circ$.

- 2** Pour tout angle A, $\text{tg } A = \frac{\sin A}{\cos A}$.



Exemples

1 Trouve la valeur de :

A $\cos 60^\circ \sin 30^\circ - \sin 60^\circ \operatorname{tg} 60^\circ + \cos^2 30^\circ$

B $\frac{\cos^2 60^\circ + \cos^2 30^\circ + \operatorname{tg}^2 45^\circ}{\sin 60^\circ \operatorname{tg} 60^\circ - \sin 30^\circ}$

Solution

A L'expression = $\cos 60^\circ \sin 30^\circ - \sin 60^\circ \operatorname{tg} 60^\circ + \cos^2 30^\circ$

$$= \frac{1}{2} \times \frac{1}{2} - \frac{\sqrt{3}}{2} \times \sqrt{3} + \left(\frac{\sqrt{3}}{2}\right)^2 = \frac{1}{4} - \frac{3}{2} + \frac{3}{4} = -\frac{1}{2}$$

B L'expression = $\frac{\cos^2 60^\circ + \cos^2 30^\circ + \operatorname{tg}^2 45^\circ}{\sin 60^\circ \operatorname{tg} 60^\circ - \sin 30^\circ} = \frac{\left(\frac{1}{2}\right)^2 + \left(\frac{\sqrt{3}}{2}\right)^2 + (1)^2}{\frac{\sqrt{3}}{2} \times \sqrt{3} - \left(\frac{1}{2}\right)} = \frac{\frac{1}{4} + \frac{3}{4} + 1}{\frac{3}{2} - \frac{1}{2}} = \frac{1+1}{1} = 2$



Pour t'entraîner :

Démontre que :

A $\sin^2 30^\circ = 5 \cos^2 60^\circ - \operatorname{tg}^2 45^\circ$

B $\operatorname{tg}^2 60^\circ - \operatorname{tg}^2 30^\circ = (1 + \operatorname{tg} 60^\circ \operatorname{tg} 30^\circ) \div \cos^2 30^\circ$



Exemples

2 Trouve les rapports trigonométriques suivants :

$\sin 43^\circ$, $\cos 53^\circ 28'$, $\operatorname{tg} 64^\circ 37' 49''$

En approchant le résultat à quatre décimales près.

Solution

Départ $\sin 43 =$

$\sin 43^\circ \simeq 0,6820$

Départ $\cos 53 \quad \text{°}' \quad 28 \quad \text{°}' \quad =$

$\cos 53^\circ 28' \simeq 0,5953$

Départ $\tan 64 \quad \text{°}' \quad 37 \quad \text{°}' \quad 49 \quad \text{°}' \quad =$

$\operatorname{Tan} 64^\circ 37' 49'' \simeq 2,1089$



Détermination d'un angle en connaissant l'un de ses rapports trigonométriques :

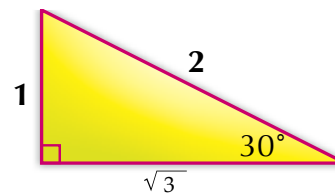
Nous avons déjà étudié comment calculer les rapports trigonométriques d'un angle donné.

Par exemple : pour un angle de mesure 30° , $\sin 30^\circ = \frac{1}{2}$ et

pour un angle de mesure 33° ,

$$\sin 33^\circ = 0,544639035$$

$$\sin 33^\circ = 0,544639035$$



Maintenant nous voulons calculer la mesure d'un angle en connaissant l'un de ses rapports trigonométriques.

Par exemple : Si $\sin C = 0,544639035$, trouver la valeur de C .

Pour calculer x , on utilise une calculatrice comme suit :

Départ \rightarrow $\sin^{-1} 0,544639035 = 33^\circ$



Exemples

3 Trouve la mesure de l'angle E dans chacun des cas suivants :

$$\sin E = 0,6 \quad , \quad \cos E = 0,6217 \quad , \quad \operatorname{tg} E = 1,0823$$

Solution

$$\because \sin E = 0,6 \quad \therefore m(\angle E) = 36^\circ 52' 12''$$

$$\because \cos E = 0,6217 \quad \therefore m(\angle E) = 51^\circ 33' 35''$$

$$\because \operatorname{tg} E = 1,0823 \quad \therefore m(\angle E) = 47^\circ 15' 48''$$

$$\begin{aligned} \operatorname{SHIFT} \sin 0,6 &= 36,8698976^\circ \\ \operatorname{SHIFT} \cos 0,6217 &= 51,5588111^\circ \\ \operatorname{SHIFT} \tan 1,0823 &= 47,2635556^\circ \end{aligned}$$

4 **En lien avec la géométrie :** ABC est un triangle isocèle tel que $AB = AC = 8$ cm et $BC = 12$ cm.

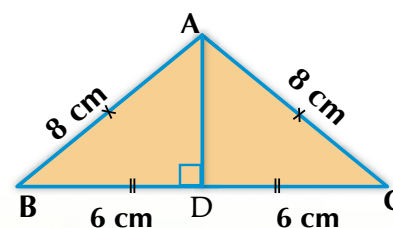
Trouve : **[1]** $m(\angle B)$

[2] l'aire du triangle à deux décimales près

Solution

[1] On trace $\overline{AD} \perp \overline{BC}$

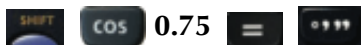
\because le triangle ABC est isocèle.



∴ D est le milieu de \overline{BC} et donc $BD = CD = 6 \text{ cm}$

$$\therefore \cos B = \frac{6}{8} = \frac{3}{4} = 0,75$$

En utilisant une calculatrice :



$$\therefore m(\angle B) = 41^\circ 24' 35''$$

(ce qu'il fallait démontrer en 1)

Pour calculer l'aire du triangle, on trouve AD

(du théorème de Pythagore)

$$\therefore (AD)^2 = (AB)^2 - (BD)^2$$

$$\therefore (AD)^2 = 64 - 36 = 28 \quad \therefore AD = 2\sqrt{7}$$

$$\therefore \text{l'aire du triangle ABC} = \frac{1}{2} \times BC \times AD = \frac{1}{2} \times 12 \times 2\sqrt{7}$$

$$= 12\sqrt{7} \text{ cm}^2 \simeq 31,75 \text{ cm}^2 \quad (\text{ce qu'il fallait démontrer en 2})$$

Autre solution pour la deuxième partie de la question:

$$\therefore \sin B = \frac{AD}{AB}$$

$$\therefore \sin B = \frac{AD}{8}$$

$$\therefore AD = 8 \sin (41^\circ 24' 35'')$$

1

$$\text{L'aire du triangle ABC} = \frac{1}{2} \times BC \times AD$$

De 1

$$\therefore \text{L'aire du triangle ABC} = \frac{1}{2} \times 12 \times 8 \sin (41^\circ 24' 35'') \simeq 31,75 \text{ cm}^2.$$

On peut utiliser une calculatrice comme suit :



Pour t'entraîner :

Complète ce qui suit :

1 Si $\sin X = \frac{1}{2}$ où x est un angle aigu, alors $m(\angle X) = \dots\dots\dots$

2 Si $\sin \frac{X}{2} = \frac{1}{2}$ où x est un angle aigu, alors $m(\angle X) = \dots\dots\dots$

3 $\sin 60^\circ + \cos 30^\circ - \tan 60^\circ = \dots\dots\dots$

4 Si $\tan(X + 10) = \sqrt{3}$ où X est un angle aigu, alors $m(\angle X) = \dots\dots\dots$

5 Si $\tan 3X = \sqrt{3}$ où X est un angle aigu, alors $m(\angle X) = \dots\dots\dots$

Exercices (4-2)

1 Trouve la valeur de :

$$\sin 45^\circ \cos 45^\circ + \sin 30^\circ \cos 60^\circ - \cos^2 30^\circ.$$

2 Démontre que :

A $\cos 60^\circ = 2 \cos^2 30^\circ - 1$

B $\operatorname{tg}^2 60^\circ - \operatorname{tg}^2 45^\circ = \cos^2 60^\circ + \sin^2 60^\circ + 2 \sin 30^\circ$

3 Trouve la valeur de X si

$$4X = \cos^2 30^\circ \operatorname{tg}^2 30^\circ \operatorname{tg}^2 45^\circ$$

4 Trouve la valeur de E, où E est un angle aigu

$$\sin E = \sin 60^\circ \cos 30^\circ - \cos 60^\circ \sin 30^\circ$$

5 En lien avec la géométrie : Dans la figure ci-contre :

ABCD est un rectangle tel que $AB = 15 \text{ cm}$, $AC = 25 \text{ cm}$.

Trouve : [1] $m(\angle ACB)$

[2] l'aire du rectangle ABCD.



6 En lien avec la géométrie : Dans la figure ci-contre :

ABCD est un parallélogramme ayant pour aire 96 cm^2 ,

$$BE : EC = 1 : 3,$$

$$\overline{AE} \perp \overline{BC} \text{ et } AE = 8 \text{ cm}$$



Trouve : [1] la longueur de \overline{AD} [2] $m(\angle B)$

[3] la longueur de \overline{AB} à une décimale près (*Utilise plus qu'une méthode*)

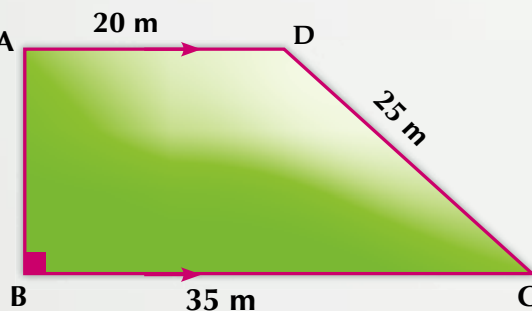
Activité

Un terrain est sous la forme d'un trapèze ABCD tel que $\overline{AD} \parallel \overline{BC}$, $m(\angle B) = 90^\circ$, $AD = 20$ mètres, $BC = 35$ mètres et $DC = 25$ mètres

Conclusion : A Trouve la longueur de \overline{AB} .

B Trouve $m(\angle C)$.

C Si le propriétaire d'un terrain veut construire une fontaine circulaire à l'intérieur du terrain, quelle est la plus grande aire possible ? Calcule dans ce cas l'aire de la partie restante du terrain. (prendre $\pi = 3,14$)



Epreuve de l'unité

1 Démontre que les égalités suivantes sont vraies :

A $\sin 60^\circ = 2 \sin 30^\circ \cos 30^\circ$

B $\operatorname{tg} 60^\circ = \frac{2 \operatorname{tg} 30^\circ}{1 - \operatorname{tg}^2 30^\circ}$

2 Sans utiliser une calculatrice, trouve la valeur de x (où x est un angle aigu) qui vérifie l'égalité :

A $\operatorname{tg} X = 4 \cos 60^\circ \sin 30^\circ$


B $2 \sin x = \sin 30^\circ \cos 60^\circ + \cos 30^\circ \sin 60^\circ$

3 ABC est un triangle isocèle tel que $AB = AC = 12,6$ cm et $m(\angle C) = 84^\circ 24'$.

Trouve à une décimale près la longueur de \overline{BC} .

4 ABCD est un trapèze tel que $\overline{AD} \parallel \overline{BC}$, $m(\angle B) = 90^\circ$. Si $AB = 3$ cm, $AD = 6$ cm et $BC = 10$ cm, **démontre que** : $\cos(\angle DCB) - \operatorname{tg}(\angle ACB) = \frac{1}{2}$

5 Une échelle \overline{AB} de longueur 6 mètres repose par son extrémité supérieure A sur un mur vertical et avec son extrémité inférieure B sur un sol. Si le point C est la projection du point A sur le sol et si l'échelle est inclinée de 60° sur le sol, calcule la longueur de \overline{AC} .



On utilise le radar pour déterminer les distances, les hauteurs, les directions et les vitesses des corps mobiles comme les avions et les navires.

L'antenne du radar reçoit les ondes reflétées et sur son écran on peut déterminer les coordonnées de l'objet cible (avion – navire -).

Distance entre deux points



A apprendre

- ☆ Comment trouver la distance entre deux points en utilisant la formule

Expressions de base

- ☆ repère cartésien
- ☆ couple
- ☆ Distance entre deux points.

Réfléchis et discute

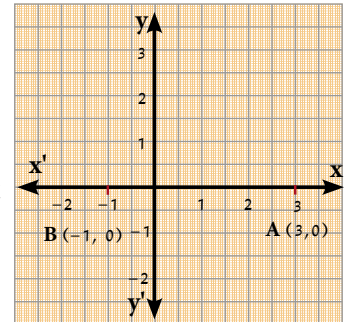
Nous avons déjà appris à représenter un couple dans un repère cartésien.

Maintenant, peut-on trouver la distance entre les paires de points suivants :

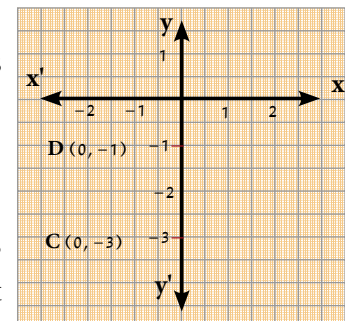
- 1 A (3, 0) , B (-1, 0)
- 2 C (0, -3), D (0, -1)
- 3 M (3, 2), N (7, 5)

De ce qui précède, on remarque que :

- 1 Les deux points A(3, 0) et B(-1, 0) sont situés sur l'axe des abscisses et par conséquent : $AB = |-1 - 3| = |-4|$
D'où $AB = 4$ unités de longueur .



- 2 Les deux points C(0, -3) et D(0, -1) sont situés sur l'axe des ordonnées et par conséquent :
 $CD = |-3 - (-1)| = |-3 + 1| = |-2|$
D'où $CD = 2$ unités de longueur .



- 3 On peut représenter les deux points M(3, 2) et N(7, 5) graphiquement comme le montre la figure ci-contre. Pour trouver la longueur de \overline{MN} on calcule :

$$MK = |7 - 3| = 4 \text{ unités de longueur}$$

$$NK = |5 - 2| = 3 \text{ unités de longueur}$$

Le $\triangle MKN$ est rectangle en K

$$\therefore (NM)^2 = (MK)^2 + (KN)^2$$

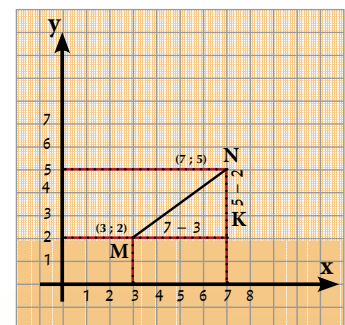
(théorème de Pythagore)

$$(NM)^2 = (3)^2 + (4)^2$$

$$(NM)^2 = 9 + 16$$

$$(NM)^2 = 25$$

$$\therefore (NM) = 5 \text{ unités de longueur}$$



D'une manière générale :

Si $M(x_1, y_1)$, $N(x_2, y_2)$ sont deux points dans un repère cartésien,

alors : $KM = |OB - OA|$

$$= |x_2 - x_1|$$

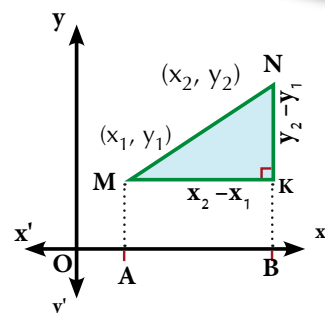
$KN = |NB - KB| = |y_2 - y_1|$

∴ Le $\triangle NKM$ est rectangle en K (**théorème de Pythagore**)

$$\therefore (MN)^2 = (KM)^2 + (KN)^2$$

$$= (x_2 - x_1)^2 + (y_2 - y_1)^2$$

$$\therefore MN = \sqrt{(x_2 - x_1)^2 + (y_2 - y_1)^2}$$



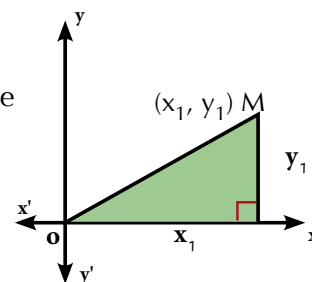
La distance entre deux points (x_1, y_1) , $(x_2, y_2) = \sqrt{(x_2 - x_1)^2 + (y_2 - y_1)^2}$

La distance entre les deux points = $\sqrt{\text{carré de la différence des abscisses} + \text{carré de la différence des ordonnées}}$

Remarque:

Dans la figure ci-contre, la distance du point (x_1, y_1) au point d'origine

$$O(0, 0), OM = \sqrt{x_1^2 + y_1^2}$$



Pour t'entraîner :

Soient A, B, C et D quatre points d'un repère orthonormé. Détermine les conditions pour lesquelles ces points sont les sommets de chacune des figures suivantes :

- ① un parallélogramme ② un rectangle ③ un trapèze ④ un carré



Exemples

- ① ABCD est un quadrilatère tel que $A(2, 4)$, $B(-3, 0)$, $C(-7, 5)$ et $D(-2, 9)$. Démontre que la figure ABCD est un carré.

Solution

$$AB = \sqrt{(x_2 - x_1)^2 + (y_2 - y_1)^2} = \sqrt{[-3 - 2]^2 + [0 - 4]^2} = \sqrt{(-5)^2 + (-4)^2} = \sqrt{41}$$

$$BC = \sqrt{[-7 - (-3)]^2 + [5 - 0]^2} = \sqrt{(-4)^2 + (5)^2} = \sqrt{41}$$

$$C D = \sqrt{[-2 - (-7)]^2 + [9 - 5]^2} = \sqrt{(5)^2 + (4)^2} = \sqrt{41}$$

$$D A = \sqrt{[2 - (-2)]^2 + [4 - 9]^2} = \sqrt{(4)^2 + (-5)^2} = \sqrt{41}$$

$$\therefore A B = B C = D C = D A = \sqrt{41}$$

\therefore La figure A B C D est un losange.

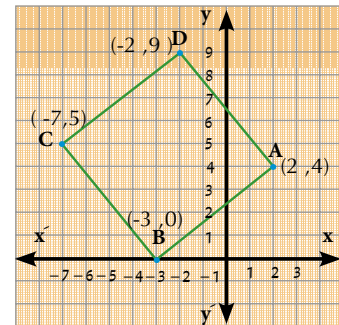
Pour démontrer que la figure ABCD est un carré, on peut calculer les longueurs de ses diagonales \overline{AC} et \overline{BC} .

$$A C = \sqrt{[-7 - 2]^2 + [5 - 4]^2} = \sqrt{(-9)^2 + 1} = \sqrt{82}$$

$$B D = \sqrt{[-2 - (-3)]^2 + [9 - 0]^2} = \sqrt{(-1)^2 + (9)^2} = \sqrt{82}$$

$\therefore A C = B D = \sqrt{82}$ et les côtés de la figure ABCD sont de même longueur,

\therefore La figure A B C D est un carré.



- 2** Démontre que le triangle ayant pour sommets A(1, 4), B(-1, -2) et C(2, -3) est rectangle puis calcule son aire.

Solution

$$(A B)^2 = (-1 - 1)^2 + (-2 - 4)^2 = 4 + 36 = 40$$

$$(B C)^2 = [2 - (-1)]^2 + [-3 - (-2)]^2 = 9 + 1 = 10$$

$$(A C)^2 = (2 - 1)^2 + (-3 - 4)^2 = 1 + 49 = 50$$

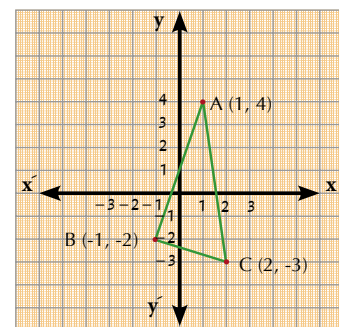
$$(A B)^2 + (B C)^2 = 40 + 10 = 50, (A C)^2 = 50$$

$$\therefore (A C)^2 = (A B)^2 + (B C)^2$$

$$\therefore M(\angle B) = 90^\circ$$

(Réciproque du théorème de Pythagore)

$$\therefore M(\triangle A B C) = \frac{1}{2} A B \times B C = \frac{1}{2} \times \sqrt{40} \times \sqrt{10} = \frac{1}{2} \times 2\sqrt{10} \times \sqrt{10} = 10 \text{ unités carrées}$$



- 3** Démontre que les points A(3, -1), B(-4, 6) et C(2, -2) sont situés sur un cercle de centre M(-1, 2), puis calcule le périmètre du cercle.

Solution

$$A M = \sqrt{(-1 - 3)^2 + [2 - (-1)]^2} = \sqrt{(-4)^2 + (3)^2} = \sqrt{25} = 5$$

$$B M = \sqrt{[-1 - (-4)]^2 + [2 - 6]^2} = \sqrt{(3)^2 + (-4)^2} = \sqrt{25} = 5$$

$$C M = \sqrt{(-1 - 2)^2 + [2 - (-2)]^2} = \sqrt{(-3)^2 + (4)^2} = \sqrt{25} = 5$$

$\therefore A M = B M = C M = 5 \quad \therefore$ Les points A, B et C sont situés sur un cercle de centre M

\therefore Le périmètre du cercle = $2 \pi r = 2 \pi \times 5 = 10 \pi$ unités de longueur



Pour t'entraîner :

Démontre que les points : A (4, 3.), B(1, 1.) et C (-5, -3.) sont alignés.

Complète :

$$AB = \sqrt{(1-4)^2 + (1-3)^2} = \dots\dots\dots$$

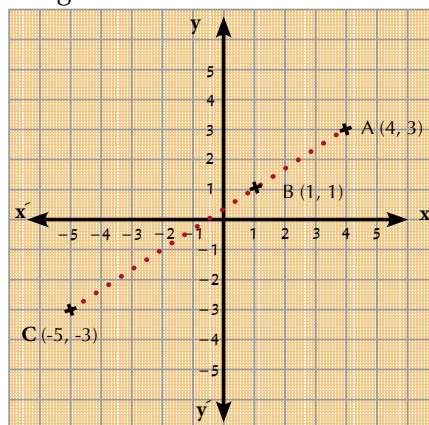
$$BC = \sqrt{(-5-1)^2 + (-3-1)^2} = \dots\dots\dots$$

$$AC = \sqrt{(-5-4)^2 + (-3-3)^2} = \dots\dots\dots$$

$$\therefore AB + BC = \dots\dots + \dots\dots = \dots\dots$$

$$\therefore AB + \dots\dots = AC$$

\therefore Les points A , B et C sont alignés .



Exercices (5-1)

[1] Complète ce qui suit :

- 1 La distance du point (-3, 4) au point d'origine est égale à
- 2 La distance entre les deux points (- 5, 0) et (0, 12) est égale à
- 3 La distance entre les deux points (15, 0) et (6, 0) est égale à
- 4 La longueur du rayon du cercle de centre (7, 4) qui passe par le point (3, 1) est égale à
- 5 Si la distance entre les deux points (a, 0) et (0, 1) est égale à une unité de longueur, alors a =

[2] Choisis la bonne réponse parmi les réponses proposées :

- 1 Les points (0, 0), (6, 0), (0, 8) :

A sont les sommets d'un triangle obtusangle
B sont les sommets d'un triangle acutangle

C sont les sommets d'un triangle rectangle.
D sont alignés.
- 2 Soit un cercle de centre le point d'origine et de rayon de 2 unités de longueur. Lequel, des points suivants, appartient au cercle ?

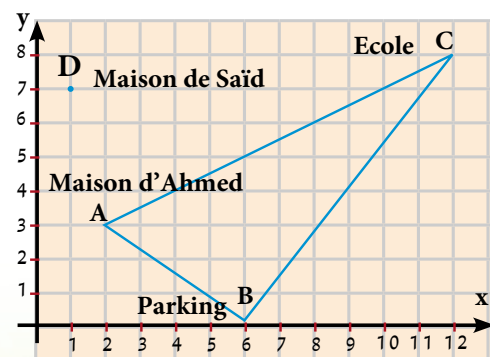
A (1, 2)
B (- 2, 1)
C ($\sqrt{3}$, 1)
D ($\sqrt{2}$, 1)
- 3 Lesquels des groupes des points suivants sont alignés ?

A (1, 4), (3, - 2) et (- 3, 16)
B (7, 0), (- 3, - 3) et (22, 9)

C (- 1, - 4), (1, 0) et (0, - 2)
D (- 1, - 4), (1, 0) et (0, - 2)

[3] Répondre aux questions suivantes :

- 1 Trouve la valeur de a dans chacun des cas suivants :
 - A la distance entre les deux points $(a, 7)$ et $(-2, 3)$ est égale à 5.
 - B la distance entre les deux points $(a, 7)$ et $(3a-1, -5)$ est égale à 13.
- 2 Si $A(x, 3)$, $B(3, 2)$ et $C(5, 1)$ et si $AB = BC$, trouve la valeur de x .
- 3 Si la distance du point $(x, 5)$ au point $(6, 1)$ est égale à $2\sqrt{5}$, trouve la valeur de x .
- 4 Détermine la nature du triangle par rapport à ses angles dans chacun des cas suivants :
 - A $A(3, 10)$, $B(8, 5)$, $C(5, 2)$
 - B $A(1, -1)$, $B(2, 1)$, $C(-3, -2)$
 - C $A(3, 3)$, $B(4, -1)$, $C(1, 1)$
- 5 Détermine la nature du triangle ayant pour sommets $A(-2, 4)$, $B(3, -1)$ et $C(4, 5)$ par rapport à ses côtés.
- 6 Démontre que le triangle ayant pour sommets $A(5, -5)$, $B(-1, 7)$ et $C(15, 15)$ est rectangle en B , puis calcule son aire.
- 7 $ABCD$ est un quadrilatère tel que $A(5, 3)$, $B(6, -2)$, $C(1, -1)$ et $D(0, 4)$. Démontre que le quadrilatère $ABCD$ est un losange, puis calcule son aire.
- 8 Démontre que les points $A(-2, 5)$, $B(3, 3)$ et $C(-4, 2)$ ne sont pas alignés et si $D(-9, 4)$ démontre que $ABCD$ est un parallélogramme.
- 9 **Dans la figure ci-contre :**
 - A Trouve les coordonnées des points représentant les lieux de la maison d'Ahmed, la maison de Saïd, le parking et l'école.
 - B Trouve la distance entre la maison d'Ahmed et l'école.
 - C Trouve la distance entre la maison de Saïd et l'école.
 - D Qu'est-ce qui est plus proche : la maison d'Ahmed par rapport à l'école ou la maison de Saïd par rapport à l'école ?
 - E Les deux chemins \overline{AB} et \overline{BC} sont-ils perpendiculaires ? Justifie ta réponse.



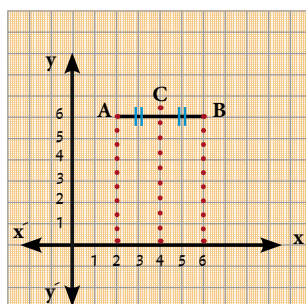
Coordonnées du milieu d'un segment

Réfléchis et discute

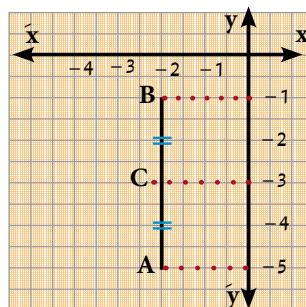
Dans un repère orthonormé : trouve les coordonnées du point C, le milieu de \overline{AB} dans chacun des cas suivants :

- 1) A (2, 6) et B (6, 6)
- 2) A (-2, -5) et B (-2, -1),
- 3) A (1, 2) et B (5, 6)

- (1): Le segment ayant pour extrémités les deux points A (2, 6) et B (6, 6), est parallèle à l'axe des abscisses et les coordonnées du point C son milieu sont C (4, 6).

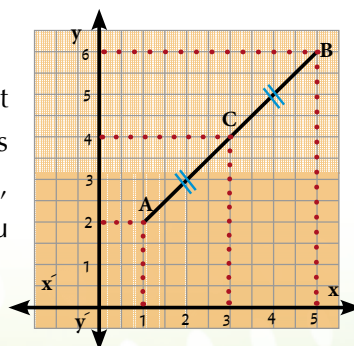


- (2) : Le segments ayant pour extrémités les deux points A(-2, -5) et B(-2, -1) est parallèle à l'axe des ordonnées et les coordonnées du point C son milieu sont (-2, -3).



- (3) : Dans la figure ci-contre :

Soit C le milieu du segment ayant pour extrémités les deux points A(1, 2) et B(5, 6). Du graphique, on trouve que les coordonnées du point C (3, 4).



Donc $C\left(\frac{1+5}{2}, \frac{2+6}{2}\right)$ d'où C (3, 4)

A apprendre

- ☆ Comment trouver les coordonnées du milieu d'un segment.

Expressions de base

- ☆ les extrémités d'un segment
- ☆ les coordonnées du milieu d'un segment

D'une manière générale nous pouvons déduire la formule du milieu d'un segment comme suit

Soient A (x_1, y_1), B (x_2, y_2) et M (x, y) où M est le milieu de \overline{AB} . De la superposition des deux triangles MDA et BEM :

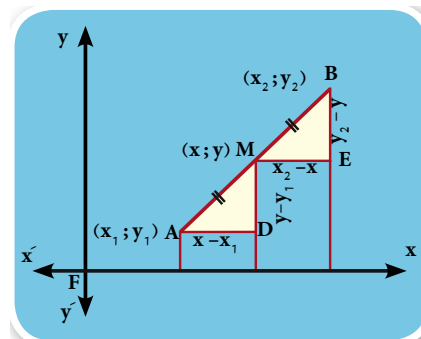
On trouve que AD = ME

$$\begin{aligned} \therefore x - x_1 &= x_2 - x \\ \therefore 2x &= x_1 + x_2 \quad \therefore x = \frac{x_1 + x_2}{2} \end{aligned}$$

De même, MD = BE $\therefore y - y_1 = y_2 - y$

$$\therefore 2y = y_1 + y_2 \quad \therefore y = \frac{y_1 + y_2}{2}$$

$$M\left(\frac{x_1 + x_2}{2}, \frac{y_1 + y_2}{2}\right)$$



Exemple : Si C est le milieu de \overline{AB} où A (3, -7) et B (-5, -3),

alors les coordonnées du milieu de \overline{AB} sont $\left(\frac{3 + (-5)}{2}, \frac{-7 + (-3)}{2}\right)$ et donc (-1, -5)



Pour t'entraîner :

Trouve les coordonnées du point C, le milieu de \overline{AB} dans chacun des cas suivants :

- | | |
|------------------------|------------------------|
| 1 A(2, 4), B (6, 0) | 2 A (7, -5), B (-3, 5) |
| 3 A (-3, 6), B (3, -6) | 4 A (7, -6), B (-1, 0) |



Exemples

- 1 Si C (6, -4) est le milieu de \overline{AB} où A (5, -3), trouve les coordonnées du point B .

Solution

Soit B (x_2, y_2) On a A (5, -3) et C (6, -4) est le milieu de \overline{AB}

$$\therefore x = \frac{x_1 + x_2}{2}, y = \frac{y_1 + y_2}{2}$$

$$\therefore 6 = \frac{5 + x_2}{2} \quad \therefore 5 + x_2 = 12 \quad \therefore x_2 = 12 - 5 = 7$$

$$-4 = \frac{-3 + y_2}{2} \quad \therefore -3 + y_2 = -8$$

$$y_2 = -8 + 3 \quad y_2 = -5 \quad \therefore B (7, -5)$$

- 2 ABCD est un parallélogramme tel que A(3, 2), B(4, -5) et C(0, -3). Trouve les coordonnées du point d'intersection de ses diagonales, puis trouve les coordonnées du point D.

Solution

La figure ABCD est un parallélogramme et M est le point d'intersection de ses diagonales.

Soit D (x_1 , y_1)

$$\because M \text{ est le milieu de } \overline{AC} \therefore M\left(\frac{3+0}{2}, \frac{2-3}{2}\right)$$

$$\therefore M\left(\frac{3}{2}, -\frac{1}{2}\right)$$

$$\because M \text{ est le milieu de } \overline{BD} \therefore M\left(\frac{4+x_1}{2}, \frac{-5+y_1}{2}\right)$$

$$\therefore \frac{3}{2} = \frac{4+x_1}{2}$$

$$\therefore 3 = 4 + x_1$$

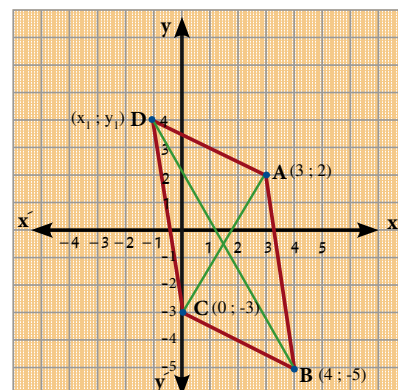
$$\therefore x_1 = -1$$

$$, -\frac{1}{2} = \frac{-5+y_1}{2}$$

$$\therefore -1 = -5 + y_1$$

$$\therefore y_1 = 4$$

\therefore Les coordonnées du point M sont (-1, 4)



Exercices (5-2)

[1] Complète

- A Si le point d'origine est le milieu du segment \overline{AB} , où A (5, -2), alors les coordonnées du point B sont
- B Si A, B, C et D sont quatre points alignés tels que $AB = BC = CD$, A(1, 3) et C(5, 1), trouve :
- 1) les coordonnées du point B sont (.....,
 - 2) les coordonnées du point D sont (.....,
- C \overline{AD} est une médiane du triangle ABC et M est le milieu de \overline{AD} où A (0, 8), B (3, 2), C (-3, 6). Alors :
- 1) les coordonnées du point D sont (.....,
 - 2) les coordonnées du point M sont (.....,

Vérifie ta réponse en traçant les points

[2]

- 1 Si C est le milieu du segment \overline{AB} , trouve x et y dans chacun des cas suivants :

A A (1, 5)	B (3, 7)	C (x, y)
B A (-3, y)	B (9, 11)	C (x, -3)
C A (x, -6)	B (9, -11)	C (-3, y)
D A (x, 3)	B (6, y)	C (4, 6)
- 2 Si A (1, -6) et B (9, 2), trouve les coordonnées des points qui partagent \overline{AB} en quatre segments de même longueur
- 3 Démontre que les points A (6, 0), B (2, -4) et C (-4, 2) sont les sommets d'un triangle rectangle en B, puis trouve les coordonnées du point D pour que la figure ABCD soit un rectangle.
- 4 Si les points A (3, 2), B (4, -3), C (-1, -2) et D (-2, 3) sont les sommets d'un losange, trouve :
 - A les coordonnées du point d'intersection de ses diagonales .
 - B l'aire du losange ABCD.
- 5 Démontre que les points A, (-3, 0), B (3, 4) et C (1, -6) sont les sommets d'un triangle isocèle en A, puis trouve la longueur la hauteur abaissée de A sur \overline{BC} .
- 6 Si A (-1, -1), B (2, 3), C (6, 0) et D (3, -4) sont quatre points dans un repère orthonormé, démontre que \overline{AC} et \overline{BD} se coupent en leur milieu, puis détermine la nature de la figure.
- 7 Démontre que les points A (5, 3), B (3, -2) et C (-2, -4) sont les sommets d'un triangle obtusangle en B, puis détermine les coordonnées du point D pour que la figure ABCD soit un losange, puis calcule son aire.
- 8 ABCD est un parallélogramme tel que A (3, 4), B (2, -1), C (-4, -3). Trouve les coordonnées du point D. Si E est un point de \overrightarrow{AD} tel que $AE = 2 AD$, quelles sont les coordonnées du point E ?

Pente d'une droite

On sait que la pente d'une droite passant par les deux points (x_1, y_1) et (x_2, y_2) est égale à $\frac{y_2 - y_1}{x_2 - x_1}$ où $x_2 > x_1$

Réfléchis et discute

Trouve la pente de la droite passant par chaque paire des points suivants :

(1) (3, 1), (4, 2)

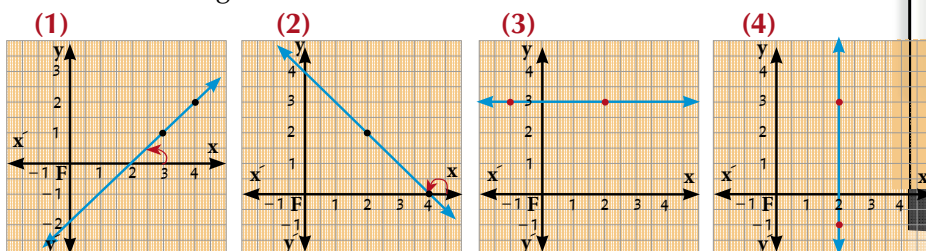
(2) (4, 0), (2, 2)

(3) (-1, 3), (2, 3)

(4) (2, -1), (2, 3)

Que remarques-tu ?

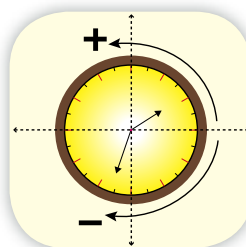
De ce qui précède, on peut tracer les droites passant par les paires de points précédents dans un repère orthonormé comme dans les figures suivantes :



Mesure positive et mesure négative d'angle :

Un angle est considéré positif s'il est pris contre le sens des aiguilles d'une montre. Il est considéré négatif s'il est pris dans le sens des aiguilles d'une montre.

Des figures précédentes, on déduit que :



A apprendre

- ☆ La relation entre les pentes de deux droites parallèles
- ☆ La relation entre les pentes de deux droites perpendiculaires.

Expressions de base

- ☆ mesure positive de l'angle
- ☆ mesure négative de l'angle
- ☆ pente d'une droite
- ☆ deux droites parallèles
- ☆ Deux droites perpendiculaires

Figure	Pente $\left(\frac{y_2 - y_1}{x_2 - x_1}\right)$	Nature de l'angle positif qui fait la droite avec le sens positif de l'axe des x	Pente de la droite
1	$m = \frac{2 - 1}{4 - 3} = 1$	Aigu	Plus grande que zéro
2	$m = \frac{2 - 0}{2 - 4} = -1$	Obtus	Plus petite que zéro
3	$m = \frac{3 - 3}{2 - (-1)} = 0$	Nul	Egale zéro
4	$m = \frac{3 - (-1)}{2 - 2}$ (indéfini)	Droit	Indéfinie

Définition de la pente d'une droite :

C'est la tangente de l'angle positif que fait la droite avec le sens positif de l'axe des abscisses.

Donc la pente de la droite = $\text{tg } E$, où E est l'angle positif que fait la droite avec le sens positif de l'axe des abscisses



Exemples

- 1 Trouve la pente de la droite qui fait un angle de mesure $56^\circ 12' 48''$ avec le sens positif de l'axe des abscisses.
- 2 Trouve la mesure de l'angle positif que fait une droite avec le sens positif de l'axe des abscisses si la pente de cette droite est 1,4865 .

Solution

1 $\therefore m = \text{tg } E \qquad \therefore m = \text{tg } 56^\circ 12' 48'' = 1,494534405$

Départ



$\text{tan} \quad 56 \quad \text{°} \quad 12 \quad \text{' } 48 \quad \text{' } =$

2 $\therefore m = \text{tg } E \qquad \therefore \text{tg } E = 1,4865 \qquad \therefore m (\angle E) = 56^\circ 4' 13''$

Départ



$\text{tan} \quad 1,4865 \quad =$



Pour t'entraîner :

- 1 Trouve la pente de la droite qui fait avec le sens positif de l'axe des abscisses un angle de mesure :

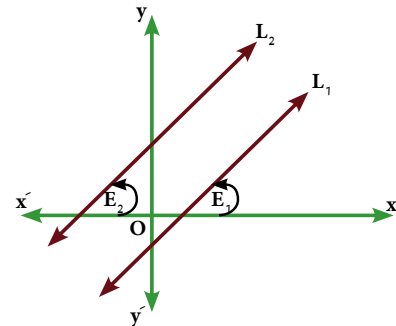
A 30° **B** 45° **C** 60°
- 2 En utilisant une calculatrice, trouve la mesure de l'angle positif que fait une droite ayant pour pente avec le sens positif de l'axe des abscisses dans chacun des cas suivants :

A $p = 0,3673$ **B** $p = 1,0246$ **C** $p = 3,1648$

Relation entre les pentes de deux droites parallèles .

Réfléchis et discute

La figure ci-contre représente deux droites parallèles L_1 et L_2 de pentes respectives P_1 , P_2 , qui font avec le sens positif de l'axe des abscisses deux angles de mesures respectives E_1 et E_2



Complète ce qui suit :

- 1 $m(\angle E_1) = m(\angle E_2)$ car
- 2 $\text{tg } E_1$ $\text{tg } E_2$
- 3 p_1 p_2

De ce qui précède, on déduit que :

Si $L_1 \parallel L_2$, alors $p_1 = p_2$

D'où : Si deux droites sont parallèles, alors elles ont la même pente et réciproquement .

Si $p_1 = p_2$, alors $L_1 \parallel L_2$

D'où : Si deux droites ont la même pente, alors elles sont parallèles



Exemples

- 1 Démontre que la droite passant par les deux points $(-3, -2)$, $(4, 5)$ est parallèle à la droite qui fait avec le sens positif de l'axe des abscisses un angle de mesure 45°

Solution

La pente de la première droite (p_1) = $\frac{y_2 - y_1}{x_2 - x_1} = \frac{5 - (-2)}{4 - (-3)} = \frac{7}{7} = 1$

La pente de la deuxième droite (p_2) = $\text{tg } 45^\circ = 1$

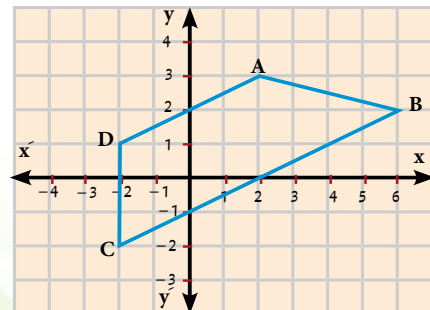
$\therefore p_1 = p_2$ \therefore les deux droites sont parallèles.

- 2 Dans un repère cartésien, représente graphiquement les points A (2, 3), B (6, 2), C (-2, -2) et D (-2, 1), puis démontre que la figure ABCD est un trapèze

Solution

Du graphique, on trouve que : $\overline{AD} \parallel \overline{BC}$

Pour démontrer ce résultat analytiquement, on calcule les pentes de : AD et BC



Soit p_1 la pente de \overline{AD}

$$\therefore p = \frac{y_2 - y_1}{x_2 - x_1}$$

$$\therefore p_1 = \frac{3-1}{2+2} = \frac{2}{4} = \frac{1}{2}$$

Soit p_2 la pente de \overline{BC}

$$p_2 = \frac{2+2}{6+2} = \frac{4}{8} = \frac{1}{2}$$

$$\therefore p_1 = p_2$$

$$\therefore \overline{AD} \parallel \overline{BC}$$

\therefore La figure ABCD est un trapèze si les points A, B, C et D ne sont pas alignés (1)

\therefore La pente de $\overline{AB} = \frac{3-2}{2-6} = -\frac{1}{4}$ et La pente de $\overline{CD} = \frac{2+1}{-2+2} = \dots\dots\dots$ (indéfinie)

\therefore Les droites \overline{AD} et \overline{BC} ne sont pas parallèles (2)

De (1), (2) \therefore La figure ABCD est un trapèze .



Pour t'entraîner :

- 1 Démontre que la droite passant par les deux points (2 , 3) et (0 , 0) est parallèle à la droite passant par les deux points (-1 , 4) et (1 , 7)
- 2 Démontre que la droite passant par les deux points (2 , -1) et (6 , 3) est parallèle à la droite qui fait un angle de mesure 45° avec le sens positif de l'axe des abscisses.
- 3 Si $\overleftrightarrow{AB} \parallel$ l'axe des ordonnées où A (x, 7) et B (3, 5) , trouve la valeur de x.
- 4 Si $\overleftrightarrow{CD} \parallel$ l'axe des abscisses où C (4, 2) et D (- 5,y) trouve la valeur de y.

Relation entre les pentes de deux droites perpendiculaires.

Réfléchis et discute

La figure ci-contre : représente deux droites L_1 et L_2

de pentes respectives p_1, p_2 où $L_1 \perp L_2$.

Trouve la relation entre $\angle E$ et $\angle J$

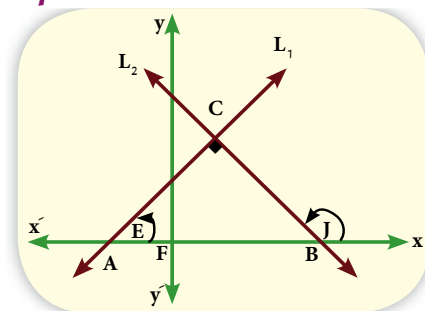
Complète le tableau suivant en utilisant une calculatrice :

Valeur de E	20°	40°
Valeur de J	140°	150°
$\text{tg } E \times \text{tg } J$

Du tableau précédent, on trouve que :

$$\text{tg } E_1 \times \text{tg } J_2 = -1$$

$$\text{d'où : } p_1 \times p_2 = -1$$



Si L_1 et L_2 sont deux droites de pentes respectives p_1 et p_2 , où $p_1, p_2 \in \mathbb{R}^*$

Si $L_1 \perp L_2$ alors $p_1 \times p_2 = -1$

Si deux droites sont perpendiculaires, alors le produit de leurs pentes = -1

Réciproquement, $p_1 \times p_2 = -1$, alors $L_1 \perp L_2$

D'où Si le produit des pentes de deux droites = -1, alors elles sont perpendiculaires.



Exemples

- 1** Démontre que la droite passant par les deux points $(4, 3\sqrt{3})$ et $(5, 2\sqrt{3})$ est perpendiculaire à la droite qui fait, avec le sens positif de l'axe des abscisses, un angle de mesure 30° .

Solution

Soit p_1 la pente de la première droite et p_2 la pente de la deuxième droite.

$$\therefore p = \frac{y_2 - y_1}{x_2 - x_1}$$

$$\therefore p = \text{tg } E$$

$$\therefore p_1 \times p_2 = -\sqrt{3} \times \frac{1}{\sqrt{3}} = -1$$

$$\therefore p_1 = \frac{3\sqrt{3} - 2\sqrt{3}}{4 - 5} = -\sqrt{3}$$

$$\therefore p_2 = \text{tg } 30^\circ = \frac{1}{\sqrt{3}}$$

\therefore Les droites sont perpendiculaires.

- 2** Si le triangle ayant pour sommets $X(4, 2)$, $Y(3, 5)$ et $Z(-5, A)$ est rectangle en Y , trouve la valeur de A .

Solution

On cherche la pente de \overleftrightarrow{XY} d'où $p_1 = \frac{5-2}{3-4} = \frac{3}{-1} = -3$,

On cherche la pente de \overleftrightarrow{ZY} d'où $p_2 = \frac{A-2}{-5-4} = \frac{A-2}{-9}$

\therefore Le triangle XYZ est rectangle en Y

$$\therefore -3 \times \frac{A-2}{-9} = -1$$

$$\therefore A - 2 = -3$$

$$\therefore p_1 \times p_2 = -1$$

$$\therefore \frac{(A-2)}{3} = -1$$

$$\therefore A = 2 - 3$$

$$\therefore A = -1$$



Pour t'entraîner :

Trouve la pente de la droite perpendiculaire à la droite passant par les deux points $(3, -2)$ et $(5, 1)$.

Exercices (5-3)

[1] : Complète ce qui suit

- 1 Si $\overleftrightarrow{AB} \parallel \overleftrightarrow{CD}$ et si la pente de $\overleftrightarrow{AB} = \frac{2}{3}$, alors la pente de \overleftrightarrow{CD} est égale à
- 2 Si $\overleftrightarrow{AB} \perp \overleftrightarrow{CD}$ et si la pente de $\overleftrightarrow{AB} = \frac{1}{2}$, alors la pente de \overleftrightarrow{CD} est égale à
- 3 La pente d'une droite parallèle à la droite passant par les deux points (2, 3) et (-2, 3) est égale à
- 4 Si la droite \overleftrightarrow{AB} est parallèle à l'axe des abscisses où A(8, 3) et B(2, k), alors la valeur de k =
- 5 Si la droite \overleftrightarrow{CD} est parallèle à l'axe des ordonnées où C(m, 4) et D(-5, 7), alors la valeur de m =
- 6 Si le triangle ABC est rectangle en B tel que A(1, 4) et B(-1, -2), alors la pente de \overleftrightarrow{BC} est
- 7 Si la droite passant par les deux points (a, 0) et (0, 3) et la droite qui fait un angle de mesure 30° avec le sens positif de l'axe des abscisses sont perpendiculaires, alors a =

[2]

- 1 Démontre que la droite passant par les deux points A(-3, 4) et C(-3, -2) est perpendiculaire à la droite passant par les deux points B(1, 2) et D(-3, 2).
- 2 Si A(-1, -1), B(2, 3) et C(6, 0), démontre que le triangle ABC est rectangle en B.
- 3 Si la droite L_1 passe par les deux points (3, 1) et (2, k) et la droite L_2 fait avec le sens positif de l'axe des abscisses un angle de mesure 45° , trouve la valeur de k sachant que L_1 et L_2 sont :
☐ A parallèles ☐ B perpendiculaires
- 4 Si les points (0, 1), (a, 3) et (2, 5) sont alignés, trouve la valeur de a.
- 5 Démontre que les points A(-1, 1), B(0, 5), C(4, 2) et D(5, 6) sont les sommets d'un parallélogramme.
- 6 Utilise les formules de la pente pour démontrer que les points A(-1, 3), B(5, 1), C(6, 4) et D(0, 6) sont les sommets d'un rectangle.
- 7 Dans la figure ci-contre, ABCD est un trapèze tel que $\overline{AB} \parallel \overline{CD}$, A(9, -2), B(3, 2), C(x, -x), D(4, -3). Trouve les coordonnées du point C
- 8 Démontre que les points A(4, 3), B(7, 0) et C(1, -2) sont les sommets d'un triangle. Si D(1, 2), démontre que la figure ABCD est un trapèze, puis trouve le rapport entre AD et BC.



Equation d'une droite connaissant sa pente et l'ordonnée de son point intersection avec l'axe des ordonnées

Réfléchis et discute

Nous avons déjà étudié la relation linéaire suivante entre deux variables x et y :

$$a x + b y + c = 0 \quad \text{où } a \neq 0 \text{ et } b \neq 0$$

Cette relation est représentée par une droite.

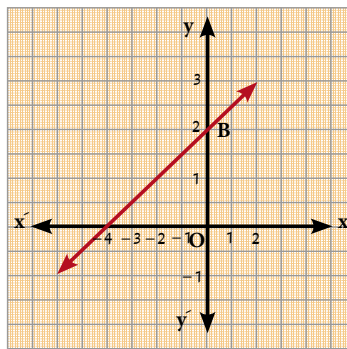


Exemple

Représente la relation $x - 2y + 4 = 0$ graphiquement.

Du graphique, calcule :

- A la pente de la droite.
- B la longueur de la partie verticale comprise entre le point d'origine et le point d'intersection de la droite avec l'axe des ordonnées.



Pour dessiner plus facilement, il est préférable de déterminer les points d'intersection de la droite avec les deux axes comme suit :

$$\begin{array}{ll} y = 0 & \therefore x + 4 = 0 \\ \therefore x = -4 & (-4, 0) \quad \text{Le point } (-4, 0) \text{ vérifie la relation.} \\ x = 0 & \therefore -2y + 4 = 0 \\ \therefore 2y = 4 & (0, 2) \quad \text{Le point } (0, 2) \text{ vérifie la relation.} \end{array}$$

Du graphique, on trouve que la pente de la droite

$$(P) > 0 \dots (\text{Pourquoi ?}) \quad \text{D'où } P = \frac{\dots}{\dots} = \frac{\dots}{\dots}$$

La distance entre les deux points O et B est appelée la partie coupée de l'axe des ordonnées et elle est notée par (c) . Dans cet exemple, la longueur de c est deux unités de longueur.

Nous pouvons mettre l'équation précédente sous la forme : $y = Px + c$

Dans ce cas, $2y = x + 4$ En divisant les deux membres par 2

$$\therefore y = \frac{1}{2}x + 2$$

On remarque sous cette forme que la pente de la droite (P) est le coefficient de x . Ce coefficient est égal à $\frac{1}{2}$, et que la longueur de la partie coupée de l'axe des y est $c = 2$. C'est le même résultat obtenu du graphique précédent.



A apprendre

- ☆ Comment trouver l'équation d'une droite en connaissant sa pente et la partie coupée de l'axe des ordonnées

Expressions de base

- ☆ équation d'une droite
- ☆ pente d'une droite
- ☆ la partie coupée de l'axe des ordonnées

Equation d'une droite :

L'équation de la droite ayant pour pente P et pour partie coupée de l'axe des ordonnées c est sous la forme :

$$y = P x + c \text{ où } P \in \mathbb{R} \text{ et } c \in \mathbb{R}$$

On remarque que : On peut mettre l'équation de la droite $a x + b y + c = 0$ où $b \neq 0$ sous la forme : $y = m x + c$ comme suit :

$$a x + b y + c = 0 \quad \text{donc } b y = -a x - c$$

$$\therefore y = -\frac{a}{b} x - \frac{c}{b}$$

$$\text{C'est la même forme que } y = P x + c \text{ d'où } P = \frac{-a}{b} = \frac{-\text{Coefficient } x}{\text{Coefficient } y}$$

et c est la longueur de la partie coupée de l'axe des ordonnées



Exemples

- 1 Trouve la pente de la droite d'équation $3 x + 4 y - 5 = 0$ de deux méthodes différentes, puis trouve la longueur de la partie coupée de l'axe des ordonnées.

Solution

\therefore L'équation de la droite est sous la forme $a x + b y + c = 0$ où $b \neq 0$

$$\therefore \text{La pente de la droite} = \frac{-a}{b}$$

$$\therefore \text{La pente de la droite} = \frac{-3}{4}$$

Nous pouvons mettre l'équation de la droite sous la forme $y = P x + c$

$$\therefore 4 y = -3 x + 5$$

$$y = \frac{-3}{4} x + \frac{5}{4}$$

$$\therefore \text{La pente de la droite} = \frac{-3}{4}$$

$$\therefore \text{La partie coupée de l'axe des ordonnées} = \frac{5}{4}$$

- 2 Trouve l'équation de la droite passant par le point $(1, 2)$ et perpendiculaire à la droite passant par les deux points $A(2, -3)$ et $B(5, -4)$.

Solution

$$\therefore \text{La pente de la droite passant par les deux points } A \text{ et } B = \frac{-4 - (-3)}{5 - 2} = \frac{-4 + 3}{5 - 2} = \frac{-1}{3}$$

\therefore La pente de la droite qui lui est perpendiculaire = 3

\therefore L'équation de la droite est sous la forme $y = 3 x + c$

\therefore La droite passe par le point $(1, 2)$ \therefore ce point vérifie son équation

$$\therefore 2 = 3 \times 1 + c$$

$$\therefore c = 2 - 3 = -1$$

\therefore L'équation de la droite est sous la forme $y = 3 x - 1$

- 3 Soient $A(-3, 4)$, $B(5, -1)$ et $C(3, 5)$. Trouve l'équation de la droite passant par le sommet A et par le milieu de \overline{BC} .

Solution

Le point milieu de $\overline{BC} = \left(\frac{3+5}{2}, \frac{5-1}{2}\right) = \left(\frac{8}{2}, \frac{4}{2}\right) = (4, 2)$

\therefore La pente de la droite demandée $= \frac{2-4}{4+3} = \frac{-2}{7}$

$\therefore y = mx + c \quad \therefore y = \frac{-2}{7}x + c$

\therefore La droite passe par le point $A(-3, 4)$, donc ce point vérifie son équation

$\therefore 4 = \frac{-2}{7} \times -3 + c \quad \therefore 4 = \frac{6}{7} + c \quad \therefore c = \frac{22}{7}$

\therefore L'équation de la droite est sous la forme $y = \frac{-2}{7}x + \frac{22}{7}$ En multipliant les deux membres de l'équation par 7

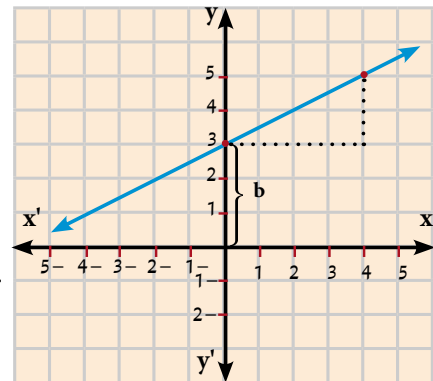
$\therefore 7y = -2x + 22$

\therefore L'équation est : $2x + 7y - 22 = 0$



Pour t'entraîner :

- 1 Dans la figure ci-contre, trouve :
- A la pente P de la droite.
 - B la longueur c de la partie coupée de l'axe des ordonnées.
 - C l'équation de la droite en connaissant P et c .
 - D la longueur de la partie coupée de l'axe des abscisses.
 - E l'aire du triangle délimité par la droite et les deux parties coupées des deux axes.



Exercices (5-4)

- 1 Si $y = Px + c$ représente l'équation d'une droite en fonction de sa pente et de la partie coupée de l'axe des ordonnées, complète ce qui suit :
- A L'équation de la droite pour $P = 1$ et $c = 3$ est sous la forme
 - B L'équation de la droite pour $P = -2$ et $c = 1$ est sous la forme
 - C L'équation de la droite pour $P = 3$ et $c = 0$ est sous la forme
- 2 Trouve la pente de la droite et la longueur de la partie coupée de l'axe de ordonnées dans chacun des cas suivants :
- A $2x - 3y - 6 = 0$
 - B $5x + 4y - 10 = 0$
 - C $\frac{x}{2} + \frac{y}{3} = 1$
- 3 Trouve l'équation de la droite dans chacun des cas suivants :
- A Sa pente est égale à 2 et elle coupe une partie positive de l'axe des ordonnées de 7 unités de longueur.

B Sa pente est égale à la pente de la droite d'équation $\frac{y-1}{x} = \frac{1}{3}$ et qui coupe une partie négative de l'axe des ordonnées de 3 unités de longueur.

C Elle passe par les deux points (2, -1) et (1, 1).

D si $P = 0$ et $c = 0$.

4 Trace la droite dans chacun des cas suivants :

A Sa pente est égale à $\frac{-1}{2}$ et elle coupe une partie positive de l'axe des ordonnées de une unité de longueur.

B Sa pente est égale à 2 et elle coupe une partie négative de l'axe des ordonnées de 3 unités de longueur

C elle coupe une partie positive de l'axe des abscisses et de l'axe des ordonnées de longueurs respectives de 2 et 3 unités..

5 Le tableau ci-contre représente une relation linéaire :

x	1	2	3
y = f(x)	1	3	A

A Trouve l'équation de la droite

B Trouve la longueur de la partie coupée de l'axe des ordonnées.

C Trouve la valeur de a.

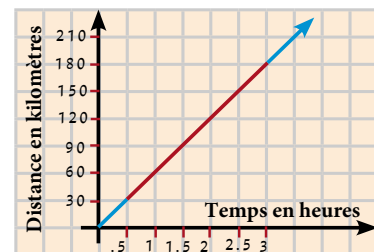
6 La figure ci-contre représente la relation entre la distance (d) parcourue par une voiture en kilomètres et le temps (t) écoulé en heures. Trouve :

A la distance parcourue après 90 minutes.

B le temps écoulé pour parcourir 150 kilomètres.

C la vitesse de la voiture.

D l'équation de la droite qui représente la relation entre la distance et le temps.



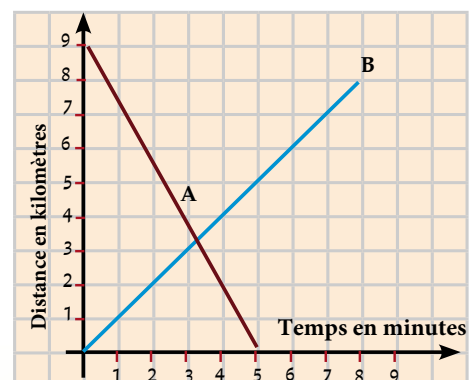
7 La figure ci-contre représente la relation entre la distance (d) en kilomètres et le temps (t) écoulé en minutes pour chacun de deux corps A et B.

A Les deux corps A et B ont-ils commencé le mouvement au même moment ?

B Au bout de combien de temps les deux corps se sont-ils rencontrés ?

C Quelle est la vitesse du corps A ?

D Ecris l'équation de la droite qui représente la relation entre la distance et le temps pour le corps B.



Activité

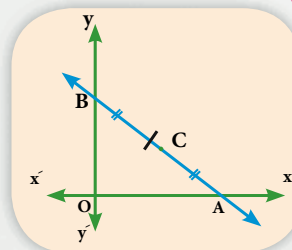
1 Dans la figure ci-contre :

Le point C est le milieu de \overline{AB} où C (4, 3).

(1) Complète ce qui suit :

A $OA = \dots\dots\dots$ unités de longueur

B $OB = \dots\dots\dots$ unités de longueur



(2) Choisis chaque information de la colonne A avec l'information convenable de la colonne B :

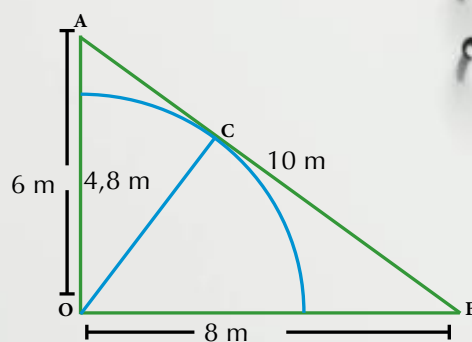
Colonne A	Colonne B
A Pente de \overleftrightarrow{AB}	-1
B Pente de \overleftrightarrow{OC}	$-\frac{3}{4}$
C Pente de \overleftrightarrow{OA}	0
D Pente de \overleftrightarrow{OB}	$\frac{3}{4}$
H Pente de $\overleftrightarrow{OB} \times$	1
Pente de \overleftrightarrow{OA}	indéfinie

(3) Trouve les coordonnées des points A, B et O puis trouve l'équation de la droite \overleftrightarrow{AB} , et l'équation de la droite \overleftrightarrow{CO} .

(4) Trouve les longueurs \overline{CA} , \overline{CB} , \overline{CO}

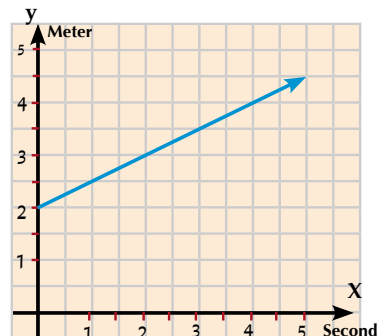
(5) Démontre par plusieurs méthodes que C est le centre du cercle passant par les points A, O et B.

2 Une vache est attachée au point O par une corde de longueur 4,8 mètres. Le terrain OAB est cultivé en trèfles. Calcule à un mètre carré près l'aire de la partie du terrain que la vache ne peut pas atteindre pour manger



Epreuve de l'unité

- 1 La figure ci-contre représente le mouvement d'un corps qui se déplace à une vitesse uniforme (v) où la distance (d) est mesurée en mètres et le temps (t) est mesuré en secondes. Trouve :



- A la distance au début du mouvement
- B la vitesse du corps.
- C l'équation de la droite qui représente le mouvement du corps.
- D la distance parcourue en 4 secondes à partir du début du mouvement.
- E le temps pris par le corps pour parcourir une distance de 3,5 mètres à partir du début du mouvement.

- 2 Choisis la bonne réponse parmi les réponses proposées :

- 1 La droite d'équation $2x - 3y - 6 = 0$ coupe l'axe des y en une partie de longueur
 - A -6
 - B -2
 - C $\frac{2}{3}$
 - D 2
- 2 Si les deux droites d'équations $3x - 4y - 3 = 0$ et $ky + 4x - 8 = 0$ sont perpendiculaires, alors $k = \dots\dots$
 - A -4
 - B -3
 - C 3
 - D 4
- 3 Si les deux droites d'équations $x + y = 5$ et $kx + 2y = 0$ sont parallèles, alors $k = \dots\dots$
 - A -2
 - B -1
 - C 1
 - D 2
- 4 L'aire du triangle délimité par les droites d'équations $3x - 4y = 12$, $x = 0$ et $y = 0$ est égale à :
 - A 6
 - B 7
 - C 12
 - D 5
- 5 \overleftrightarrow{AB} est une droite qui passe par les deux points $(2, 5)$ et $(5, 2)$. Lequel des points suivants $\in \overleftrightarrow{AB}$
 - A $(1, 6)$
 - B $(2, 3)$
 - C $(0, 0)$
 - D $(3, -4)$
- 6 Si $A(3, 5)$, $B(2, -1)$ et $C(x, y)$, alors les coordonnées du point C qui rend le triangle ABC rectangle en B sont :
 - A $(6, -1)$
 - B $(-4, 5)$
 - C $(3, -2)$
 - D $(8, -2)$
- 3 Si $A(5, -6)$, $B(3, 7)$ et $C(1, -3)$, trouve l'équation de la droite passant par le point A et par le milieu de \overline{BC} .
- 4 Trouve l'équation de la droite perpendiculaire à \overline{AB} en son milieu où $A(1, 3)$ et $B(3, 5)$.
- 5 Trouve l'équation de la droite passant par le point $(3, -5)$ et qui est parallèle à la droite d'équation $x + 2y - 7 = 0$
- 6 Trouve l'équation de la droite passant par les deux points $(4, 2)$ et $(-2, -1)$ puis démontre que cette droite passe par le point d'origine
- 7 Trouve l'équation de la droite qui coupe une partie positive de l'axe des abscisses et de l'axe des ordonnées de longueurs respectives de 4 et 9 unités.
- 8 ABC est un triangle tel que $A(1, 2)$, $B(5, -2)$ et $C(3, 4)$ et D est le milieu de \overline{AB} . On trace $\overleftrightarrow{DE} \parallel \overleftrightarrow{BC}$ qui coupe \overline{AC} en E . Trouve l'équation de la droite \overleftrightarrow{DE} .

Réponses de certains exercices

Page (2) – Pour t'entraîner

- (A) $a = -5$, $b = 9$
 (B) $a - 2 = 2$, $\therefore a = 4$ $b + 1 = -3$, $\therefore b = -4$
 (C) $2 - a = 6$, $\therefore a = -4$ $b - 3 = -1$, $\therefore b = 2$
 (D) $a - 7 = -2$, $\therefore a = 5$ $b^3 - 1 = 26$, $\therefore b^3 = 27$ $b = 3$

Page (4) – Pour t'entraîner

- (A) $x \times y = \{(2, 4), (2, 0), (-1, 4), (-1, 0)\}$
 (D) $\text{card}(x \times z) = 6$ (E) $\text{card}(y^2) = 4$
 (F) $\text{card}(z^2) = 9$

Pages (7 et 8) – Exercices

- [1]: (1) $a + 5 = 8$ $\therefore a = 3$
 $b - 1 = 3$ $\therefore b = 4$
 (2) $x^5 = 32$ $y + 1 = \sqrt[3]{27}$
 $x^5 = 2^5$ $y + 1 = 3$
 $x = 2$ $y = 2$
 (4) $\text{card}(X) = 3$
 [2]: (1) a (2) c (3) c (4) b

Page (11) – Exercices

- (4) $G = \{(1, 6), (3, 4), (4, 3), (5, 2)\}$
 (5) $G = \{(0, 0), (1, 1), (2, 4), (3, 9)\}$
 (6) $\{(1, 1), (2, 8)\}$

Page (14) – Exercices

- (2) $G = \{(2, 10), (2, 16), (2, 24), (2, 30), (5, 10), (5, 30), (8, 16), (8, 24)\}$ n'est pas une fonction,
 (4) $G = \{(2, 1), (4, 2), (6, 2), (10, 2), (4, 1), (6, 1), (10, 1)\}$ n'est pas une fonction,

Page (15) – Pour t'entraîner

- (1) $b_1(x)$, $b_4(x)$
 (2) (a) premier degré (b) constante
 (c) troisième degré
 (d) quatrième degré

Page (16) – Pour t'entraîner

- (B) $b(3) = (3)^2 - 3(3) - 3 = 9 - 9 - 3 = -3$
 $g(3) = 3 - 3 = \text{zéro}$ $f(3) + g(3) = -3 + 0 = -3$

Page (18) – Pour t'entraîner

- [1]: (1) (0, -1) (2) (0, -2) (3) 2
 [2]: (1)
 (A) $f(-2) = 3$ (B) $f(-2) = 7$ (C) $f(-2) = 0$
 $f(0) = 3$ $f(0) = 3$ $f(0) = -4$
 $f(\frac{1}{2}) = 3$ $f(\frac{1}{2}) = 2$ $f(\frac{1}{2}) = -\frac{15}{4}$

- (2) a) le point d'intersection est (0, 0)
 b) le point d'intersection est (0, 0)

Page (20) – Epreuve de l'unité

- (4) a) $m = 4$
 c) Aire du triangle ABC = 8 unités carrées

Page (23) – Exercices

- (2) $\frac{2x+7}{3x-12} = \frac{5}{3}$
 $15x - 60 = 6x + 21$
 $9x = 81$ $x = 9$ Les deux nombres sont 18 et 27
 (3) Soit le nombre x
 $\frac{49-3x}{69-3x} = \frac{2}{3}$
 $147 - 9x = 138 - 6x$
 $\therefore 3x = 9 \therefore x = 3$

Page (26) – Pour t'entraîner

- (1) (A) $\frac{2}{x} = \frac{4}{6}$ $x = 3$
 (B) $\frac{8}{6} = \frac{x}{12}$ $x = 16$

Page (29) – Exercices

- (3) $5m + 7m = 27,6$ $\therefore m = 2,3$
 $a = 5 \times 2,3 = 11,5$
 $b = 7 \times 2,3 = 16,1$
 $c = 3 \times 2,3 = 6,9$

Page (33) – Pour t'entraîner

- Tableau (1) $x \times y = 60$ inversement
 Tableau (2) $\frac{x}{y} = \frac{2}{9}$ directement
 Tableau (3) $\frac{x}{y} = \frac{5}{9}$ directement

Page (34) – Exercices

- [1]: (1) (D) (2) (D) (3) (c)
 [2]: (A) inversement (B) 12

Page (35) – Exercices généraux

- (1) (D)
 (5) $\frac{y_1}{y_2} = \frac{x_1}{x_2} \therefore \frac{2}{y} = \frac{16}{4}$
 $\therefore y = \frac{4 \times 2}{16} = \frac{1}{2}$

Page (36) – Epreuve de l'unité

- (3) $21x \times z - y \times z = 7 \times y \times y - y \times z$
 $\therefore 3 \times z = x \times y$ $\therefore 3 \times z = y$ $\therefore y \propto z$
 (4) $(x^2 y - 7)^2 = 0$ $\therefore x^2 y = 7$
 $\therefore y = \frac{7}{x^2}$ $\therefore y \propto \frac{1}{x^2}$

Page (40) – Exercices

- (1) théorique
 (2) pratique

Page (47) – Exercices

- (1) (A) $\overline{X}_1 = 20$ $\sigma_1 \approx 9,317$
 (B) $\overline{X}_2 = 63$ $\sigma_2 \approx 7,071$
 (C) $\overline{X}_3 = 3$ $\sigma_3 \approx 15,297$
 (d) $\overline{X}_4 = 20$ $\sigma_4 \approx 1,265$

Page (53) – Pour t'entraîner

- (1) (A) 76,2667 (B) 85,6356
 (C) 85,6356 (D) 65,4453

Page (55) – Exercices

- (1) (A) $\frac{3}{4}$ (B) $\frac{4}{5}$ (C) $\frac{3}{4}$ (D) $\frac{3}{5}$ (E) $\frac{4}{3}$
 (8) (A) $\text{tg } X + \text{tg } Z = \frac{12}{5} + \frac{5}{12} = \frac{169}{60}$
 (B) $\cos X \cos Z - \sin X \sin Z$
 $= \frac{12}{13} \times \frac{5}{13} - \frac{5}{13} \times \frac{12}{13}$
 $= \text{zéro}$

Page (60) – Pour t'entraîner

- (1) 30° (2) 120° (3) zero (4) 50° (5) 20°

Page (62) – Epreuve de l'unité

- (4) $\frac{1}{2}$ (5) $3\sqrt{3}$ meters

Page (67) – Exercices

- (1) 5 (2) 13
 (3) 9 (4) $\sqrt{16+9} = 5$
 (5) zéro
 [2]: (1) C (2) C

Page (71) – Exercices

- [1]: (a) (-5, 2)
 (B) [1]: (3, 2) [2]: (7, 0)
 (C) [1]: (0, 4) [2]: (0, 6)
 [2]
 (1) (A) (2, 6) (B) $x = 3$, $y = -17$
 (C) $x = -15$, $y = 8.5$ (D) $x = 4$, $y = 9$

Page (74) – Exercices

- (2) (a) $m = 20^\circ 1' 5.82''$
 (B) $m = 45^\circ 41' 46.11''$
 (C) $m = 72^\circ 27' 53.02''$

Page (78) – Exercices

- [1]:
 (1) $\frac{2}{3}$ (2) -2
 (3) zéro (4) 3
 (5) -5 (6) $-\frac{1}{3}$
 (7) $\sqrt{10}$

Page (81) – Exercices

- (1) (A) $y = x + 3$ (B) $y = -2x + 12$
 (C) $y = 3x$

Page (84) – Epreuve de l'unité

- (2) (1) D (2) C (3) C
 (4) C (5) A (6) D

Exercices généraux

Algèbre et statistique

1) Complète ce qui suit :

- 1) Le point $(5 ; -3)$ est situé dans le quadrant.
- 2) Si $(x + 5 ; 8) = (1 ; 6y + x)$, alors $y = \dots\dots$
- 3) Si $\text{card}(X) = 5$ et $\text{card}(X \times Y) = 15$, alors $\text{card}(Y) = \dots\dots$
- 4) Le point $(4 ; 0)$ est situé sur l'axe
- 5) Si $(5 ; x - 7) = (y + 1 ; -5)$, alors $x + y = \dots\dots$
- 6) Si $X \times Y = \{(1 ; 5) ; (1 ; 7) ; (2 ; 5) ; (2 ; 7) ; (3 ; 5) ; (3 ; 7)\}$, alors $X = \dots$ et $Y = \dots$
- 7) Si $f(x) = 5x - 7$, alors $f(3) = \dots\dots$
- 8) Si $f(x) = 6x$, alors $f(2) + f(-2) = \dots\dots$
- 9) Si $f(x) = 3x + b$ et $f(4) = 13$, alors $b = \dots\dots$
- 10) La fonction affine définie par $y = 3x$ est représentée graphiquement par une droite qui passe par le point $(-4 ; \dots\dots)$
- 11) La fonction affine définie par $y = x + 7$ est représentée graphiquement par une droite qui coupe l'axe des abscisses au point
- 12) La fonction affine définie par $y = 2x - 1$ est représentée graphiquement par une droite qui coupe l'axe des ordonnées au point
- 13) Si le point $(a ; 3)$ est situé sur la droite représentant la fonction $f : \mathbb{R} \rightarrow \mathbb{R}$ telle que $f(x) = 4x - 5$, alors $a = \dots\dots$
- 14) Si $f(x) = x - 6$ et $\frac{1}{3}f(a) = -2$, alors $a = \dots\dots$
- 15) Soient $X = \{1 ; 3 ; 5\}$ et $f : X \rightarrow \mathbb{R}$ telle que $f(x) = 2x + 1$, alors l'ensemble image de $f = \dots\dots$
- 16) La fonction affine définie par $y = 2 - 3x$ est représentée graphiquement par une droite qui coupe l'axe des ordonnées au point
- 17) Si f est une fonction de l'ensemble X vers l'ensemble Y . où $f : X \rightarrow Y$, alors l'ensemble X est appelé, l'ensemble Y est appelé
- 18) Si f est une fonction de l'ensemble X vers l'ensemble Y , alors l'ensemble image de la fonction $f \subset \dots\dots$

- 19) Si la fonction affine définie par $y = 3x - 1$ est représentée graphiquement par une droite qui passe par le point $(a ; 2)$, alors $a = \dots$
- 20) Si $(2 ; -6) \in$ le graphe de la fonction f où $f(x) = kx + 8$, alors $k = \dots\dots$

2) Choisis la bonne réponse :

- 1) Si $\text{card}(X^2) = 9$, alors $\text{card}(X) = \dots\dots\dots$
 (a) 3 (b) 6 (c) 18 (d) 81
- 2) Le point $(-3 ; 4)$ est situé dans le quadrant.
 (a) premier (b) deuxième (c) troisième (d) quatrième
- 3) Si $X = \{5 ; 6 ; 7\}$, alors $\text{card}(X^2) = \dots\dots$
 (a) 3 (b) 6 (c) 9 (d) 12
- 4) Si $X \times Y = \{(1 ; 3) ; (1 ; 4)\}$, alors $\text{card}(X) = \dots\dots$
 (a) 3 (b) 1 (c) 4 (d) 2
- 5) Si $X = \{5\}$ et $Y = \{3\}$, alors $\text{card}(X \times Y) = \dots\dots$
 (a) 15 (b) 8 (c) 2 (d) 1
- 6) Si $X = \{3 ; 5 ; 7\}$ et R est une relation sur X , alors la relation qui représente une fonction de X vers X est
 (a) $R_1 = \{(3 ; 5) ; (5 ; 3) ; (3 ; 7)\}$ (b) $R_2 = \{(3 ; 5) ; (5 ; 7)\}$
 (c) $R_3 = \{(3 ; 5) ; (5 ; 5) ; (7 ; 5)\}$ (d) $R_4 = \{(3 ; 5) ; (3 ; 5) ; (3 ; 7)\}$
- (7) Si le point $(x ; 7)$ est situé à l'axe des ordonnées, alors $5x + 1 = \dots\dots$
 (a) 0 (b) 1 (c) 5 (d) 6
- (8) Si R est une fonction de X vers Y où $X = \{2, 5, 8\}$, $Y = \{3, 5\}$ et
 $R = \{(2 ; 3) ; (5 ; 3) ; (x ; 3)\}$, alors $x = \dots\dots$
 (a) 2 (b) 3 (c) 5 (d) 8
- (9) Si R est une fonction de X vers Y et $R = \{(4 ; 3) ; (5 ; 6) ; (9 ; 3)\}$, alors l'ensemble image de la fonction f est
 (a) $\{3 ; 4 ; 5 ; 6 ; 9\}$ (b) $\{4 ; 5 ; 9\}$
 (c) $\{3 ; 6 ; 9\}$ (d) $\{3 ; 6\}$
- 10) Si $f(x) = 7x - \frac{1}{2}$, alors $f(\frac{1}{2}) = \dots\dots$
 (a) 7 (b) $\frac{1}{2}$ (c) $\frac{7}{2}$ (d) 3
- 11) Si $f(x) = 4x + b$ et $f(3) = 15$, alors $b = \dots\dots$
 (a) 156 (b) 3 (c) 4 (d) -3

- 12) Si $(m ; 13) \in$ le graphe de la fonction f où $f(x) = 3x + 4$, alors $m = \dots$
 (a) 6 (b) -6 (c) 3 (d) -3
- 13) Si $(2 ; b) \in$ le graphe de la fonction f où $f(x) = 3x - 6$, alors $b = \dots$
 (a) 0 (b) 7 (c) 9 (d) 2
- 14) Si $f(x) = x^2 + 7$, alors $f(3) = \dots$
 (a) 10 (b) 7 (c) 9 (d) 16
- 15) Si $f(x) = x^3$, alors $f(2) + f(-2) = \dots$
 (a) 16 (b) 0 (c) -16 (d) 4
- 16) Si $(2 ; -6) \in$ le graphe de la fonction f où $f(x) = kx + 8$, alors $k = \dots$
 (a) -16 (b) 7 (c) -7 (d) 2
- 17) La fonction affine définie par $y = 5x$ est représentée graphiquement par une droite qui passe par le point
 (a) $(5 ; 5)$ (b) $(0 ; 0)$ (c) $(0 ; 5)$ (d) $(5 ; 0)$
- 18) La fonction affine définie par $y = 5x + 4$ est représentée graphiquement par une droite qui passe par le point $(3 ; b)$, alors $b = \dots$
 (a) 5 (b) 4 (c) 3 (d) 19
- 19) Si f est une fonction de l'ensemble X vers l'ensemble Y . où $f : X \rightarrow Y$, alors l'ensemble de définition de la fonction f est
 (a) X (b) Y (c) $X \times Y$ (d) $Y \times X$

3) Réponds aux questions suivantes :

- 1) Si $X = \{0 ; 1 ; 2 ; 3 ; 4 ; 5 ; 6\}$ et \mathbf{R} , la relation définie sur X où $a \mathbf{R} b$ signifie que "a est le double de b" pour tout a et $b \in X$.
 a) écris le graphe de \mathbf{R} , puis représente-le par un diagramme sagittal
 b) Est-ce que $(0 ; 0) \in \mathbf{R}$?
 c) Est-ce que $2 \mathbf{R} 4$?
 d) Détermine x sachant que $6 \mathbf{R} x$.
- 2) Soient $X = \{2, 4, 8\}$ et $Y = \{4, 6, 12, 24\}$. R est une relation de X vers Y où $a R b$ signifie que « $b > 2a$ » pour tout $a \in X, b \in Y$. Écris le graphe de R , puis représente-le par un diagramme sagittal et un diagramme cartésien.
- 3) Si $X = \{13 ; 14 ; 43 ; 84\}$ et \mathbf{R} , la relation définie sur X où $a \mathbf{R} b$ signifie que "a et b ont le même chiffre des unités" pour tout a et $b \in X$. Écris le graphe de \mathbf{R} , puis représente-le par un diagramme cartésien.
- 4) Soient $X = \{2, 3, 4, 7\}$ et $Y = \{1, 2, 3, 4, 7, 8\}$. R est une relation de X vers Y où $a R b$ signifie que « $a - b$ est un nombre premier» pour tout $a \in X, b \in Y$. Écris le graphe de \mathbf{R} , puis représente-le par un diagramme sagittal.



- 5) Soient $X = \{0 ; 1 ; 2 ; 3\}$, $Y = \{-3 ; -2 ; -1 ; 0\}$. R est une relation de X vers Y . où $a R b$ signifie que «le nombre a est l'opposé du nombre b » pour tout $a \in X$, $b \in Y$. Écris le graphe de R , puis représente-le par un diagramme sagittal et un diagramme cartésien. Est-ce que R , est-elle une fonction ? Pourquoi ?
- 6) Soient $X = \{2 ; 5 ; 8\}$, $Y = \{10 ; 16 ; 24 ; 30\}$. R est une relation de X vers Y . où $a R b$ signifie que « a est un diviseur de b » pour tout $a \in X$, $b \in Y$. Écris le graphe de R , puis représente-le par un diagramme sagittal et un diagramme cartésien. Est-ce que R , est-elle une fonction ? Pourquoi ?
- 7) Soient $X = \{1, 3, 4, 5\}$ et $Y = \{1, 2, 3, 4, 5, 6\}$. R est une relation de X vers Y où $a R b$ signifie que « $a + b = 7$ » pour tout $a \in X$, $b \in Y$. Écris le graphe de R , puis représente-le par un diagramme sagittal et un diagramme cartésien.
- 8) Soient $X = \{1 ; 2 ; 3\}$, $Y = \{1, \frac{1}{2} ; \frac{1}{3} ; \frac{1}{5}\}$. R est une relation de X vers Y . où $a R b$ signifie que «le nombre a est l'inverse du nombre b » pour tout $a \in X$, $b \in Y$. Écris le graphe de R , puis représente-le par un diagramme sagittal et un diagramme cartésien. Est-ce que R , est-elle une fonction ? Pourquoi ?
- 9) Si $X = \{1 ; 2 ; 4\}$ et R , la relation définie sur X où $a R b$ signifie que « a est un multiple de b » pour tout a et $b \in X$. Ecris le graphe de R , puis représente-le par un diagramme sagittal. Est-ce que R , est-elle une fonction ? Pourquoi ?
- 10) Soient $X = \{2 ; 3 ; 4\}$, $Y = \{3 ; 4 ; 5 ; 6 ; 7 ; 8\}$ et $f : X \rightarrow Y$ où $f(x) = 9 - x$. Détermine l'image des éléments de X par cette fonction f , puis représente la fonction par un diagramme cartésien.
- 11) Soient $X = \{1 ; 3 ; 5\}$ et R , la relation définie sur X . Si le graphe de la fonction $G = \{(a ; 3) ; (b ; 1) ; (1 ; 5)\}$, détermine la valeur numérique de l'expression $a + b$.
- 12) Représente graphiquement la fonction f telle que $f(x) = 4 - x^2$ où $x \in R$ en prenant $x \in [-3 ; 3]$. A partir du dessin, détermine :
- les coordonnées de la valeur maximale de la fonction
 - l'équation de l'axe de la symétrie.
- 13) Représente graphiquement la fonction f telle que $f(x) = x(6 - x) + 4$ où $x \in R$ en prenant $x \in [-1 ; 7]$
- 14) Représente graphiquement chacune des fonctions affines suivantes :
- $f(x) = 3x + 1$
 - $f(x) = 2 - x$
 - $f(x) = 5x$
 - $f(x) = -2x$
- 15) Si la fonction affine définie par $y = 6x - a$ est représentée graphiquement par une droite coupe l'axe des ordonnées au point $(b ; 3)$, détermine les valeurs de a et de b .
- 16) Soient $X = \{3, 4, 5, 10, 13\}$ et $Y = \{4, 5, 7, 8, 9, 19, 25\}$. R est une relation de X vers Y où $a R b$ signifie que « $b = 2a - 1$ » pour tout $a \in X$, $b \in Y$.
- Écris le graphe de R
 - Représente G par un diagramme cartésien.
 - Quelle est la valeur de x sachant que $(x ; 9)$ appartient au graphe de la relation.

- 17) Soient $X = \{3 ; 5 ; 7 ; 9\}$, $Y = \{a : a \in \mathbb{N} \text{ et } 10 \leq a < 50\}$ et $f : X \rightarrow Y$. Si le graphe d'une fonction $G = \{(3 ; 15) ; (5 ; 25) ; (7 ; 35) ; (9 ; 45)\}$,
- Détermine l'ensemble image de la fonction f
 - Ecris la formule de la fonction.
- 18) Soient $X = \{1 ; 2 ; 3\}$, $Y = \{1, 3, 6, 9, 12\}$ et R est une relation de X vers Y où $a R b$ signifie que « $a = \frac{1}{3} b$ » pour tout $a \in X$, $b \in Y$, Écris le graphe de R . Est-ce que R , est-elle une fonction ? Pourquoi ?
- 19) Si le graphe d'une fonction $G = \{(1 ; 3) ; (2 ; 5) ; (3 ; 7) ; (4 ; 9) ; (5 ; 11)\}$.
- Ecris l'ensemble de définition et l'ensemble image de la fonction f
 - Ecris la formule de la fonction.
- 20) Si la fonction affine définie par $y = 6x - a$ est représentée graphiquement par une droite coupe l'axe des ordonnées au point $(b ; 3)$, détermine la valeur de $2a + 7b$.

Exercices généraux sur les rapports et les proportions :

1) Complète :

- Si $3a = 4b$, alors $a : b = \dots : \dots$
- Si $3 ; 4 ; c ; 8$ sont proportionnelles, alors $c = \dots$
- La moyenne proportionnelle de $3ab^2$ et $27a^3b^2$ est \dots
- Si $\frac{x}{3} = \frac{y}{5}$, alors $\frac{3x}{5y} = \dots$
- Si $9 ; 2x ; \frac{1}{y^2}$ sont proportionnelles, alors $xy = \dots$
- Si $4x^2 - 12xy + 9y^2 = 0$ et $x, y \in \mathbb{R}$, alors $\frac{x}{y} = \frac{\dots}{\dots}$
- Si $\frac{a}{b} = \frac{2}{3}$ et $\frac{a}{c} = \frac{3}{5}$, alors $a : b : c = \dots : \dots : \dots$
- Si $\frac{a}{b} = \frac{7}{2}$, alors $\frac{a-b}{a+b} = \frac{\dots}{\dots}$
- $\frac{x}{6} = \frac{y}{5} = \frac{z}{4} = \frac{\dots}{11} = \frac{2y+z}{\dots}$
- Si $1 ; x ; 9 ; y$ forment une proportion en chaîne, alors $x = \dots, y = \dots$

2) Choisis la bonne réponse :

- 1) La troisième proportionnelle de 3 ; 6 est
- a) $\frac{1}{2}$ b) 2 c) 9 d) 12
- 2) Si 2 ; 6 ; x + 15 sont proportionnelles, alors x =
- a) 1 b) 2 c) 3 d) 4
- 3) Si a ; b ; 2 ; 3 sont proportionnelles, alors $\frac{a}{b}$
- a) $\frac{2}{3}$ b) $\frac{3}{2}$ c) $\frac{3}{4}$ d) $\frac{4}{3}$
- 4) Si $\frac{9}{a^2} = \frac{4}{b^2}$ (où a, b ≠ 0), alors $\frac{a}{b}$ =
- a) $\frac{2}{3}$ b) $\pm \frac{3}{2}$ c) $\pm \frac{2}{3}$ d) $\pm \frac{4}{9}$
- 5) La deuxième proportionnelle de 12ab² ; 21ab ; 14b² est
- a) 8 ab² b) 8 b³ c) 24 ab d) 24 b⁴
- 6) Si $\frac{x}{z} = \frac{y}{t}$, laquelle des propositions suivantes est juste ?
- a) $\frac{x}{t} = \frac{y}{z}$ b) $\frac{x}{z} = \frac{t}{y}$ c) $\frac{x}{y} = \frac{t}{z}$ d) $\frac{x}{z} = \frac{y}{t}$
- 7) Le nombre qu'il faut ajouter aux nombres 1 ; 3 ; 7 ; 15 pour qu'ils forment une proportion en chaîne est
- (a) 1 (b) 2 (c) 3 (d) 4
- 8) Si $\frac{a}{2} = \frac{b}{3}$, alors $\frac{b-a}{b+a}$ =
- a) $\frac{1}{5}$ b) $\frac{1}{3}$ c) $\frac{2}{5}$ d) $\frac{3}{5}$
- 9) Si $\frac{x}{2} = \frac{y}{3} = \frac{4x-2y}{z}$, alors z =
- a) -2 b) $-\frac{1}{2}$ c) $\frac{1}{2}$ d) 2
- 10) Si $\frac{a}{b} = \frac{c}{d} = \frac{e}{f} = m$, (où m ∈ ℝ*), alors $\frac{ace}{bdf}$ = ...
- a) m b) 3m c) m³ d) 3m³

3) Répond aux questions suivantes :

- 1) Si les nombres de chacun des listes suivantes sont proportionnels, trouve x
- a) 8 ; x ; 4 ; 5 b) 11 ; 3 ; x ; 6 c) 6 ; 24 ; 1 ; x

2) Dans ce qui suit, trouve $x : y : z$

a) $\frac{x}{y} = \frac{3}{5}$ et $\frac{y}{z} = \frac{4}{7}$ b) $\frac{x}{y} = \frac{4}{5}$ et $\frac{x}{z} = \frac{3}{7}$

3) Si $\frac{a}{b} = \frac{2}{5}$, trouve la valeur de chacun des rapports suivants :

a) $\frac{a+b}{b}$ b) $\frac{a}{b-a}$ c) $\frac{b-a}{b+a}$ d) $\frac{7a-2b}{3a+2b}$

4) Si $\frac{a}{2} = \frac{b}{3} = \frac{2a-b}{m}$, trouve la valeur de m .

5) Soit $\frac{a}{b-a} = \frac{c}{d-c}$, démontre que : $a ; b ; c ; d$ sont proportionnelles.

6) Si b est la moyenne proportionnelle de a et c , démontre que :

a) $\frac{a^2}{b^2} + \frac{b^2}{c^2} = \frac{2a}{c}$ b) $\frac{a+b+c}{a^{-1}+b^{-1}+c^{-1}} = b^2$

7) Si $\frac{x}{3} = \frac{y}{4} = \frac{z}{5}$, démontre que : a) $\frac{2y-z}{3x-2y+z} = \frac{1}{2}$ b) $\sqrt{3x^2 + 3y^2 + z^2} = 2x+y$

8) Si $a-1 ; a+1 ; b-2 ; b+2$ sont proportionnelles, trouve $\frac{a}{b}$, puis démontre que :

$$\frac{a+b}{a+b-3} = \frac{3a}{5a-b-3}$$

9) Si $\frac{a}{b} = \frac{1}{3}$; $\frac{a}{c} = \frac{1}{9}$ et $a+b+c = 26$, trouve $a ; b$ et c .

10) Si $x ; y ; z$ et t sont proportionnelles, démontre que :

a) $\left(\frac{x+y}{z+t}\right)^2 = \frac{2x^2-3y^2}{2z^2-3t^2}$ b) $\sqrt[3]{\frac{5x^3-3z^3}{5y^3-3t^3}} = \frac{x+z}{y+t}$

11) Si $\frac{2x+y}{a} = \frac{3y-x}{b} = \frac{4x+5y}{c}$, démontre que : $\frac{a+2b}{4b+c} = \frac{7}{17}$

12) Si $\frac{x+y}{\ell+m} = \frac{y+z}{m+n} = \frac{z+x}{m+\ell}$, démontre que $\frac{x}{\ell} = \frac{y-x}{m-\ell}$, démontre que .

13) Si $\frac{x}{2a+b} = \frac{y}{2b-c} = \frac{z}{2c-a}$, démontre que $\frac{2x+y}{4a+4b-c} = \frac{2x+2y+z}{3a+6b}$

- 14) Si $\frac{x+y}{7} = \frac{y+z}{5} = \frac{x+z}{8}$, démontre que $\frac{x+y+z}{x-z} = 5$.
- 15) Trouve le nombre qu'il faut ajouter aux nombres 7 ; 9 ; 12 ; 15 pour qu'ils soient proportionnels.
- 16) Le rapport entre deux nombres entiers positifs est 3 : 7. Si on retranche 5 aux deux termes du rapport, alors le rapport entre les deux nombres devient 1 : 3. Trouve ces deux nombres.
- 17) Si on ajoute au carré d'un nombre positif aux deux termes du rapport 7 : 11, alors le rapport entre les deux nombres devient 4 : 5, détermine ce nombre.

Exercices généraux sur les variations directes et inverses :

1) Complète ce qui suit :

- 1) Si $y = 3x$, alors $y \propto \dots\dots\dots$
- 2) Si $xy - 7 = 0$, alors $y \propto \dots\dots\dots$
- 3) Si $y \propto x$ et x prend les valeurs x_1, x_2 et y prend les valeurs y_1, y_2 respectivement,
alors $\frac{x_1}{x_2} = \frac{\dots\dots\dots}{\dots\dots\dots}$
- 4) Si $x \propto y$ et $x = 1$ pour $y = 4$, alors la constante de la proportion est $\dots\dots\dots$
- 5) Si $y \propto x$ et $y = 2$ pour $x = 4$, alors $y = \dots\dots\dots x$.
- 6) Si y est inversement proportionnel à x et $y = 2$ pour $x = \frac{1}{2}$, alors $y = \frac{\dots\dots\dots}{x}$
- 7) Si $x^2y^2 - 4xy + 4 = 0$, alors $y \propto \dots\dots\dots$
- 8) Si $y^2 - 6xy + 9x^2 = 0$, alors $y \propto \dots\dots\dots$
- 9) Si $y \propto \frac{1}{x}$ et x prend les valeurs x_1, x_2 et y prend les valeurs y_1, y_2 respectivement,
alors $\frac{x_1}{x_2} = \frac{\dots\dots\dots}{\dots\dots\dots}$
- 10) Si $y \propto x$ et $y = 1$ pour $x = 4$, alors $y = \dots\dots\dots$ quand $x = 8$.

2) Choisi la bonne réponse :-

1) La relation qui représente une variation directe entre les deux variables x et y est

- a) $xy = 7$ b) $y = x + 2$ c) $\frac{x}{3} = \frac{4}{y}$ d) $\frac{x}{5} = \frac{y}{2}$

2) Si y est inversement proportionnel à x et $x = \sqrt{3}$ pour $y = \frac{2}{\sqrt{3}}$,

la constante est égale à ..

- a) $\frac{1}{2}$ b) $\frac{2}{3}$ c) 2 d) 6

3) Si $y - x = \frac{1}{x} - \frac{1}{y}$ où $x \neq y \neq 0$, alors

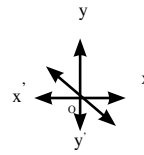
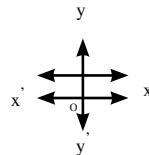
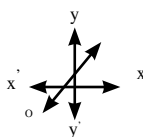
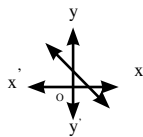
- a) $y \propto x + 1$ b) $y \propto x$ c) $y \propto \frac{1}{x}$ d) $y \propto \frac{1}{x^2}$

4) Si l'un de coût total "y" d'un voyage est constante "a" et l'autre varie au nombre des participants "x", alors laquelle des relations soit vraie....

- a) $y = ax$ b) $y = \frac{a}{x}$ $x \neq 0$
c) $y = a + \frac{m}{x}$ m constant $\neq 0$ d) $y = a + mx$ m constant $\neq 0$

5) La figure qui représente une variation directe entre x et y est

- a) b) c) d)



3) Lesquels des tableaux suivants représentent une variation directe et lesquels représentent une variation inverse ? Justifie la réponse dans chaque cas :

x	y
3	20
5	12
4	15
6	10

x	y
2	9
4	18
6	54
16	72

x	y
5	9
10	18
15	27
25	45

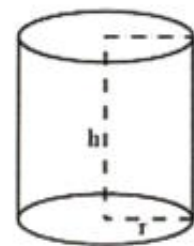
x	y
3	6
-2	-9
-18	1
9	-2



- 5) Si y est inversement proportionnelle à x , $y = 10$ quand $x = 3$; trouve y quand $x = 5$.
- 6) Si $y \propto x$, $y = 20$ quand $x = 7$, trouve la relation entre x et y , puis trouve y quand $x = 14$.
- 7) Si $y \propto \frac{1}{x}$, $x = 2\frac{4}{5}$ quand $y = \frac{4}{7}$, trouve la relation entre x et y , puis trouve y si $x = 3\frac{1}{5}$.
- 8) Si $y = 3 + a$, $a \propto \frac{1}{x}$, $y = 5$ quand $x = 1$, trouve la relation entre x et y , puis trouve y quand $x = 2$.
- 9) Si $y = a + 7$, $a \propto \frac{1}{x^2}$, $a = 18$ quand $x = \frac{2}{3}$, trouve la valeur de y et x puis trouve la valeur de y quand $x = 6$.
- 10) Si $\frac{21x - y}{7x - z} = \frac{y}{z}$, démontre que $y \propto z$.
- 11) Réponds aux questions suivantes en utilisant les données du tableau suivant :

x	2	4	6
y	6	3	2

- a) Trouve la nature de la variation. b) Trouve le constant de la variation.
- c) Trouve la valeur de y quand $x = 3$. d) Trouve la valeur de x quand $y = 2\frac{2}{5}$.
- 12) Une voiture roule à une vitesse constante de sorte que la distance parcourue soit directement proportionnelle au temps. Si la voiture parcourt une distance de 90 km en une heure et demie, trouve la relation entre la distance et le temps puis la distance parcourue en deux heures et demie.
- 13) Si l'intensité de la lumière (I) d'une lampe est inversement proportionnelle au carré de la distance (d) entre la lampe et un élève. La distance entre l'élève et la lampe est 12 mètres. Si l'intensité de la lumière est faible, à quelle distance doit-on mettre la lampe pour que l'intensité de la lumière augmente de quatre fois ?
- 14) Si la hauteur (h) d'un cylindre circulaire droit (de volume constant) est inversement proportionnelle au carré du rayon de sa base (r). Si $h = 18$ cm pour $r = 7$ cm. Trouve h pour $r = 10,5$ cm.



- 15) Une voiture de masse 3 tonnes roule à une vitesse uniforme sous l'effet d'une résistance qui varie avec sa vitesse. Si la résistance est 6 kgp/t quand la vitesse est 50 km/h. Trouve sa vitesse si la résistance est 27 kgp.



Exercices généraux sur la statistique et les recueils des données

1) Complète :

- 1) L'échantillon statistique est une partie de
- 2) Les méthodes du recueil des données sont ;
- 3) La moyenne arithmétique est l'une des mesures de mais l'étendu est l'une des mesures de
- 4) La différence entre la plus grande valeur et la plus petite valeur d'un ensemble de valeurs est
- 5) La moyenne arithmétique d'un ensemble des valeurs est égale à
- 6) La racine carrée positive de la moyenne des carrés des écarts des valeurs à la moyenne arithmétique est
- 7) L'étendu des valeurs 5 ; 14 ; 4 ; 21 ; 16 ; 12 est
- 8) L'écart-type des valeurs 3 ; 12 ; 17 ; 28 ; 30 est
- 9) La différence entre la plus grande valeur et la plus petite valeur d'un ensemble de valeurs est
- 10) Si 78 est la plus grande valeur d'un ensemble quelconque et l'étendu est égale à 39, alors la plus petite valeur de cet ensemble est égale à

(2) Choisis la bonne réponse parmi les proposées :

- 1) Le choix de l'échantillon représentant les différents niveaux d'une population statistique est appelé échantillon
a) aléatoire b) stratifié c) internationale d) en grappes
- 2) La différence entre la plus grande valeur et la plus petite valeur d'un ensemble de valeurs est
a) étendu b) moyenne arithmétique
c) médiane d) écart-type
- 3) L'étendu des valeurs 7 ; 3 ; 6 ; 9 ; 5 est
a) 3 b) 4 c) 6 d) 12

- 4) La moyenne arithmétique des valeurs 7 ; 3 ; 6 ; 9 ; 5 est
 a) 3 b) 4 c) 6 d) 12
- 5) Si $\sum (x - \bar{x})^2 / k = 36$ d'un ensemble des valeurs est 9, alors $\sigma = \dots\dots\dots$
 a) 2 b) 4 c) 18 d) 27

(3) Réponds aux questions suivantes :

- 1) Dans une école, il y a 360 garçons et 480 filles. On veut prendre un échantillon de 350 élèves pour les représenter selon leurs sexes. Calcule le nombre d'élèves de chaque genre de l'échantillon.
- 2) Dans une usine, il y a 125 ouvriers, 75 techniciens et 50 ingénieurs. On veut prendre un échantillon de 50 personnes pour les représenter selon leurs postes. Calcule le nombre de personnes de chaque poste de l'échantillon.
- 3) Le tableau suivant représente le nombre d'étudiants dans l'une des facultés.

Niveau	1	2	3	4
Nombre d'élèves	900	800	700	600

- a) On veut prendre un échantillon de 120 étudiants pour représenter chaque niveau.
 b) Calcule le nombre d'étudiants de chaque niveau de l'échantillon ?
- 4) On veut prendre un échantillon aléatoire stratifié dans lequel, chaque classe est représentée selon sa grandeur dans une population composée de 10000 personnes. L'échantillon est composé de deux niveaux comme le montre le tableau suivant :

Niveau	1	2
Nombre d'élèves	3000	7000

- 5) Si le nombre d'éléments du premier niveau de l'échantillon est 90, trouve la grandeur de l'échantillon entier. Calcule l'étendu des données suivantes :
- a) 7 ; 16 ; 14 ; 9 ; 5 b) 13 ; 9 ; 25 ; 19 ; 29 ; 10
- 6) Calcule la moyenne arithmétique et l'écart-type des données suivantes :
- a) 15 ; 30 ; 6 ; 18 ; 16 b) 68 ; 54 ; 63 ; 70 ; 45
- c) 70 ; 64 ; 61 ; 65 ; 70 ; 76 ; 70 d) 23 ; 12 ; 17 ; 13 ; 15 ; 16 ; 8 ; 9 ; 37 ; 10
- 7) Si les notes d'un élève à l'examen de mi-année dans cinq matières sont 20 ; 17 ; 22 ; 23 ; 18. Calcule l'écart-type.

- 8) Si les dépenses quotidiennes en dizaines livres égyptiennes de deux groupes de familles dans deux villes sont comme suit :

Groupe A : 24 ; 20 ; 26 ; 25 ; 30 ; 18 ; 32

Groupe B : 27 ; 25 ; 25 ; 23 ; 24 ; 26

Lequel des deux groupes est le plus dispersé ? Donne la raison.

- 9) Le tableau suivant montre les notes d'un élève en mathématiques pendant une année scolaire

Mois	Octobre	Novembre	Décembre	Février	Mars	Avril
Note	36	40	42	38	46	44

Calcule la moyenne arithmétique et l'écart-type.

- 10) Le tableau suivant montre le nombre de personnes de 50 familles.

Nombre de personnes	2	3	4	5	6	7	8
Nombre de familles	5	7	8	12	9	5	4

Calcule la moyenne arithmétique et l'écart-type du nombre de personnes des familles.

- 11) Calcule la moyenne arithmétique et l'écart-type des données suivantes :

Intervalle	0 → 2	2 → 4	4 → 6	6 → 8	8 →
Effectif	5	9	15	15	6

- 12) Dans une étude sur la quantité d'essence consommée par un ensemble de voitures, les résultats sont les suivants:

Nombre de km par litre	25 →	27 →	29 →	31 →	33 →
Nombre des voitures	5	7	9	5	4

Calcule la moyenne arithmétique et l'écart-type du nombre de km par litre.

- 13) Le tableau suivant représente un échantillon d'hôpitaux selon le nombre de médecins

Nombre de médecins	10 → 15	15 → 20	20 → 25	25 → 30	30 → 35	35 → 40	40 → 45	45 → 50
Nombre d'hôpitaux	4	4	6	10	6	5	4	1

Calcule l'écart-type.

Modèles d'examens de la Algèbre et statistique

Modèle (1)

1) Complète :

- 1) Les méthodes du recueil des données sont ;
- 2) Si $(x + 5 ; 8) = (1 ; 6y + x)$, alors $y = \dots\dots\dots$
- 3) Si $\frac{a}{b} = \frac{c}{d}$, alors $\frac{\dots\dots+3c}{5b+\dots} = \frac{a}{b}$
- 4) Si $y \propto x$ et $y = 6$ quand $x = 4$, alors $\frac{y}{x} = \dots\dots\dots$
- 5) Si $\text{card}(X) = 5$ et $\text{card}(X \times Y) = 15$, alors $\text{card}(Y) = \dots\dots\dots$
- 6) Dans une épreuve, Ahmed a bien répondu à 60 % des questions. Le nombre de ses fausses réponses est 10 réponses. Le nombre des questions est

(2) Choisi la bonne réponse :-

- 1) La 4ème proportionnelle des valeurs 3 ; 6 ; 6 est
 a) 3 b) 6 c) 9 d) 12
 - 2) Le rapport entre l'aire d'un carré de L cm de longueur de côté et l'aire d'un autre de 2L cm de longueur de côté est
 a) 1 : 2 b) L : 4 c) 1 : 4 d) 4 : 1
 - 3) Si $3xy = 8$, alors
 a) $x \propto y$ b) $y \propto x$ c) $3x \propto 8y$ d) $x \propto \frac{1}{y}$
 - 4) Le point (-3 ; 4) est situé au ... quadrant
 a) premier b) deuxième c) troisième d) quatrième
 - 5) Si f est une fonction de X vers Y, alors l'ensemble image \subset
 a) X b) Y c) $X \times Y$ d) R
 - 6) On a deux genres de frigidaires. Le premier se compose de 200 frigidaires et le deuxième 300 frigidaires. Si on prend un échantillon stratifié de 50 frigidaires pour les examiner, alors le nombre de frigidaires du deuxième genre est
 a) 10 b) 20 c) 25 d) 30
- (3) a) Si $x = z + 8$ et z est inversement proportionnelle à y. $z = 2$ quand $y = 3$. Trouve y quand $x = 3$.
- b) Trouve le nombre qu'il faut ajouter aux nombres 1 ; 7 ; 25 pour qu'ils forment une proportion en chaîne.

(4) a) Soit $\frac{a}{4} = \frac{b}{5} = \frac{c}{3}$, démontre que : $\frac{a-b+c}{a+b-c} = \frac{1}{3}$

b) Soient $X = \{2 ; 3 ; 4 ; 7\}$, $Y = \{1 ; 2 ; 3 ; 4 ; 5 ; 7 ; 8\}$ et R , une relation de X vers Y où $a R b$ signifie que “ $a + b$ est un nombre non premier” pour tout $a \in X$ et $b \in Y$.
Ecris le graphe de R , Puis représente-le par un diagramme sagittal.

5) a) Soient $X = \{2 ; 3 ; 4\}$ et $Y = \{3 ; 4 ; 5 ; 6 ; 7\}$. Si $f : X \rightarrow Y$ où $f(x) = 9 - x$,
détermine l'ensemble image de la fonction f

b) Le tableau suivant représente le nombre d'enfants de 100 familles dans une ville :

Nombre d'enfants	0	1	2	3	4	total
Nombre de familles	6	15	40	25	14	100

Calcule la moyenne arithmétique et l'écart-type .

Modèle (2)

1) Complète :

- 1) L'étendu des valeurs 8 ; 5 ; 10 ; 6 ; 14 est
- 2) Si la moyenne proportionnelle positive des deux nombres 2 et a est 6, alors $a = \dots$
- 3) Le point (5 ; -3) est situé au quadrant .
- 4) Si $X = \{2 ; 3\}$, alors $X^2 = \dots$
- 5) Si $\frac{x}{5} = \frac{y}{4} = \frac{x+y}{k}$, alors $k = \dots$
- 6) Un maître a corrigé les devoirs de ses élèves en une demi heure. S'il corrige 120 copies en une heure et demie, alors le nombre d'élèves est

(2) Choisis la bonne réponse :

- 1) La plus simple méthode de mesurer la dispersion est
 - a) l'étendu
 - b) la moyenne arithmétique
 - c) la médiane
 - d) le mode
- 2) Si $3a = \frac{5}{6} b$, alors $\frac{b}{a} = \dots$
 - a) $\frac{18}{5}$
 - b) $\frac{15}{6}$
 - c) $\frac{6}{15}$
 - d) $\frac{5}{18}$
- 3) Si $(3 ; 5) \in \{3 ; 6\} \times \{x ; 8\}$, alors $x = \dots$
 - a) 8
 - b) 6
 - c) 3
 - d) 5

4) Si $X = \{ 5 ; 6 ; 7 \}$, alors $\text{card}(X^2) = \dots\dots\dots$

- a) 3 b) 6 c) 9 d) 12

(5) Si $(x ; 7)$ est situé, sur l'axe des ordonnées, alors $5x + 1 = \dots\dots$

- a) 0 b) 1 c) 5 d) 6

(6) l'ensemble image des éléments de l'ensembl définition est appelé

- a) la règle b) domain c) image d) d'arvivee

(3) a) Si y varie quand x varie et $y = \frac{5}{3}$ quand $x = \frac{1}{6}$, trouve la valeur de x quand $y = \frac{3}{4}$

b) Trouve le nombre qu'il faut retrancher de chacun des nombres 3 ; 7 ; 19 pour que les résultats soient proportionnels en chaîne .

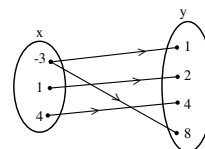
(4) a) Soient $\frac{x+y}{5} = \frac{y+z}{3} = \frac{z+x}{6}$, démontre que : $\frac{x+z}{2} = \frac{x+y+z}{7}$

b) Soient $X = \{ 1 ; 2 \}$ et $Y = \{ 2 ; 3 ; 4 \}$ détermine $X \times Y$

5) a) le diagramme sagittal ci-contre représente une relation de X vers Y où

$X = \{-3, 1, 4\}$ et $Y = \{1, 2, 4, 8\}$.

Est ce que R, est elle une fonction ? pourquoi ?



b) Calcule l'écart-type des données suivantes :

Intervalle	0	1	2	3	4	5
effectifs	9	15	17	25	20	14

Modèle (3)

1) Complète :

1) Le couple $(x^2 ; y^2)$ où $x \neq 0$ et $y \neq 0$ est situé au quadrant

2) La racine carrée positive de la moyenne des carrées des écarts des valeurs à la moyenne arithmétique est

3) Si $\frac{a}{b} = \frac{7}{4}$, alors $\frac{4a}{b} = \dots\dots\dots$

4) Si $y^2 - 4xy + 4x^2 = 0$, alors $y \propto \dots\dots\dots$

5) Si x et x + 41 sont deux nombres premiers, alors x =

6) Si $X = \{2\}$, alors $X^2 = \dots\dots$

(2) Choisis la bonne réponse :

- 1) La première proportionnelle des valeurs 21 ; 15 ; 35 est
a) $\frac{3}{7}$ b) 3 c) 7 d) 9
- 2) Si $4x^2 = 9y^2$, alors $\frac{x}{y} = \dots\dots\dots$
a) $\frac{9}{4}$ b) $\frac{3}{2}$ c) $\frac{2}{3}$ d) $\frac{3}{2}$
- 3) Si $\sqrt{2}\sqrt{3}\sqrt{5}\sqrt{6}\sqrt{7}\sqrt{8} = 12\sqrt{70}$, alors $\sqrt{3}\sqrt{5}\sqrt{6}\sqrt{7}\sqrt{8}\sqrt{10} = \dots\dots\dots$
a) $60\sqrt{7}$ b) $120\sqrt{14}$ c) $12\sqrt{70}$ d) $60\sqrt{7}$
- 4) Si $X = \{1 ; 2\}$ et $Y = \{0\}$, alors $\text{card}(X \times Y) = \dots\dots\dots$
a) 0 b) 1 c) 2 d) 3
- 5) Si le point (a , 3) est situé à la droite représentée par la fonction $f(x) = 4x - 5$, alors
a =
a) 1 b) 2 c) 3 d) 4
- 6) Dans ce qui suit, l'ensemble le plus dispersé est
a) 28 ; 17 ; 30 ; 36 ; 20 b) 31 ; 35 ; 26 ; 37 ; 41
c) 25 ; 39 ; 19 ; 5 ; 27 d) 20 ; 19 ; 29 ; 37 ; 43
- (3) a) Soit $3a = 2b$, trouve la valeur de $\frac{3a-b}{2a+b}$
b) Si $f(x) = x^2 - x + 3$, calcule $f(-2)$, $f(1)$ et $f(0)$
- (4) a) Soit y la moyenne proportionnelle de x et z, démontre que : $\frac{xz}{y(y+z)} = \frac{x}{x+y}$
b) Si $y = 1 + b$ où b est inversement proportionnelle au carré de x et $y = 17$ pour $x = \frac{1}{2}$, trouve la relation entre y et x puis la valeur de y quand $x = 2$.
- 5) a) Soit R, une relation sur $N \times N$ (l'ensemble des nombres naturels) où a R b signifie que "a x b = 18" pour tout $a \in N$ et $b \in N$. Ecris le graphe de R, puis représente-le par un diagramme sagittal .
b) Calcule la moyenne arithmétique et l'écart-type pour les valeurs :
37 ; 54 ; 62 ; 71 ; 60
c) Le rapport entre deux nombres entiers positifs est 3 : 7. Si on retranche 5 de chacun d'eux, le rapport sera 1 : 3. Trouve ces deux nombres.

Modèle (4)

(1) complète :

- 1) La moyenne arithmétique des valeurs 4 ; 13 ; 18 ; 25 ; 30 =
- 2) Si $\frac{3a-2b}{7a+4b} = 0$, alors $\frac{a}{b} = \dots\dots\dots$
- 3) Si 50 grammes d'une nourriture contient 200 calories, le nombre de calories en 30 grammes de cette nourriture =
- 4) Si 1 ; x ; 9 ; y sont proportionnelles en chaîne, alors x = et y =
- 5) La fonction $f(x) = x^4 - 2x^2 + 7$ est une fonction polynôme du degré.
- 6) Si x et y sont deux quantités où $\frac{x_1 y_1}{x_2 y_2} = 1$, alors $y \propto \dots\dots\dots$

(2) Choisis la bonne réponse :

- 1) Si $\frac{a}{b} = \frac{5}{3}$, alors $\frac{3a}{5b} = \dots\dots\dots$
 a) 1 b) $\frac{5}{3}$ c) 3 d) 15
- 2) Si $X = \{5 ; 6 ; 7\}$, alors $\text{card}(x^2) = \dots\dots\dots$
 a) 3 b) 6 c) 9 d) 12
- 3) Si $y^2 + 4x^2 = 4xy$, alors
 a) $y \propto x$ b) $y \propto x^2$ c) $y \propto \frac{1}{x}$ d) $y \propto \frac{1}{x^2}$
- 4) Si n est un nombre impair, alors le nombre pair qui le suit est
 a) n^2 b) $n^2 + n$ c) $n + 6$ d) $n + 1$ e) n^3
- 5) Si valeurs d'un ensemble de datas sont égaux, alors
 a) $\bar{x} = 0$ b) $\sigma = 0$ c) $x - \bar{x} > 0$ d) $x - \bar{x} < 0$
- 6) Si $(4 ; 4) \in \{2 ; x\} \times \{1 ; 4\}$, alors x =
 a) 2 b) 3 c) 4 d) 8
- (3) a) Si $a^2 b^2 + \frac{1}{4} = ab$, démontre que a est inversement proportionnelle à b .
 b) Si $\frac{a^2 + b^2}{b^2} = \frac{a^2 + b^2}{c^2}$, démontre que b est une moyenne proportionnelle de a et c .

(4) a) Calcule la moyenne arithmétique et l'écart-type des données suivantes :

Intervalle	0 → 2	2 → 4	4 → 6	6 → 8
Effectif	5	9	15	15

b) Si $y \propto x$ et $y = 20$ quand $x = 7$. Trouve y quand $x = 14$.

(5) a) Soient $X = \{1 ; 2 ; 5 ; 7\}$; $Y = \{2 ; 3 ; 7 ; 8\}$ et R , une relation de X vers Y où $a R b$ signifie que " $a+b$ est un nombre premier" pour tout $a \in X$ et $b \in Y$.

Ecris le grafe de R , Puis représente-le par un diagramme sagittal. Est ce que R , est elle une fonction ? pourquoi ?

b) Le poids (p) d'un corps sur la terre est directement proportionnel à son poids (r) sur la lune. Si $p_1 = 182$ kg pour $r_1 = 35$ kgm, trouve r_2 quand $p_2 = 312$ kg.

Modèle (5)

1) Complète :

- 1) Si 5 ; y ; 4 ; 1 sont proportionnelles, alors $y = \dots\dots\dots$
- 2) Si $y \propto x$ et $y = 2$ pour $x = 8$, alors $y = \dots\dots\dots$ pour $x = 12$.
- 3) La fonction $f(x) = 2x - 6$ est représentée graphiquement par une droite qui coupe l'axe des abscisses au point
- 4) Si la moyenne arithmétique des valeurs $a ; 5 ; 8 ; 7 ; 6$ égale 6, alors $a = \dots\dots\dots$
- 5) La moyenne proportionnelle positive de $4a^2$ et $25b^4$ est $\dots\dots\dots$
- 6) Si $(2x ; 4) = (8 ; y + 1)$, alors $\sqrt{x^2 + y^2} = \dots\dots\dots$

(2) Choisis la bonne réponse :

- 1) Si $a ; x ; b ; 2x$ sont proportionnelles, alors $\dots\dots\dots$
 - a) 2 : 1
 - b) 1 : 2
 - c) 1 : 3
 - d) 1 : 4
- 2) Si le point $(x - 5 ; 7 - x)$ est situé au deuxième quadrant, alors $x = \dots\dots\dots$
 - a) 5
 - b) 3
 - c) 7
 - d) 9
- 3) Si $X = \{2\}$ et $Y = \{0, 4\}$, alors $\text{card}(X \times Y) = \dots\dots\dots$
 - a) 8
 - b) 80
 - c) 67
 - d) 2
- 4) Si le graphe de R est $\{(2 ; 3) ; (5 ; 1) ; (4 ; 6)\}$, alors R est une fonction dont l'ensemble de l'image est $\dots\dots\dots$
 - a) $\{2 ; 4 ; 5\}$
 - b) $\{1 ; 3 ; 6\}$
 - c) \mathbb{N}
 - d) \mathbb{Z}
- 5) Si la dispersion d'un ensemble de valeurs est égale à 0, alors $\dots\dots\dots$
 - a) la différence entre les valeurs est petite
 - b) la différence entre les valeurs est grande
 - c) toutes les valeurs sont égales
 - d) leur moyenne arithmétique est nulle

6) Observe la relation entre les nombres suivante : $0,75 ; 1 \frac{1}{4} ; 1,75 ; x ; \dots$

Alors $x = \dots\dots\dots$

- a) 2,75 b) 2,5 c) 2,25 d) 2

(3) a) Si $\frac{x}{y} = \frac{2}{5}$, trouve la valeur de $\frac{2x+y}{x+4y}$

b) Si $4x^2 + 9y^2 = 12xy$, démontre que x est directement proportionnelle à y .

(4) Représente graphiquement la courbe de la fonction $f(x) = (x-3)^2$ en prenant $x \in [0 ; 6]$.

Du graphique déduis le sommet de la courbe et la valeur maximale ou la valeur minimale de la fonction.

b) Si $a ; b ; c ; d$ sont proportionnelles en chaîne, démontre que :

$$\frac{ab-cd}{b^2-c^2} = \frac{a+c}{b}$$

(5) a) soient $X = \{2 ; 3 ; 4 ; 7\}$, $Y = \{1 ; 2 ; 3 ; 4 ; 7 ; 8\}$ et R , une relation de X vers Y où $a R b$ signifie que " $a - b$ est un nombre premier" Pour tout $a \in X$ et $b \in Y$, Ecris le graphe G et représente-le par un diagramme sagittal.

b) La vitesse (v) de la sortie de l'eau du cratère d'un tuyau est inversement proportionnelle au carré de la longueur du rayon (r) du cratère du tuyau. Si $v = 5\text{cm/s}$ pour

$r = 3\text{ cm}$, trouve v pour $r = 15 \frac{3}{4}\text{ cm}$.

Exercices généraux sur l'unité de la trigonométrie

(1) Complète le tableau suivant :

angle \ Rapport	$42^\circ 12'$
sin	0,3214
cos	0,5321
tg	2,0625

(2) Complète :

1) $46^\circ 36' 24'' = \dots\dots\dots$ (en degrés)

2) $44,125^\circ = \dots\dots\dots$ (en degrés, minutes, seconds)

3) Si $\text{tg } E = 1,42$ où E est un angle aigu, alors $m(\angle E) = \dots\dots\dots$

- 4) Si $\sin E = 0,63$ où E est un angle aigu, alors $m(\angle E) = \dots\dots\dots$
- 5) Si $\sin x = \frac{1}{2}$ où x est un angle aigu, alors $m(\angle x) = \dots\dots\dots$
- 6) Si $\cos \frac{x}{2} = \frac{\sqrt{3}}{2}$ où x est un angle aigu, alors $m(\angle x) = \dots\dots\dots$
- 7) $\sin 60^\circ + \cos 30^\circ - \operatorname{tg} 60^\circ = \dots\dots\dots$
- 8) $\cos 60^\circ + \sin 30^\circ - \operatorname{tg} 45^\circ = \dots\dots\dots$
- 9) $2\sin 30^\circ \cos 60^\circ - \operatorname{tg} 45^\circ = \dots\dots\dots$
- 10) $\sin^2 30^\circ + \cos^2 30^\circ = \dots\dots\dots$
- 11) Si $\operatorname{tg}(x + 10) = \sqrt{3}$ où x est un angle aigu, alors $m(\angle x) = \dots\dots\dots$
- 12) Si $\operatorname{tg} 3x = \sqrt{3}$ où x est un angle aigu, alors $m(\angle x) = \dots\dots\dots$

(3) Dans la figure ci-contre :

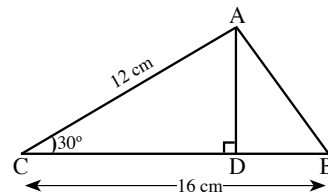
ABC est un triangle, $\overline{AD} \perp \overline{BC}$.

$AC = 12 \text{ cm}$, $BC = 16 \text{ cm}$, $m(\angle C) = 30^\circ$

Complète : $\sin 30^\circ = \frac{AD}{\dots\dots\dots} = \dots\dots$ donc $AD = \dots\dots \times \sin 30^\circ = \dots\dots \text{cm}$.

Aire ($\triangle ABC$) = $\dots\dots \times AD \times BC$

Aire ($\triangle ABC$) = $\dots\dots \times \dots\dots \times \dots\dots = \dots\dots \text{cm}^2$.



Peux-tu trouver la hauteur du triangle abaissée de B à \overline{AC} ? Montre les étapes de la solution.

(4) Choisis la bonne réponse :

- 1) $4\cos 30^\circ \operatorname{tg} 60^\circ = \dots\dots\dots$
- a) 3 b) $2\sqrt{3}$ c) 6 d) 12
- 2) Si $\cos 2x = 0$ où x est un angle aigu, alors $m(\angle x) = \dots\dots\dots$
- a) 15° b) 30° c) 45° d) 60°
- 3) Si $\operatorname{tg} \frac{3x}{2} = 1$ où x est un angle aigu
alors $m(\angle x) = \dots\dots\dots$
- a) 10° b) 30° c) 5° d) 60°
- 4) $2\operatorname{tg} 45^\circ - \frac{1}{\cos 60^\circ} = \dots\dots\dots$
- a) 0 b) $\frac{1}{2}$ c) $\frac{\sqrt{3}}{2}$ d) 1



5) Si $\cos \frac{x}{2} = \frac{\sqrt{3}}{2}$ où x est un angle aigu, alors $\sin x = \dots\dots\dots$

- a) $\frac{1}{2}$ b) $\frac{1}{\sqrt{3}}$ c) $\frac{2}{\sqrt{3}}$ d) $\frac{\sqrt{3}}{2}$

6) Dans un ΔABC si $m(\angle A) = 85^\circ$, $\sin B = \cos B$, alors $m(\angle C) = \dots\dots\dots$

- a) 30° b) 45° c) 50° d) 60°

(5) Trouve la valeur de :

1) $(\cos 30^\circ - \cos 60^\circ)(\sin 30^\circ + \sin 60^\circ)$

2) $\frac{1}{4}\sin^2 45^\circ \operatorname{tg}^2 60^\circ - \frac{1}{3}\sin^2 60^\circ \operatorname{tg}^2 30^\circ$

3) $\sin 45^\circ \cos 45^\circ + \sin 30^\circ \cos 60^\circ - \cos^2 30^\circ$

4) $\frac{\sin 30^\circ \cos 45^\circ + \cos 30^\circ \sin 45^\circ}{\sin 45^\circ \cos 60^\circ + \cos 45^\circ \sin 60^\circ}$

(6) Démontre que:

1) $\cos 60^\circ = 2\cos^2 30^\circ - 1$

2) $\operatorname{tg} 60^\circ (1 - \operatorname{tg}^2 30^\circ) = 2\operatorname{tg} 30^\circ$

3) $\operatorname{tg}^2 60^\circ - \operatorname{tg}^2 45^\circ = 4 \sin 30^\circ$

4) $\operatorname{tg} 60^\circ = \frac{2\operatorname{tg} 30^\circ}{1 - \operatorname{tg}^2 30^\circ}$

5) $\frac{\operatorname{tg}^2 30^\circ \operatorname{tg} 45^\circ \operatorname{tg}^2 60^\circ + \operatorname{tg} 30^\circ \operatorname{tg} 60^\circ}{\sin^2 60^\circ - \operatorname{tg} 45^\circ \sin 30^\circ} = 8$

(7) Dans ce qui suit, trouve la valeur de x :

1) $x \cos 30^\circ = \operatorname{tg} 60^\circ$

2) $x \sin^2 45^\circ = \operatorname{tg}^2 60^\circ$

3) $4x = \cos^2 30^\circ \operatorname{tg}^2 30^\circ \operatorname{tg}^2 45^\circ$

4) $x \sin 30^\circ \cos^2 45^\circ = \cos^2 30^\circ$

4) $x \sin 45^\circ \cos 45^\circ \operatorname{tg} 60^\circ = \operatorname{tg}^2 45^\circ - \cos^2 60^\circ$

5) $x = \frac{\sin 30^\circ \cos 45^\circ + \sin 45^\circ \cos 30^\circ}{\sin 45^\circ \cos 60^\circ + \sin 45^\circ \sin 60^\circ}$

(8) Dans ce qui suit, trouve $m(\angle x)$ où x est un angle aigu :

1) $\sin^2 45^\circ = \cos x \operatorname{tg} 30^\circ$

2) $2 \sin x = \operatorname{tg}^2 60^\circ - 2 \operatorname{tg} 45^\circ$

3) $\sin x = \sin 45^\circ \cos 30^\circ + \cos 45^\circ \sin 30^\circ$

4) $\sin x \sin^2 60^\circ = 3 \sin^2 45^\circ \cos^2 45^\circ \cos 60^\circ$

5) $\operatorname{tg} x = 3 (\sin 30^\circ + \cos 30^\circ) - 4 (\sin^3 60^\circ + \cos^3 60^\circ)$

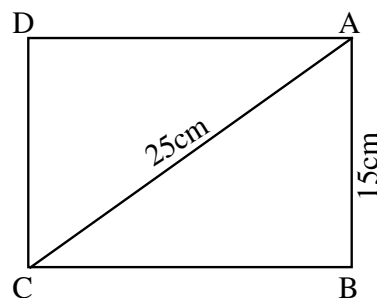
6) $3 \operatorname{tg}^2 x = 4 \sin^2 30^\circ + 8 \cos^2 60^\circ$

(9) Dans la figure ci-contre:

ABCD est un rectangle dans lequel $AB = 15 \text{ cm}$, $AC = 25 \text{ cm}$.

Trouve : 1) $m(\angle ACB)$

2) Aire du rectangle ABCD



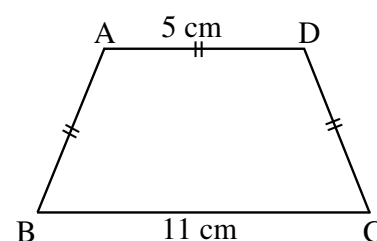
(10) Dans la figure ci-contre:

ABCD est un trapèze isocèle dans lequel

$AB = AD = DC = 5 \text{ cm}$, $BC = 11 \text{ cm}$.

Trouve : 1) $m(\angle B)$, $m(\angle A)$

2) Aire du trapèze ABCD



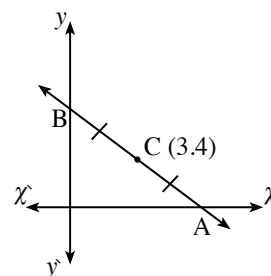
Exercices généraux sur l'unité de la géométrie analytique :

(1) Complète :

- 1) La distance entre les deux points $(9 ; 0)$ et $(4 ; 0)$ est
- 2) La distance entre les deux points $(0 ; -11)$ et $(0 ; -5)$ est
- 3) La distance entre le point $(4 ; -3)$ et le point d'origine est
- 4) La distance entre les deux points $(5 ; 0)$ et $(0 ; -12)$ est
- 5) La longueur du diamètre du cercle de centre $(8 ; 5)$ qui passe par le point $(4 ; 2) = \dots\dots$
- 6) Si la distance entre les points $(a ; 0)$ et $(0 ; 1)$ est égale à une unité de longueur, alors $a = \dots\dots$
- 7) La distance du point $(3 ; -4)$ à l'axe des abscisses = unités de longueur.
- 8) Si ABCD est un carré tel que $A(2 ; -5)$ et $B(-1 ; -1)$, alors son périmètre = unité de longueur et son aire = unité d'aire.
- 9) Le milieu du segment joignant les points $(2 ; 5)$ et $(4 ; 3)$ est le point
- 10) Si le point $(2 ; 1)$ est le milieu de \overline{AB} où $A(3 ; -4)$ et $B(m ; 6)$, alors $m = \dots\dots$
- 11) Si le point d'origine est le milieu de \overline{AB} où $A(5 ; -2)$, alors les coordonnées de $B = \dots\dots$
- 12) Si $\overline{AB} \parallel \overline{CD}$ et la pente de $\overleftrightarrow{AB} = 0,75$, alors la pente de $\overleftrightarrow{CD} = \dots\dots$
- 13) Si $\overline{AB} \perp \overline{CD}$ et la pente de $\overleftrightarrow{AB} = 0,5$, alors la pente de $\overleftrightarrow{CD} = \dots\dots$
- 14) La pente d'une droite parallèle à la droite passant par les deux points $(2 ; 3)$ et $(-2 ; 3)$ est égale à
- 15) Si la droite \overleftrightarrow{AB} est parallèle à l'axe des abscisses où $A(8 ; 3)$ et $B(2 ; k)$, alors la valeur de $k = \dots\dots$



- 16) Si la droite \overleftrightarrow{CD} est parallèle à l'axe des ordonnées où $C(m ; 4)$ et $D(-5 ; 7)$, alors la valeur de $m = \dots$
- 17) Si le triangle ABC est rectangle en B tel que $A(1 ; 4)$ et $B(-1 ; -2)$, alors la pente de $\overleftrightarrow{BC} = \dots\dots\dots$
- 18) Si la droite passant par les deux points $(a ; 0)$ et $(0 ; 3)$ et la droite qui fait un angle de mesure 30° avec le sens positif de l'axe des abscisses sont perpendiculaires, alors $a = \dots\dots\dots$
- 19) Si $y = px + c$ représente l'équation d'une droite en fonction de sa pente et la longueur de la partied de coupée par l'axe des ordonnées, alors
- l'équation de la droite pour $p = 1$ et $c = 3$ est $\dots\dots\dots$
 - l'équation de la droite pour $p = -2$ et $c = 1$ est $\dots\dots\dots$
 - l'équation de la droite pour $p = 3$ et $c = 0$ est $\dots\dots\dots$
- 20) Dans la figure ci-contre : $C(3 ; 4)$ est le milieu de AB
- $OA = \dots\dots\dots$ unité de longueur
 - $OB = \dots\dots\dots$ unité de longueur
 - La pente de $\overleftrightarrow{AB} = \dots\dots\dots$
 - La pente de $\overleftrightarrow{CO} = \dots\dots\dots$
 - La pente de $AO = \dots\dots\dots$
 - La pente de $BO = \dots\dots\dots$
 - C est le centre du cercle passant par les points $\dots\dots\dots ; \dots\dots\dots ; \dots\dots\dots$
 - L'aire du triangle $OAB = \dots\dots\dots$ unité d'aire.
 - Le périmètre du triangle $OAB = \dots\dots\dots$ unité de longueur.
 - L'équation de \overleftrightarrow{AB} est $\dots\dots\dots$
 - L'équation de \overleftrightarrow{CO} est $\dots\dots\dots$



(2) Choisis la bonne réponse:

- La distance du point $(4 ; -3)$ à l'axe des abscisses = $\dots\dots\dots$
 - 3
 - 3
 - 4
 - 5
- Si un cercle de centre le point d'origine et de rayon de 2 unités de longueur. Lequel des points suivants appartient au cercle ?
 - $(1 ; 2)$
 - $(-2 ; 1)$
 - $(\sqrt{3} ; 1)$
 - $(\sqrt{2} ; 1)$
- Si $(4 ; -3)$ est le milieu de \overleftrightarrow{AB} où $A(3 ; -4)$, alors les coordonnées de B sont $\dots\dots\dots$
 - $(5 ; -2)$
 - $(2 ; 5)$
 - $(5 ; 2)$
 - $(3,5 ; -3,5)$
- La droite d'équation $2x - 3y - 6 = 0$ coupe l'axe des ordonnées en une partie de longueur $\dots\dots\dots$
 - 6
 - 2
 - $\frac{2}{3}$
 - 2

- 5) Si les droites d'équations $3x - 4y - 3 = 0$ et $ky + 4x - 8 = 0$ sont perpendiculaires, alors la valeur de $k = \dots\dots\dots$
- a) -4 b) -3 c) 3 d) 4
- 6) Si les droites d'équations $x + y = 5$ et $kx + 2y = 0$ sont parallèles, alors la valeur de $k = \dots\dots\dots$
- a) -2 b) -1 c) 1 d) 2
- 7) L'aire du triangle délimité par les droites d'équations $3x - 4y = 12$; $x = 0$ et $y = 0$ est égale à $\dots\dots\dots$ unité d'aire
- a) 6 b) 7 c) 12 d) 15
- 8) \overleftrightarrow{AB} passe par les deux points (2 ; 5) et (5 ; 2). Lequel des points suivants $\in \overleftrightarrow{AB}$?
- a) (1 ; 6) b) (2 ; 3) c) (0 ; 0) d) (3 ; - 4)
- 9) Les points (0 ; 0) ; (3 ; 0) ; (0 ; 4)
- a) forment un triangle obtusangle b) forment un triangle acutangle
- c) forment un triangle rectangle d) sont alignés
- 10) Si ABC est un triangle rectangle en C tel que A(0 ; 0), B(5 ; 7), C(5 ; e), alors la valeur de e = ..
- a) 0 b) 5 c) 7 d) - 5

(3) Répond aux questions suivantes :

- 1) Dans chacun des cas suivants, trouve \overline{MN}
- a) M(2 ; - 1), N(5 ; 3) b) M(-3 ; - 5), N(5 ; 1)
- c) M(7 ; - 8), N(2 ; 4) d) M(7 ; - 3) , N(0 ; 4)
- 2) Dans chacun des cas suivants, trouve les coordonnées du milieu de \overline{AB} .
- a) A(2 ; 4), B(6 ; 0) b) A(7 ; - 5), B(- 3 ; 5)
- c) A(- 3 ; 6), B(3 ; - 6) d) A(7 ; - 6), B(- 1 ; 0)
- 3) Dans chacun des cas suivants, si C est le milieu de \overline{AB} , trouve les valeurs de x et de y.
- a) A(1 ; 5), B(3 ; 7), C(x ; y) b) A(- 3 ; y), B(9 ; 11), C(x ; - 3)
- c) A(x ; - 6), B(9 ; - 11), C(- 3 ; y) d) A(x ; 3), B(6 ; y), C(4 ; 6)
- 4) Trouve la pente de la droite qui fait avec le sens positif de l'axe des abscisses un angle positif de mesure :
- a) 30° ; b) 45° ; c) 60°
- 5) En utilisant une calculatrice, trouve la mesure de l'angle positif que fait une droite ayant pour pente p avec le sens positif de l'axe des abscisses dans chacun des cas suivants :
- a) $p = 0,3673$ b) $p = 1,0246$ c) $p = 3,1648$



- 6) Démontre que les points $A(3 ; -1)$, $B(-4 ; 6)$, $C(2 ; -2)$ sont situés sur un cercle de centre $M(-1 ; 2)$, puis calcule le périmètre du cercle.
- 7) Dans chacun des cas suivants, trouve la valeur de a
- a) Si la distance entre les points $(a ; 7)$ et $(-2 ; 3)$ est égale à 5.
 - b) Si la distance entre les points $(a ; 7)$ et $(3a - 1 ; -5)$ est égale à 13.
- 8) Si $A(x ; 3)$, $B(3 ; 2)$, $C(5 ; 1)$ et $AB = BC$, trouve la valeur de x .
- 9) Si les points $(0 ; 1)$, $(a ; 3)$, $(2 ; 5)$ sont alignés, trouve la valeur de a .
- 10) Si la distance du point $(x ; 5)$ au point $(6 ; 1)$ est égale à $2\sqrt{5}$, trouve la valeur de x .
- 11) Lesquels des groupes des points suivants sont alignés ?
- a) $A(-1 ; 5)$, $B(0 ; -3)$, $C(2 ; 1)$
 - b) $A(-2 ; 1)$, $B(2 ; 3)$, $C(4 ; 4)$
 - c) $A(0 ; 2)$, $B(4 ; 8)$, $C(6 ; 11)$
- 12) Détermine la nature du triangle ayant pour sommets $A(-2 ; 4)$, $B(3 ; -1)$, $C(4 ; 5)$ par rapport à ses côtés.
- 13) Démontre que le triangle ayant pour sommets $A(5 ; -5)$, $B(-1 ; 7)$, $C(15 ; 15)$ est rectangle en B , puis calcule son aire.
- 14) Démontre que les points $(5 ; 3)$, $(6 ; -2)$, $(1 ; -1)$, $(0 ; 4)$ sont les sommets d'un losange, puis calcule son aire.
- 15) Démontre que les points $A(-2 ; 5)$, $B(3 ; 3)$, $C(-4 ; 2)$ ne sont pas alignés et si $D(-9 ; 4)$, démontre que $ABCD$ est un parallélogramme.
- 16) Soient $A(5 ; -6)$, $B(3 ; 7)$, $C(1 ; -3)$. Trouve l'équation de la droite passant par A et le milieu de \overline{BC} .
- 17) Trouve l'équation de la droite passant par le point $(3 ; -5)$ et parallèle à la droite d'équation $x + 2y - 7 = 0$.
- 18) Trouve l'équation de la droite qui coupe les axes des abscisses et des ordonnées en deux parties positives de longueurs 4 et 9 respectivement.

- 19) Si $A(1 ; -6)$, $B(9 ; 2)$, trouve les coordonnées des points qui partagent \overline{AB} en quatre segments de même longueur.
- 20) Démontre que les points $A(6 ; 0)$, $B(2 ; -4)$, $C(-4 ; 2)$ sont les sommets d'un triangle rectangle en B, puis trouve les coordonnées du point D pour que ABCD soit un rectangle .
- 21) Si $A(3 ; 2)$, $B(4 ; -3)$, $C(-1 ; -2)$, $D(-2 ; 3)$ sont les sommets d'un losange. Trouve
- les coordonnées du point d'intersection de ses diagonales.
 - aire du losange ABCD.
- 22) Si $A(-1 ; -1)$, $B(2 ; 3)$, $C(6 ; 0)$, $D(3 ; -4)$, démontre que \overline{AC} et \overline{BD} se coupent en leur milieu. Quelle est la nature de la figure ?
- 23) ABCD est un parallélogramme tel que $A(3 ; 4)$, $B(2 ; -1)$, $C(-4 ; -3)$. Trouve les coordonnées du point D, puis trouve les coordonnées du point E pour que ABCE soit un trapèze dans lequel $\overline{AE} \parallel \overline{BC}$ et $AE = 2 BC$.
- 24) Si la droite L_1 passe par les deux points $(3 ; 1)$, $(2 ; k)$ et la droite L_2 fait avec le sens positif de l'axe des abscisses un angle de mesure 45° , trouve la valeur de k sachant que L_1 et L_2 sont
- parallèles
 - perpendiculaires
- 25) En utilisant la pente, démontre que les points $A(-1 ; 3)$, $B(5 ; 1)$, $C(6 ; 4)$, $D(0 ; 6)$ sont les sommets d'un rectangle.



Modèles d'examens de la géométrie et le trigonométrie

Modèle (1)

1) Complète :

- 1) Soient A (1 ; 2) et B (3 ; 4), alors les coordonnées du milieu de \overline{AB} est
- 2) L'équation de la droite passant par le point (-2 ; 3) et parallèle à l'axe des abscisses est
- 3) Si X et Y sont les mesures de deux angles complémentaires telles que $X : Y = 1 : 2$, alors $\sin X + \cos Y = \dots\dots\dots$
- 4) La distance entre les deux points (6 ; 0) et (-4 ; 0) est égale à
- 5) Si le point (0 ; a) appartient à la droite $3x - 4y + 12 = 0$, alors $a = \dots\dots\dots$
- 6) Si $\overleftrightarrow{AB} \parallel \overleftrightarrow{CD}$ et si la pente de $\overleftrightarrow{AB} = \frac{2}{3}$, alors la pente de \overleftrightarrow{CD} est égale à

(2) Choisis la bonne réponse :

- 1) Si $\cos 2x = \dots\dots\dots$, alors $m(\angle x) = \dots\dots\dots$
a) 15° b) 30° c) 45° d) 60°
- 2) La pente de la droite d'équation $2x - 3y + 5 = 0$ est
- a) $-\frac{3}{2}$ b) $-\frac{2}{3}$ c) $\frac{2}{3}$ d) $\frac{3}{2}$
- 3) La longueur du segment joignant les deux points (0 ; 0) et (5 ; 12) est
- a) 5 b) 7 c) 12 d) 13
- 4) $\tan 45^\circ = \dots\dots\dots$
a) $\sqrt{3}$ b) $\frac{1}{\sqrt{3}}$ c) 1 d) $\frac{1}{2}$
- 5) Si ABC est un triangle rectangle en B, alors $\sin A + \cos C = \dots\dots\dots$
a) $2 \sin A$ b) $2 \sin C$ c) $2 \sin B$ d) $2 \cos A$

6) $\text{tg } 45^\circ \sin 30^\circ = \dots$

a) $\frac{1}{2}$

b) 1

c) $\frac{2}{3}$

d) $\frac{1}{4}$

(3) a) ABC est un triangle rectangle en B tel que $2AB = \sqrt{3} AC$. Trouve les rapports trigonométriques de l'angle C.

b) Détermine l'équation passant par le point (2 ; -1) qui est parallèle à la droite d'équation $2x - y + 5 = 0$.

(4) a) Démontre que : $\cos 60^\circ = \cos^2 30^\circ - \sin^2 30^\circ$

b) ABCD est un parallélogramme de centre E tel que A(3 ; -1), B(6 ; 2), C(1 ; 7). Trouve
i) les coordonnées de E et D ii) DE

(5) a) Démontre que : $\text{tg } 60^\circ = 2\text{tg}30^\circ : (1 - \text{tg}^2 30^\circ)$

b) Détermine la pente et la partie découpée par l'axe des ordonnées de la droite d'équation $\frac{x}{2} + \frac{y}{3} = 1$

Modèle (2)

1) Complète :

- 1) Si les droites $2x + by + 3 = 0$ et $3x - y + 2 = 0$ sont perpendiculaires, alors la valeur de $b = \dots\dots$
- 2) Si $\sin X = 0,5$ où X est un angle aigu, alors $m(\angle X) = \dots\dots\dots^\circ$
- 3) La distance entre les deux points $(5 ; 0)$ et $(0 ; -12)$ est $\dots\dots\dots$
- 4) $\sin 60^\circ + \cos 30^\circ - \operatorname{tg} 60^\circ = \dots\dots\dots$
- 5) Si les deux droites d'équations $kx - 2y + 3 = 0$ et $6x + 3y - 5 = 0$ sont parallèles, alors $k = \dots\dots\dots$
- 6) La pente de la droite perpendiculaire à la droite passant par les deux points $(2 ; 6)$ et $(-4 ; 1)$ est $\dots\dots\dots$

(2) Choisis la bonne réponse :

- 1) $2 \sin 30^\circ \cos 30^\circ = \dots\dots\dots$
 a) $\sin 60^\circ$ b) $\cos 60^\circ$ c) $\operatorname{tg} 60^\circ$ d) $2 \sin 60^\circ$
- 2) Les points $(-3 ; 0)$, $(0 ; 3)$ et $(3 ; 0)$ sont les sommets d'un triangle
 a) quelconque b) équilatéral c) obtusangle d) rectangle isocèle
- 3) L'équation de la droite passant par le point $(2 ; -3)$ et parallèle à l'axe des abscisses est $\dots\dots\dots$
 a) $x = -2$ b) $y = -3$ c) $x = 2$ d) $y = 3$
- 4) Si les droites d'équations $x + 3y - 6 = 0$ et $ax - 3y + 7 = 0$ sont parallèles, alors la valeur de $a = \dots\dots$
 a) 2 b) 9 c) 4 d) 1

5) Si le point (0 ; 4) se trouve au milieu de la distance entre les deux points (-1 ; -1) et

(x ; y), alors les coordonnées du point (x ; y) est

- a) (1 ; 9) b) (-1 ; 9) c) $(-\frac{1}{2}; \frac{3}{2}) =$ d) (-1 ; 3)

6) ABC est un triangle rectangle en B tel que AB = 3 cm et BC = 4 cm, alors

$\sin A \cos A = \dots\dots\dots$

- a) 1 b) $\frac{9}{25}$ c) $\frac{12}{25}$ d) $\frac{16}{25}$

(3) a) Trouve l'équation de la droite passant par le point (1 ; 6) et le milieu du segment AB où A(1 ; -2) et B(3 ; -4).

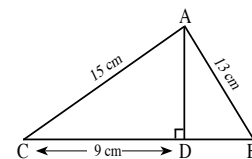
b) Démontre que : $\sin^3 30^\circ = 9\cos^3 60^\circ - \operatorname{tg}^2 45^\circ$.

(4) a) Démontre que les points A(1 ; 4), B(-1 ; -2) et C(2 ; -3) triangle rectangle en B puis trouve son aire.

b) Dans la figure ci-contre :

$\overline{AD} \perp \overline{BC}$, AB = 13 cm, AC = 15 cm, CD = 9 cm.

Trouve la valeur de : $\frac{\operatorname{tg}(\angle CAD) + \operatorname{tg}(\angle BAD)}{\operatorname{tg}(\angle CAD) - \operatorname{tg}(\angle BAD)}$ (sous la forme la plus simple)



(5) a) Détermine l'équation de la droite passant par le point (3 ; 4) et perpendiculaire à la droite d'équation $5x - 2y + 7 = 0$.

b) ABCD est un trapèze tel que $\overline{AD} \parallel \overline{BC}$, $m(\angle B) = 90^\circ$. Si AB = 3 cm, AD = 6 cm et BC = 10 cm, démontre que : $\cos(\angle DCB) - \operatorname{tg}(\angle ACB) = \frac{1}{2}$.

Modèle (3)

1) Complète :

- 1) $\cos 45^\circ + \operatorname{tg} 60^\circ - \sin 30^\circ = \dots\dots\dots$
- 2) Si A (2 ; -1) et B (5 ; 3), alors AB =
- 3) Si $L_1 : kx - 2y + 4 = 0$, $L_2 : x + 3y - 7 = 0$ et si $L_1 \perp L_2$, alors k =
- 4) $\sin 30^\circ \cos 60^\circ + \cos 30^\circ \sin 60^\circ = \dots\dots\dots$
- 5) L'équation de la droite passant par le point (-2 ; 7) et parallèle à l'axe des ordonnées est
- 6) ABC est un triangle rectangle en A tel que $\operatorname{tg} B = 1$, alors $\operatorname{tg} C \sin C \cos C = \dots\dots\dots$

(2) Choisis la bonne réponse :

- 1) L'équation de la droite passant par le point d'origine et de pente 1 est
 a) $x = 1$ b) $y = 1$ c) $y = x$ d) $y = -x$
- 2) Si $\overleftrightarrow{LM} \perp \overleftrightarrow{EO}$, (-1 ; 2) et O(0 ; 0), alors la pente de $\overleftrightarrow{LM} = \dots\dots\dots$
 a) -2 b) $-\frac{1}{2}$ c) $\frac{1}{2}$ d) 2
- 3) Si $\operatorname{tg} 3X = \sqrt{3}$ où (3X) est un angle aigu, alors $m(\angle X) = \dots\dots\dots^\circ$
 a) 10 b) 20 c) 30 d) 60
- 4) Le centre d'un cercle est le point d'origine et la longueur de son diamètre est 6 unités de longueur, alors le point qui appartient au cercle est
 a) (6 ; 0) b) (0 ; -6) c) $(\sqrt{8} ; 1)$ d) $(1 ; \sqrt{5})$

5) ABC est un triangle rectangle en C, alors $\sin B + \cos B \dots\dots\dots 1$

- a) = b) > c) < d) \leq

6) Si $\sin X = \frac{1}{2}$ où X est un angle aigu, alors $\sin 2X = \dots\dots\dots$

- a) 1 b) $\frac{1}{4}$ c) $\frac{\sqrt{3}}{2}$ d) $\frac{1}{\sqrt{3}}$

(3) a) Démontre que les points Y(2 ; 4), X(0 ; 6,8) et Z(-5 ; -1) sont les sommets d'un triangle rectangle en Y puis trouve son aire

b) ABC est un triangle tel que $AB = AC = 10$ cm, $BC = 12$ cm. $\overleftrightarrow{AD} \perp \overline{BC}$ qui se coupe en D. Démontre que : i) $\sin B + \cos C = 1,4$ ii) $\sin^2 C + \cos^2 C = 1$

(4) a) Sans utilise une calculatrice, trouve la valeur de : $\frac{\cos^2 60^\circ + \cos^2 30^\circ + \tan^2 45^\circ}{\sin 60^\circ \tan 60^\circ - \sin 30^\circ}$

b) Dans un repère une cartésien, représente graphiquement les points A(2, 3), B (-1, -1), C (3, -4) et D (6, 0), puis démontre que la figure ABCD est un carré.

(5) a) Détermine la valeur de X où $0^\circ < X < 90^\circ$

sachant que $\sin X \sin 45^\circ \cos 45^\circ \tan 60^\circ = \tan^2 45^\circ - \cos^2 60^\circ$

b) la pente d'une droite qui découpe sur l'axe des ordonnées une partie positive de

2 unités de longueur est $\frac{1}{2}$. Trouve :

- i) l'équation de la droite ii) le point d'intersection avec l'axe des abscisses.

Modèle (4)

1) Complète :

- 1) La pente d'une droite parallèle à la droite passant par les deux points (3 ; 1) et (5 ; -1) est
- 2) L'équation de la droite passant par le point d'origine qui est perpendiculaire à la droite d'équation $y = 2x$ est
- 3) La valeur de l'expression : $\sin 60^\circ \cos 30^\circ - \cos 60^\circ \sin 30^\circ = \dots\dots\dots$
- 4) Si $\operatorname{tg} 3X = 1$ où X est un angle aigu, alors $m(\angle X) = \dots\dots\dots^\circ$
- 5) La pente de la droite perpendiculaire à la droite : $3x + 4y - 9 = 0$ est
- 6) Si $\cos \frac{x}{3} = \frac{\sqrt{3}}{2}$ où $\frac{x}{3}$ est un angle aigu, alors $m(\angle X) = \dots\dots\dots^\circ$

(2) Choisis la bonne réponse :

- 1) $\sin^2 60^\circ - \cos^2 60^\circ = \dots\dots\dots$
 a) 0 b) $\frac{1}{4}$ c) $\frac{1}{2}$ d) 1
- 2) Le centre d'un cercle est le point d'origine et de rayon de 3 unités de longueur. Lequel des points suivants appartient au cercle ?
 a) (1 ; 2) b) (-2 ; $\sqrt{5}$) c) ($\sqrt{3}$; 1) d) ($\sqrt{2}$; 1)
- 3) La pente de la droite qui est parallèle à l'axe des abscisses est égale à
 a) -1 b) 0 c) 1 d) indéfinie
- 4) Si la pente de la droite d'équation $ax - y + 3 = 0$ est égale à 1, alors $a = \dots\dots\dots$
 a) $\frac{-1}{3}$ b) -1 c) $\frac{1}{3}$ d) 1
- 5) La distance entre les deux droites d'équations $y - 3 = 0$ et $y + 2 = 0$ est
- 6) Si $\sin 30^\circ = \cos X$ où X est la mesure d'un angle aigu, alors $m(\angle X) = \dots\dots\dots^\circ$
 a) 60 b) 45 c) 10 d) 30

- (3) a) \overline{AB} est un diamètre du cercle de centre M tel que B (8 ; 11) et M (5 ; 7). Détermine:
- 1) les coordonnées du point A
 - 2) La longueur de son rayon
 - 3) l'équation de la droite perpendiculaire à la droite \overleftrightarrow{AB} du point B.
- b) Détermine la valeur de X sachant que $\sin X = \sin 60^\circ \cos 30^\circ - \cos 60^\circ \sin 30^\circ$ où $0^\circ < X < 90^\circ$.
- (4) a) ABC est un triangle rectangle en C tel que AB = 10 cm et BC = 8 cm. Détermine la valeur de l'expression : $\sin A \cos B + \cos A \sin B$.
- b) Détermine l'équation de la droite passant par les deux points (2 ; 3) et (-3 ; 2).
- (5) a) Sans utiliser une calculatrice, calcule la valeur numérique de l'expression : $\cos 60^\circ \sin 30^\circ - \sin 60^\circ \cos 30^\circ$.
- b) Dans un repère cartésien, représente graphiquement les points A (1, 0), B (-1, 4), C (7, 8) et D (9, 4), puis démontre que la figure ABCD est un rectangle, ensuite calcule la longueur de son diamètre..



Modèle (5)

1) Complète :

- 1) Si $\sin(y + 7) = 0,5$, alors $m(\angle y) = \dots\dots\dots^\circ$
- 2) L'équation de la droite passant par le point $(3 ; -2)$ et parallèle à l'axe des abscisses est
 $\dots\dots\dots$
- 3) La distance du point $(4 ; 3)$ au point d'origine est $\dots\dots\dots$
- 4) Si p_1 et p_2 sont les pentes de deux droites perpendiculaires, alors $p_1 \times p_2 = \dots$
- 5) $2 \sin 30^\circ \cos 30^\circ = \sin \dots^\circ$
- 6) La droite $y = x \sin 30^\circ + c$ passe par le point $(4 ; 6)$, alors $c = \dots$

2) Choisis la bonne réponse :

- 1) Si les pentes de deux droites parallèles sont $-\frac{2}{3}$ et $\frac{k}{2}$, alors $k = \dots$
a) $\frac{-4}{3}$ b) $\frac{-3}{4}$ c) $\frac{1}{3}$ d) 3
- 2) \overline{AB} est un diamètre d'un cercle tel que A $(3 ; -5)$ et B $(5 ; 1)$, alors les coordonnées du centre du cercle est $\dots\dots\dots$
a) $(4 ; -2)$ b) $(4 ; 2)$ c) $(2 ; 2)$ d) $(8 ; -2)$
- 3) $\sin 60^\circ + \cos 30^\circ + \operatorname{tg} 60^\circ = \dots\dots\dots$
a) $-\sqrt{3}$ b) $3\sqrt{3}$ c) $\sqrt{3}$ d) $2\sqrt{3}$
- 4) Si la distance entre les deux points $(a ; 0)$ et $(0 ; 1)$ est l'unité de longueur, alors la valeur de $a = \dots\dots\dots$
a) -1 b) 0 c) 1 d) ± 1

5) Si la pente de la droite qui passe par les deux points (1 ; y) et (3 ; 4) est $\text{tg } 45^\circ$, alors

y =

- a) 1 b) -1 c) 2 d) 4

6) XYZ est un triangle rectangle en Z tel que $XY = 25$ cm, $YZ = 7$ cm et $XZ = 24$ cm, alors $\sin X + \cos Y = \dots$

- a) $\frac{31}{25}$ b) $\frac{17}{25}$ c) 2 d) 1

(3) a) L_1 et L_2 sont deux droites d'équations $2x - 3y + a = 0$ et $3x + by - 6 = 0$. Trouve

- i) la valeur de b pour que L_1 et L_2 soient parallèles.
ii) la valeur de b pour que L_1 et L_2 soient perpendiculaires.
iii) Si le point (1 ; 3) $\in L_1$, trouve la valeur de a.

b) À cause vent, la partie supérieure d'un arbre est cassée. Elle touche terre et fait un angle mesure 60° avec le sol. Si le sommet de l'arbre est situé à 4 mètres de la base de l'arbre, trouve la hauteur de l'arbre à un mètre près.

(4) a) Démontre que : $\sin 60^\circ = 2 \sin 30^\circ \cos 30^\circ$.

b) ABCD est un parallélogramme tel que A (x ; 2), B (3 ; 8), C (-4 ; 2) et D (7 ; 4).
Détermine la valeur de x.

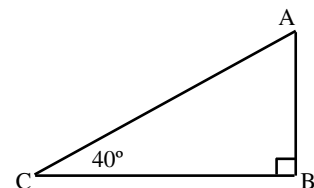
(5) a) Les sommets d'un triangle sont A (1 ; -2) , B (-4 ; 2)
et C (1 ; 6). Démontre que le triangle ABC est isocèle.

b) Dans la figure ci-contre,

$m(\angle C) = 40^\circ$ et $AC = 12$ cm.

Détermine, à un cm près

la longueur de \overline{AB} et la longueur de \overline{BC} .



تم الطبع بالشروق الحديثة - القاهرة
بالمواصفات الفنية الآتية

عدد الصفحات بالغلاف : ١٣٦ صفحة

المقاس : ٥٧ × ٨٢ سم

نوع الورق : لا يقل الداخلى عن ٨٠ جرام والغلاف ٢٠٠ جرام

ألوان الطبع : ٤ لون للداخلى والغلاف

جميع حقوق الطبع محفوظة لوزارة التربية والتعليم
داخل جمهورية مصر العربية

الشروط

الحديثة للطباعة والتغليف

القاهرة : ٨ شارع سيديو المصرى - ت : ٢٤٠٢٣٣٩٩ - فاكس : ٢٤٠٣٧٥٦٧ (٠٢)

مدينة العبور - المنطقة الصناعية